

**SET-1****Series SSO**कोड नं. **59/1**  
Code No.

रोल नं.

Roll No.

--	--	--	--	--	--	--

परीक्षार्थी कोड को उत्तर-पुस्तिका के मुख-पृष्ठ पर अवश्य लिखें ।

Candidates must write the Code on the title page of the answer-book.

- कृपया जाँच कर लें कि इस प्रश्न-पत्र में मुद्रित पृष्ठ **12** हैं ।
- प्रश्न-पत्र में दाहिने हाथ की ओर दिए गए कोड नम्बर को छात्र उत्तर-पुस्तिका के मुख-पृष्ठ पर लिखें ।
- कृपया जाँच कर लें कि इस प्रश्न-पत्र में **27** प्रश्न हैं ।
- कृपया प्रश्न का उत्तर लिखना शुरू करने से पहले, प्रश्न का क्रमांक अवश्य लिखें ।
- इस प्रश्न-पत्र को पढ़ने के लिए 15 मिनट का समय दिया गया है । प्रश्न-पत्र का वितरण पूर्वाह्न में 10.15 बजे किया जाएगा । 10.15 बजे से 10.30 बजे तक छात्र केवल प्रश्न-पत्र को पढ़ेंगे और इस अवधि के दौरान वे उत्तर-पुस्तिका पर कोई उत्तर नहीं लिखेंगे ।
- Please check that this question paper contains **12** printed pages.
- Code number given on the right hand side of the question paper should be written on the title page of the answer-book by the candidate.
- Please check that this question paper contains **27** questions.
- **Please write down the Serial Number of the question before attempting it.**
- 15 minute time has been allotted to read this question paper. The question paper will be distributed at 10.15 a.m. From 10.15 a.m. to 10.30 a.m., the students will read the question paper only and will not write any answer on the answer-book during this period.

## राजनीति विज्ञान

### POLITICAL SCIENCE

निर्धारित समय : 3 घण्टे

Time allowed : 3 hours

अधिकतम अंक : 100

Maximum Marks : 100

59/1

1

P.T.O.

**सामान्य निर्देश :**

- (i) सभी प्रश्न अनिवार्य हैं ।
- (ii) प्रश्न संख्या 1 – 5 तक प्रत्येक एक अंक के हैं । इन प्रश्नों के उत्तर प्रत्येक 20 शब्दों से अधिक नहीं होने चाहिए ।
- (iii) प्रश्न संख्या 6 – 10 तक प्रत्येक दो अंकों के हैं । इन प्रश्नों के उत्तर प्रत्येक 40 शब्दों से अधिक नहीं होने चाहिए ।
- (iv) प्रश्न संख्या 11 – 16 तक प्रत्येक चार अंकों के हैं । इन प्रश्नों के उत्तर प्रत्येक 100 शब्दों से अधिक नहीं होने चाहिए ।
- (v) प्रश्न संख्या 17 – 21 तक प्रत्येक पाँच अंकों के हैं । इन प्रश्नों के उत्तर प्रत्येक 150 शब्दों से अधिक नहीं होने चाहिए ।
- (vi) प्रश्न संख्या 21 मानचित्र पर आधारित प्रश्न है । इसके उत्तर अपनी उत्तर-पुस्तिका में लिखिए ।
- (vii) प्रश्न संख्या 22 – 27 तक प्रत्येक छः अंकों के हैं । इन प्रश्नों के उत्तर प्रत्येक 150 शब्दों से अधिक नहीं होने चाहिए ।

**General Instructions :**

- (i) All questions are compulsory.
- (ii) Questions number 1 – 5 are of 1 mark each. The answers to these questions should not exceed 20 words each.
- (iii) Questions number 6 – 10 are of 2 marks each. The answers to these questions should not exceed 40 words each.
- (iv) Questions number 11 – 16 are of 4 marks each. The answers to these questions should not exceed 100 words each.
- (v) Questions number 17 – 21 are of 5 marks each. The answers to these questions should not exceed 150 words each.
- (vi) Question number 21 is a map-based question. Write its answers in your answer-book.
- (vii) Questions number 22 – 27 are of 6 marks each. The answers to these questions should not exceed 150 words each.

1. संयुक्त राज्य अमेरिका ने 9/11 के हमलों का जवाब कैसे दिया ? 1  
How did the U.S. respond to the 9/11 attacks ?

2. सोवियत अर्थव्यवस्था तथा पूँजीवादी अर्थव्यवस्था के बीच किसी एक प्रमुख अन्तर को उजागर कीजिए । 1

Highlight any one major distinction between the Soviet economy and the Capitalist economy.

3. आप कहाँ तक सहमत हैं कि आपातकाल की घोषणा ने भारत में शक्तियों के संघात्मक वितरण को कमज़ोर किया है ? 1  
How far do you agree that the proclamation of emergency weakened the federal distribution of power in India ?
4. “क्षेत्रवाद सांप्रदायिकता के समान खतरनाक नहीं है ।” न्यायोचित ठहराइए । 1  
Justify that “Regionalism is not as dangerous as Communalism”.
5. कुछ लोग ऐसा क्यों सोचते हैं कि धारा 370 को समाप्त कर देना चाहिए ? 1  
Why do some people feel that Article 370 should be revoked ?
6. वैश्वीकरण के किन्हीं दो लाभों का उल्लेख कीजिए । 2×1=2  
Mention any two benefits of globalisation.
7. पाकिस्तान से अच्छे सम्बन्ध बनाने के लिए कोई दो उपाय सुझाइए । 2×1=2  
Suggest any two measures to have good relations with Pakistan.
8. कांग्रेस की किस विशिष्टता ने भारत के स्वतंत्रता आन्दोलन के दौरान, इसे एक विचारात्मक गठबन्धन बनाया ? 2  
Which characteristics made the Congress an ideological coalition during the freedom movement of India ?
9. रियो सम्मेलन के सबसे महत्वपूर्ण परिणाम की पहचान कीजिए । 2  
Identify the most important outcome of the Rio Summit.
10. सोवियत संघ के विघटन से संयुक्त राज्य अमेरिका कैसे लाभान्वित हुआ ? 2  
How was the U.S. benefited by the Soviet disintegration ?
11. 1980 के पश्चात् भारतीय किसान यूनियन द्वारा की गई किन्हीं चार माँगों का वर्णन कीजिए । 4×1=4  
Describe any four demands made by the Bharatiya Kisan Union after 1980.
12. प्रथम पंचवर्षीय योजना और द्वितीय पंचवर्षीय योजना के बीच कोई दो अन्तर लिखिए । 2×2=4  
State any two differences between the First Five Year Plan and the Second Five Year Plan.
13. तिब्बतियों को चीन छोड़ने के लिए विवश करने वाली परिस्थितियों की व्याख्या कीजिए । तिब्बती शरणार्थियों की सहायता करने में भारत की भूमिका को उजागर कीजिए । 2+2=4  
Explain the circumstances that forced the Tibetans to leave China. Highlight India's role in helping the Tibetan refugees.

14. पारम्परिक सुरक्षा की आंतरिक एवं बाह्य धारणा में अन्तर स्पष्ट कीजिए । 2+2=4  
Distinguish between the internal and external notion of traditional security.
15. गठबंधन सरकारें एक-दलीय सरकारों की तुलना में किस प्रकार अधिक लोकतांत्रिक सिद्ध होती हैं ? 4  
In what way do the coalition governments prove to be more democratic than the one-party governments ?
16. “लोकतन्त्र दक्षिण एशिया के लोगों की पहली पसन्द बनता जा रहा है ।” इस कथन को न्यायोचित ठहराइए । 4  
“Democracy is becoming the first choice of the people of South Asia.” Justify the statement.
17. नीचे दिए गए अवतरण का ध्यानपूर्वक अध्ययन कीजिए और निम्नलिखित प्रश्नों के उत्तर दीजिए :  
सबसे बड़ी बात यह है कि भाषावार राज्यों के पुनर्गठन से विभिन्नता के सिद्धान्त को स्वीकृति मिली । जब हम कहते हैं कि भारत ने लोकतंत्र अपनाया है, तो इसका सीधा-सा मतलब इतना भर नहीं होता कि भारत में लोकतांत्रिक संविधान पर अमल होता है अथवा भारत में चुनाव करवाए जाते हैं । भारत के लोकतांत्रिक होने का एक वृहतर अर्थ है । लोकतंत्र को चुनने का अर्थ था विभिन्नताओं को पहचानना और उन्हें स्वीकार करना । साथ ही, यह मानकर चलना कि विभिन्नताओं में आपसी विरोध भी हो सकते हैं । दूसरे शब्दों में कहें तो भारत में लोकतंत्र की धारणा विचारों और जीवन-पद्धतियों की बहुलता से जुड़ी हुई थी ।
- (i) ‘भाषाई राज्यों’ से क्या अभिप्राय है ?  
(ii) भारत में भाषावार राज्य क्यों बनाए गए ? कोई दो कारण स्पष्ट कीजिए ।  
(iii) भारत में लोकतंत्र को किस प्रकार विचारों और जीवन-पद्धतियों की बहुलता से जोड़ा गया है ? 1+2+2=5

Read the given passage carefully and answer the following questions :

Above all, the linguistic states underlined the acceptance of the principle of diversity. When we say that India adopted democracy, it does not simply mean that India embraced a democratic constitution, nor does it merely mean that India adopted the format of elections. The choice was larger than that. It was a choice in favour of recognising and accepting the existence of differences which could at times be oppositional. Democracy, in other words, was associated with plurality of ideas and ways of life.

- (i) What is meant by ‘linguistic states’ ?  
(ii) Why were linguistic states formed in India ? Explain any two reasons.  
(iii) How is democracy in India associated with plurality of ideas and ways of life ?

18. नीचे दिए गए अवतरण का ध्यानपूर्वक अध्ययन कीजिए और निम्नलिखित प्रश्नों के उत्तर दीजिए :

नक्सलवादी आंदोलन ने धनी भू-स्वामियों से बलपूर्वक ज़मीन छीनकर गरीब और भूमिहीन लोगों को दी। इस आंदोलन के समर्थक अपने राजनीतिक लक्ष्यों को हासिल करने के लिए हिंसक साधनों के इस्तेमाल के पक्ष में दलील देते थे। इस वक्त .... पश्चिम बंगाल सरकार ने निरोधक नज़रबन्दी समेत कई कड़े कदम उठाए, लेकिन नक्सलवादी आंदोलन रुक न सका। बाद के सालों में यह देश के कई अन्य भागों में फैल गया।

- (i) नक्सलवादियों ने हिंसा के प्रयोग को प्राथमिकता क्यों दी ?
- (ii) हिंसा के इस्तेमाल के बावजूद, नक्सलवादी आंदोलन की सकारात्मक भूमिका का आकलन कीजिए।
- (iii) इस आंदोलन को रोकने के कोई दो उपाय सुझाइए। 1+2+2=5

Read the given passage carefully and answer the following questions :

The Naxalite Movement has used force to snatch land from the rich landowners and give it to the poor and the landless. Its supporters advocated the use of violent means to achieve their political goals. In spite of the use of preventive detention and other strong measures adopted by the West Bengal government ....., the Naxalite Movement did not come to an end. In later years, it spread to many other parts of the country.

- (i) Why did the Naxalites prefer to use violence ?
- (ii) Assess the positive role of the Naxalite Movement in spite of using violence.
- (iii) Suggest any two measures to contain this movement.

19. नीचे दिए गए अवतरण का ध्यानपूर्वक अध्ययन कीजिए और निम्नलिखित प्रश्नों के उत्तर दीजिए :

गुटनिरपेक्षता की नीति शीत युद्ध के संदर्भ में पनपी थी। .... सोवियत संघ के विघटन और 1991 में शीत युद्ध की समाप्ति के साथ ही, एक अंतर्राष्ट्रीय आंदोलन और भारत की विदेश नीति की मूल भावना के रूप में गुटनिरपेक्षता की प्रासंगिकता तथा प्रभावकारिता में थोड़ी कमी आयी।


- (i) भारत ने गुटनिरपेक्षता की नीति को क्यों अपनाया ?
- (ii) गुटनिरपेक्ष आंदोलन की प्रासंगिकता में कमी आने के किन्हीं दो कारणों को स्पष्ट कीजिए।
- (iii) आप कहाँ तक सहमत हैं कि गुटनिरपेक्ष आंदोलन, एक अंतर्राष्ट्रीय आंदोलन बन गया है ? 1+2+2=5

Read the given passage carefully and answer the following questions :

Non-alignment as a strategy evolved in the Cold War context. .... with the disintegration of USSR and the end of Cold War in 1991, non-alignment, both, as an international movement and as the core of India's foreign policy, lost some of its earlier relevance and effectiveness.

- (i) Why did India adopt non-alignment ?
- (ii) Explain any two reasons for the loss of its relevance by the Non-Aligned Movement.
- (iii) How far do you agree that the Non-Aligned Movement has become an international movement ?

20. नीचे दिए गए कार्टून का ध्यानपूर्वक अध्ययन कीजिए तथा निम्नलिखित प्रश्नों के उत्तर दीजिए :




- (i) यह कार्टून किस देश से संबंधित है ?
- (ii) इस कार्टून में दिए गए किन दो प्रतीकों ने संबंधित देश को पहचानने में आपकी सहायता की है ?
- (iii) यह कार्टून संबंधित देश को, अन्तर्राष्ट्रीय सत्ता की राजनीति में किस स्थान पर रखता है ?

1+2+2=5



Study the cartoon given below carefully and answer the following questions :



- (i) Which country does the given cartoon refer to ?
- (ii) Identify the two symbols in this cartoon which have given you the clue about the related country.
- (iii) Where does the cartoon place the related country in the international power politics ?

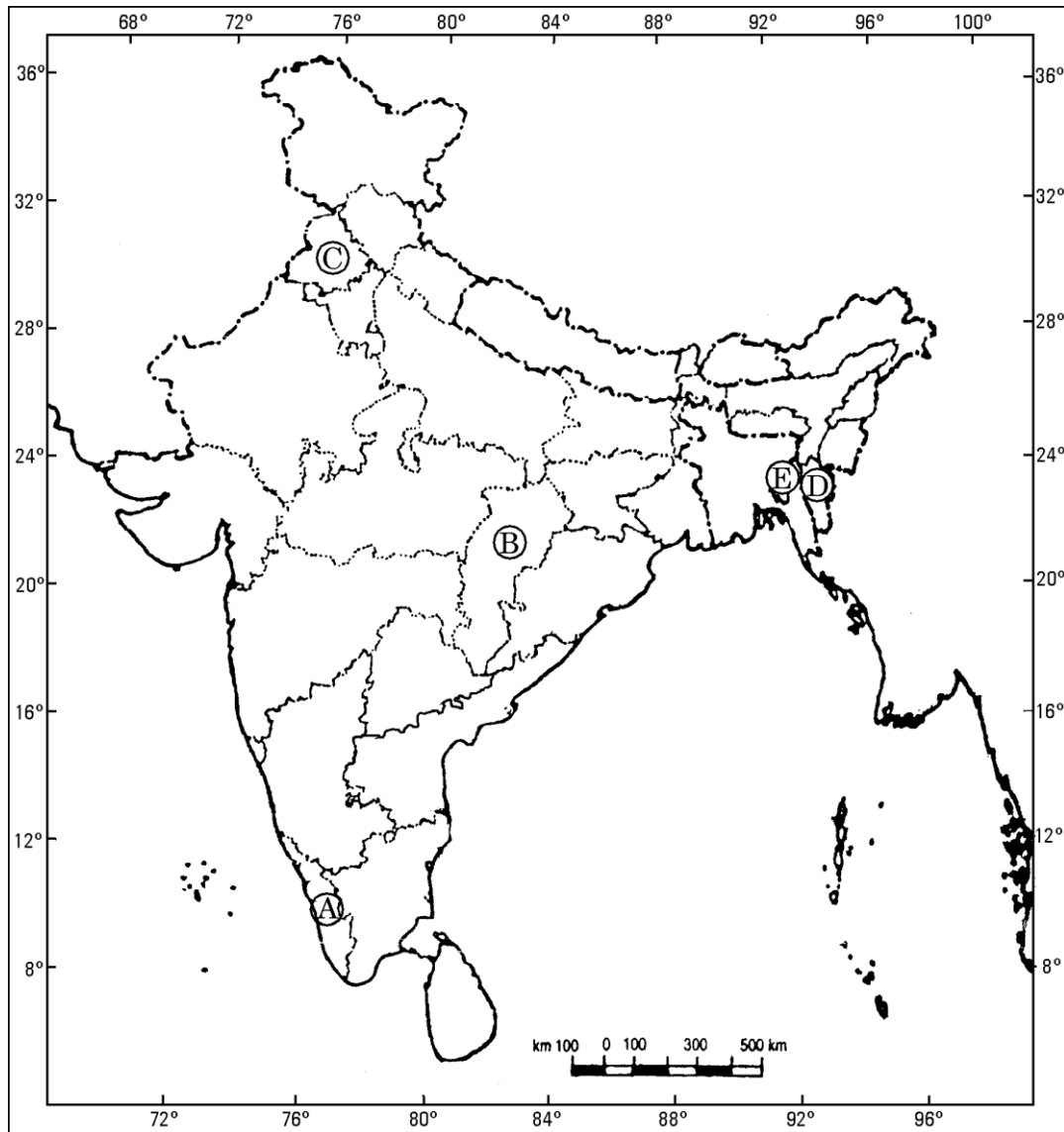
**नोट :** निम्नलिखित प्रश्न केवल दृष्टिबाधित परीक्षार्थियों के लिए, प्रश्न संख्या 20 के स्थान पर हैं ।

**Note :** The following questions are for the **Visually Impaired Candidates only**, in lieu of Question No. 20.

- (20.1) साम्यवादी दल द्वारा शासित एशिया के किसी एक देश का नाम लिखिए ।
- (20.2) दो ऐसे एशियाई देशों के नाम लिखिए, जो स्वयं को विश्व की उभरती हुई शक्तियाँ समझते हैं ।
- (20.3) चीन सरकार द्वारा अपनी अर्थव्यवस्था में वैश्विक स्तर पर खुलापन लाने के लिए उठाए गए किन्हीं दो कदमों का मूल्यांकन कीजिए । 1+2+2=5
- (20.1) Name any one country of Asia ruled by the Communist Party.
- (20.2) Which two Asian countries consider themselves as the emerging global powers ?
- (20.3) Evaluate any two steps taken by the Chinese government to open its economy to the world.

21. दिए गए भारत के राजनीतिक रेखा-मानचित्र में, पाँच राज्यों को (A), (B), (C), (D) तथा (E) द्वारा चिह्नित किया गया है। नीचे दी गई जानकारी के आधार पर इनकी पहचान कीजिए और उत्तर-पुस्तिका में उनके सही नाम, उनकी क्रम संख्या तथा सम्बन्धित अक्षर सहित लिखिए :

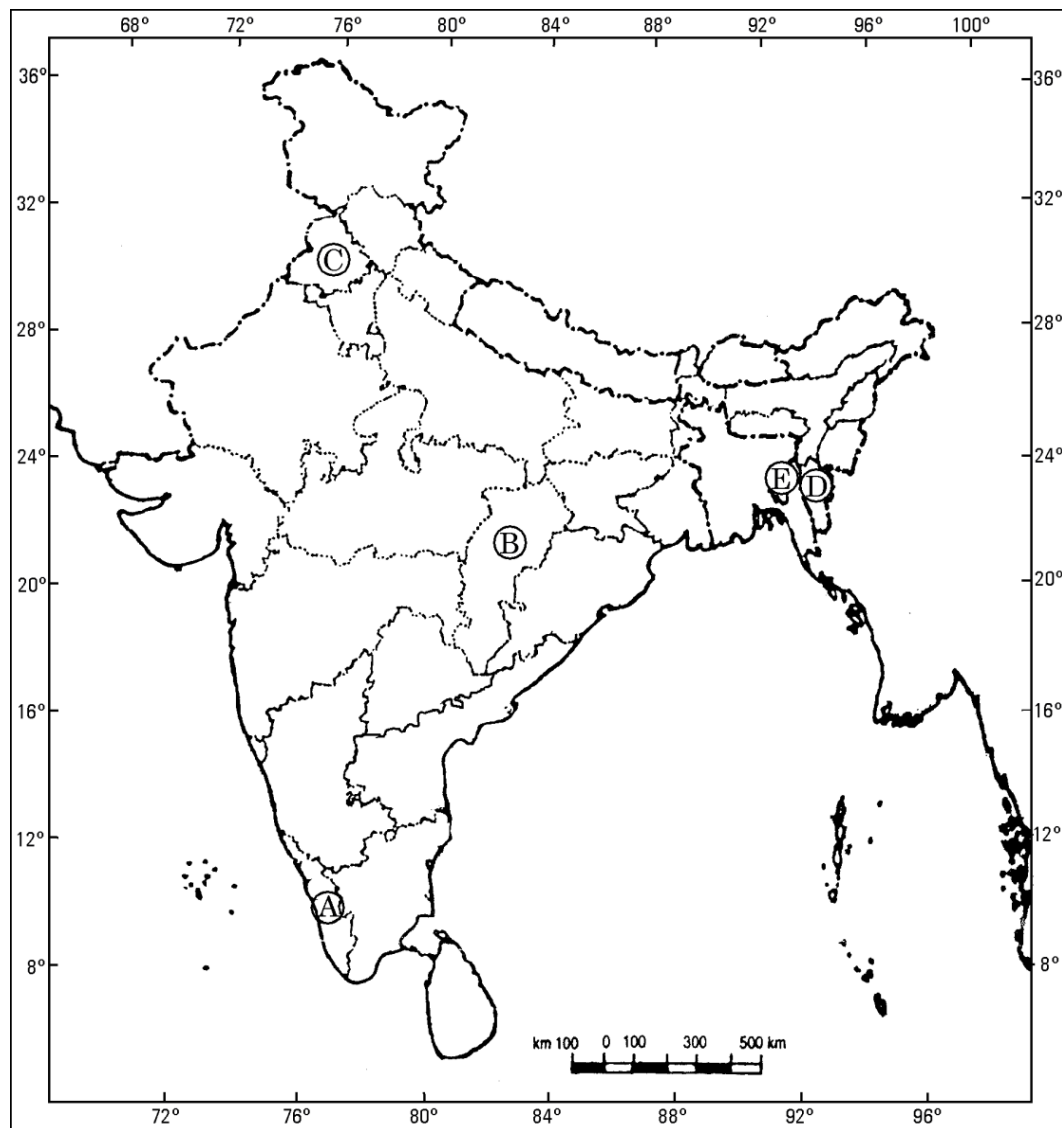
5×1=5



- वह राज्य जिसे मध्य प्रदेश में से काट कर बनाया गया है।
- वह राज्य जिसने स्वतंत्रता के पश्चात् भारत में अपने विलय का विरोध किया था।
- स्वतंत्र भारत में साम्यवादी सरकार द्वारा शासित पहला राज्य।
- 1971 से पूर्व पाकिस्तानी सीमा से सटा हुआ राज्य।
- हरित क्रान्ति के कारण कृषि के क्षेत्र में समृद्ध बनने वाला राज्य।



In the given political outline map of **India**, five States are marked as (A), (B), (C), (D) and (E). Identify them on the basis of the information given below and write their correct names in your answer-book with their respective serial numbers and the alphabets concerned :



- (i) The State which was carved out of Madhya Pradesh.
- (ii) The State which opposed its merger with India after independence.
- (iii) The first State of free India having a Communist government.
- (iv) The State adjoining Pakistan territory up to 1971.
- (v) The State which became agriculturally prosperous due to Green Revolution.

**नोट :** निम्नलिखित प्रश्न केवल दृष्टिबाधित परीक्षार्थियों के लिए, प्रश्न संख्या 21 के स्थान पर हैं ।

**Note :** The following questions are for the **Visually Impaired Candidates only**, in lieu of Question No. 21.

(21.1) स्वतंत्रता से पूर्व 'द्वि-राष्ट्र का सिद्धान्त' किस राजनीतिक दल ने दिया था ?

(21.2) ऐसे चार रजवाड़ों के नाम लिखिए जिन्होंने स्वतंत्रता के पश्चात् भारतीय संघ में विलय का विरोध किया था ?

(21.3) उत्तर प्रदेश और पंजाब से काट कर बनाए जाने वाले एक-एक राज्य का नाम लिखिए । 1+2+2=5

(21.1) Which political party advanced the 'Two Nation Theory' before independence ?

(21.2) Name four Princely States which resisted their merger with the Indian Union.

(21.3) Name one State each which was carved out of Uttar Pradesh and Punjab.

**22.** भारत सरकार द्वारा पर्यावरण के निम्नीकरण को रोकने के लिए उठाए गए किन्हीं तीन कदमों का वर्णन कीजिए । 3×2=6

**अथवा**

किसी देश की संस्कृति पर वैश्वीकरण के होने वाले किन्हीं तीन प्रभावों का वर्णन कीजिए । 3×2=6

Describe any three steps taken by the Indian Government to check the environmental degradation.

**OR**

Describe any three effects of globalisation on the culture of a country.

23. बीसवीं सदी के अन्तिम दशक में भारतीय राजनीति में कौन-सी तीन प्रमुख घटनाएँ घटीं ? वर्णन कीजिए । 6

**अथवा**

भारत की स्वतंत्रता से लेकर, सिक्किम के भारत में विलय तक की कहानी का संक्षिप्त वर्णन कीजिए । 6

Which three major developments took place in Indian politics during the last decade of the 20<sup>th</sup> century ? Describe.

**OR**

Briefly describe the story of Sikkim from the time of India's independence to its merger with India.

24. 1969 में कांग्रेस पार्टी के विभाजन के किन्हीं तीन कारणों को स्पष्ट कीजिए । 3×2=6

**अथवा**

1980 के मध्यावधि चुनावों के लिए उत्तरदायी परिस्थितियों की व्याख्या कीजिए । 6

Explain any three causes of the split in the Congress Party in 1969.

**OR**

Explain the circumstances that led to the mid-term elections in 1980.

25. मान लीजिए कि शीत युद्ध नहीं होता, तो ऐसी स्थिति में भारत की विदेश नीति पर क्या प्रभाव पड़ता ? 6

**अथवा**

यदि सोवियत संघ का विघटन नहीं होता और विश्व द्वि-ध्रुवीय बना रहता, तो ऐसी स्थिति में विश्व राजनीति पर क्या प्रभाव पड़ता ? 6

Suppose there had been no Cold War, how would that situation have affected India's foreign policy ?

**OR**

If the Soviet Union had not disintegrated and the world had remained bipolar, how would that situation have affected the world politics ?

26. संयुक्त राष्ट्र सुरक्षा परिषद में भारत की स्थायी सदस्यता के पक्ष में कोई तीन उपयुक्त तर्क दीजिए । 3×2=6

**अथवा**

तीसरी दुनिया के लोगों के समक्ष आने वाले खतरे किस प्रकार पहली दुनिया में रहने वाले लोगों के खतरों से अलग हैं ? अपने उत्तर के पक्ष में उदाहरण दीजिए । 6

Give any three suitable arguments to support India's candidature for the permanent membership of the U.N. Security Council.

**OR**

How are the threats faced by the people in the Third World different from those faced by the people living in the First World ? Support your answer with examples.

27. संयुक्त राज्य अमेरिका के वर्चस्व के विश्व पर राजनीतिक प्रभावों का विश्लेषण कीजिए । 6

**अथवा**

यूरोपीय संघ के अति प्रभावशाली क्षेत्रीय संगठन बनने के लिए उत्तरदायी किन्हीं तीन कारकों का विश्लेषण कीजिए । 3×2=6

Analyse the political impact of hegemony of the U.S. on the world.

**OR**

Analyse any three factors responsible for the European Union to be a highly influential regional organisation.