

Candidates have to do questions 31 to 90 EITHER from Part II (Mathematics and Science) OR from Part III (Social Studies/Social Science).

परीक्षार्थियों को प्रश्न 31 से 90 या तो भाग II (गणित व विज्ञान) या भाग III (सामाजिक अध्ययन / सामाजिक विज्ञान) से करने हैं।

PART III / भाग III

SOCIAL STUDIES / SOCIAL SCIENCE (सामाजिक अध्ययन / सामाजिक विज्ञान)

Directions : Answer the following questions by selecting the most appropriate option.

निर्देश : निम्नलिखित प्रश्नों के उत्तर देने के लिए सबसे उचित विकल्प चुनिए।

31. In some areas people started living in villages about 8000 years ago. Which of the following were among these areas ?

- (1) Areas around Narmada
- (2) Sulaiman and Kirthar hills
- (3) Ganga and Yamuna doab
- (4) Deccan and Konkan

31. मनुष्य ने कुछ क्षेत्रों में लगभग 8000 वर्ष पहले गाँवों में रहना आरंभ किया था। निम्नलिखित में से वे क्षेत्र कौन-से थे ?

- (1) नर्मदा के आस-पास के क्षेत्र
- (2) सुलेमान तथा किरथर पहाड़ियाँ
- (3) गंगा तथा यमुना दोआब
- (4) दक्कन तथा कोंकण

32. Which of the following areas was known as Magadh in the ancient period ?

- (1) South of Ganga
- (2) Between Ganga and Yamuna
- (3) North of Ganga
- (4) Between Yamuna and Chambal

32. निम्नलिखित में से कौन-सा क्षेत्र प्राचीन काल में 'मगध' के नाम से जाना जाता था ?

- (1) गंगा का दक्षिणी क्षेत्र
- (2) गंगा तथा यमुना के मध्य का क्षेत्र
- (3) गंगा का उत्तरी क्षेत्र
- (4) यमुना तथा चम्बल के मध्य का क्षेत्र

33. Bharata was a group of people mentioned in the Rigveda. They lived in

- (1) South India
- (2) North India
- (3) West India
- (4) North-West India

33. 'भरत' लोगों का एक समूह था, जिसका उल्लेख 'ऋग्वेद' में मिलता है। वे _____ में रहते थे।

- (1) दक्षिण भारत
- (2) उत्तर भारत
- (3) पश्चिम भारत
- (4) उत्तर-पश्चिम भारत

34. Rigveda was originally composed in

- (1) Prakrit
- (2) Sanskrit
- (3) Brahmi
- (4) Shauraseni

34. 'ऋग्वेद' की मूल रचना _____ भाषा में हुई थी।

- (1) प्राकृत
- (2) संस्कृत
- (3) ब्राह्मी
- (4) शौरसेनी

35. Which of the following was **not** a reason for hunter-gatherers to move from place to place ?

- (1) Staying at one place would deplete resources
- (2) To follow movement of animals which they hunted
- (3) To fight for resources with another group of hunter-gatherers
- (4) To search for water resources

36. Which period is the longest in the human history ?

- (1) Palaeolithic age
- (2) Megalithic age
- (3) Mesolithic age
- (4) Neolithic age

37. Ancient Rock Paintings have been found in

- (1) Karnataka and Tamil Nadu
- (2) Tamil Nadu and Andhra Pradesh
- (3) Andhra Pradesh and Odisha
- (4) Madhya Pradesh and Uttar Pradesh

38. Which of the following is **not** a Harappan site ?

- (1) Rakhigarhi
- (2) Sotkakah
- (3) Ganweriwala
- (4) Chirand

39. *Puru*, *Yadu* and *Bharata* are mentioned in Vedas as

- (1) Janas
- (2) Rashtras
- (3) Rajanyas
- (4) Dasyus

35. निम्नलिखित में से कौन-सा आखेटक-खाद्य संग्राहक के एक स्थान से दूसरे स्थान की ओर घूमते रहने का कारण **नहीं** था ?

- (1) एक स्थान पर रहने से संसाधनों में कमी हो जाती थी
- (2) उन जानवरों का पीछा करना, जिनका वे शिकार करते थे
- (3) संसाधनों के लिए अन्य आखेटक-खाद्य संग्राहक समूहों से संघर्ष करना
- (4) जल संसाधनों की खोज के लिए

36. मानव इतिहास में कौन-सा काल/युग सबसे लम्बा है ?

- (1) पुरापाषाण युग
- (2) महापाषाण युग
- (3) मध्यपाषाण युग
- (4) नवपाषाण युग

37. _____ में प्राचीन शैल चित्रकला मिली है ।

- (1) कर्नाटक तथा तमिल नाडु
- (2) तमिल नाडु तथा आंध्र प्रदेश
- (3) आंध्र प्रदेश तथा ओडिशा
- (4) मध्य प्रदेश तथा उत्तर प्रदेश

38. निम्नलिखित में से कौन-सा हड़प्पा का स्थल **नहीं** है ?

- (1) राखीगढ़ी
- (2) सोत्काकोह
- (3) गंवेरीवाला
- (4) चिराँद

39. 'पुरू', 'यदु' और 'भरत' का वेदों में उल्लेख _____ की तरह है ।

- (1) जन
- (2) राष्ट्र
- (3) राजन
- (4) दस्यु

40. *Shafi'i* and *Hanafi* are
- (1) Islamic architecture styles
 - (2) Places in Saudi Arabia
 - (3) Islamic schools of law
 - (4) Two Islamic rulers
41. Dantidurga, who performed a ritual called *hiranya-garbha* was a
- (1) Chola King
 - (2) Pratihara Chief
 - (3) Rashtrakuta Chief
 - (4) Pallava Chief
42. Who has written that Raziya was more able and qualified than her brothers ?
- (1) Al-Biruni
 - (2) Badayuni
 - (3) Minhaj-i-Siraj
 - (4) Ziyauddin Barani
43. In an inscription, a Delhi Sultan is said to have been chosen by the God because he had the qualities like Moses and Solomon. Who was that Delhi Sultan ?
- (1) Sikandar Lodi
 - (2) Firoz Shah Tughlaq
 - (3) Balban
 - (4) Alauddin Khilji
44. In which revenue settlement during the East India Company's rule, was the village headman made responsible to collect revenue and pay it to the Company ?
- (1) Zamindari Settlement
 - (2) Permanent Settlement
 - (3) Ryotwari Settlement
 - (4) Mahalwari Settlement
40. 'शफी' तथा 'हन्फी' हैं
- (1) इस्लामी वास्तुकला शैलियाँ
 - (2) सऊदी अरब में स्थान
 - (3) न्याय के इस्लामी सिद्धांत
 - (4) दो इस्लामी शासक
41. दाँतीदुर्गा, जिसने 'हिरण्य-गर्भ' नामक एक अनुष्ठान किया, वह था
- (1) चोल राजा
 - (2) प्रतिहार प्रधान
 - (3) राष्ट्रकूट प्रधान
 - (4) पल्लव प्रधान
42. यह किसने लिखा है कि रज़िया अपने भाइयों से कहीं अधिक योग्य तथा सक्षम थी ?
- (1) अल-बिरूनी
 - (2) बदायूनी
 - (3) मिन्हाज़-ए-सिराज़
 - (4) ज़ियाउद्दीन बरानी
43. एक शिलालेख में, कहा गया है कि दिल्ली के सुल्तान को ख़ुदा के द्वारा चुना गया है क्योंकि उसमें मोसिस तथा सोलोमन जैसे गुण विद्यमान हैं। वह दिल्ली का सुल्तान कौन था ?
- (1) सिकन्दर लोदी
 - (2) फ़िरोज़ शाह तुग़लक़
 - (3) बलबन
 - (4) अलाउद्दीन खिलजी
44. ईस्ट इंडिया कम्पनी के शासन के दौरान किस राजस्व बंदोबस्त के अंतर्गत राजस्व एकत्र करने और उसे कम्पनी को अदा करने की जिम्मेदारी गाँव के मुखिया को सौंपी गई ?
- (1) ज़मींदारी बंदोबस्त
 - (2) स्थायी बंदोबस्त
 - (3) रयतवारी बंदोबस्त
 - (4) महलवारी बंदोबस्त

45. In which ways did World War I alter the economic and political situation in India ?

- (1) Political activities of the Indian National Congress were banned for six years.
- (2) Common people got benefited as there was a sharp fall in prices.
- (3) Many princely states rebelled against British rule.
- (4) Indian industries expanded as war created a demand for industrial goods.

46. Which of the following is an example of desert ?

- (1) Ladakh
- (2) Sundarban
- (3) Konkan
- (4) Western Ghats

47. Which of the following statements regarding position of the Earth is true ?

- (1) The axis of the Earth is a definite line that makes an angle of $66\frac{1}{2}^{\circ}$ with its orbital plane.
- (2) The axis of the Earth is a definite line that makes an angle of $23\frac{1}{2}^{\circ}$ with its orbital plane.
- (3) The axis of the Earth is an imaginary line that makes an angle of $66\frac{1}{2}^{\circ}$ with its orbital plane.
- (4) The axis of the Earth is an imaginary line that makes an angle of $23\frac{1}{2}^{\circ}$ with its orbital plane.

45. प्रथम विश्व युद्ध ने किस प्रकार भारत की आर्थिक और राजनीतिक स्थिति बदल दी ?

- (1) भारतीय राष्ट्रीय कांग्रेस की राजनीतिक गतिविधियों पर छह वर्ष के लिए रोक लगा दी गई ।
- (2) कीमतों में भारी गिरावट होने से जन सामान्य लाभान्वित हुए ।
- (3) अनेक देशी रियासतों ने अंग्रेज़ी शासन के विरुद्ध बगावत कर दी ।
- (4) युद्ध ने औद्योगिक वस्तुओं की माँग में वृद्धि कर दी जिससे भारतीय उद्योगों का विस्तार हुआ ।

46. निम्नलिखित में से कौन-सा मरुस्थल का एक उदाहरण है ?

- (1) लद्दाख
- (2) सुन्दरबन
- (3) कोंकण
- (4) पश्चिमी घाट

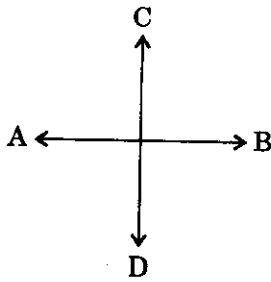
47. निम्नलिखित कथनों में से कौन-सा कथन पृथ्वी की स्थिति के सम्बन्ध में सत्य है ?

- (1) पृथ्वी की अक्ष एक वास्तविक रेखा है, जो इसके कक्षीय समतल से $66\frac{1}{2}^{\circ}$ का कोण बनाती है ।
- (2) पृथ्वी की अक्ष एक वास्तविक रेखा है, जो इसके कक्षीय समतल से $23\frac{1}{2}^{\circ}$ का कोण बनाती है ।
- (3) पृथ्वी की अक्ष एक काल्पनिक रेखा है, जो इसके कक्षीय समतल से $66\frac{1}{2}^{\circ}$ का कोण बनाती है ।
- (4) पृथ्वी की अक्ष एक काल्पनिक रेखा है, जो इसके कक्षीय समतल से $23\frac{1}{2}^{\circ}$ का कोण बनाती है ।

48. The circle of illumination is the

- (1) circle that divides the globe into two parts
- (2) circle that divides the day from night on the globe
- (3) position of the Earth on equinox when day and night are equal
- (4) position of the Sun on a particular meridian at 12 : 00 o'clock in noon

49. Conventionally direction marked 'A' represents



Cardinal directions

- (1) North
- (2) South
- (3) East
- (4) West

Lakshadweep Islands are located in the

- (1) Indian Ocean
- (2) Arabian Sea
- (3) Bay of Bengal
- (4) South China Sea

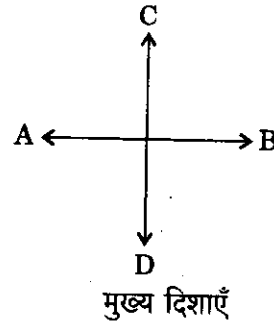
'Campos' found in Brazil is a

- (1) tribe
- (2) tropical grassland
- (3) traditional dance
- (4) tropical animal

48. प्रदीप्ति वृत्त है

- (1) वृत्त जो ग्लोब को दो भागों में विभाजित करता है
- (2) वृत्त जो ग्लोब पर दिन को रात से विभाजित करता है
- (3) विषुव पर पृथ्वी की स्थिति, जब दिन और रात बराबर होते हैं
- (4) एक विशेष मध्याह्न रेखा पर दोपहर 12 : 00 बजे सूर्य की स्थिति

49. पारंपरिक रूप से चिह्नित 'A' _____ को दर्शाता है ।



मुख्य दिशाएँ

- (1) उत्तर
- (2) दक्षिण
- (3) पूर्व
- (4) पश्चिम

50. लक्षद्वीप द्वीपसमूह _____ में स्थित है ।

- (1) हिन्द महासागर
- (2) अरब सागर
- (3) बंगाल की खाड़ी
- (4) दक्षिण चीन सागर

51. ब्राजील में पाया जाने वाला 'कंपोस' _____ है ।

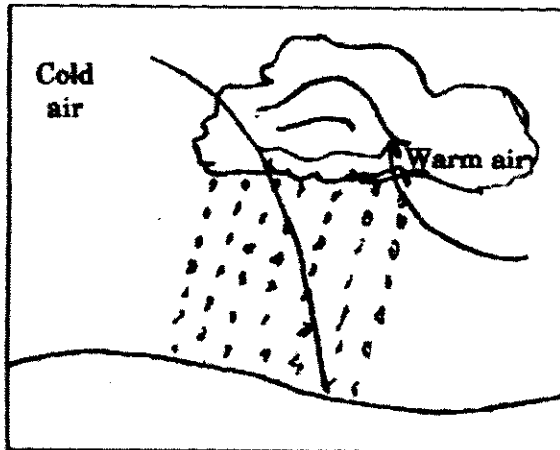
- (1) एक जनजाति
- (2) एक उष्णकटिबंधीय घास का मैदान
- (3) एक परंपरागत नृत्य
- (4) एक उष्णकटिबंधीय पशु

52. The Kolkata port is situated on/in the
- (1) Ganga Sagar
 - (2) Bay of Bengal
 - (3) River Hooghly
 - (4) River Bhagirathi

53. Which continent is least populated in the world ?
- (1) Europe
 - (2) Australia
 - (3) South America
 - (4) Africa

54. 'Gompas' found in Ladakh are
- (1) Buddhist monasteries/temples
 - (2) Variety of goat
 - (3) Variety of shawl
 - (4) Buddhist monks

55. The diagram represents



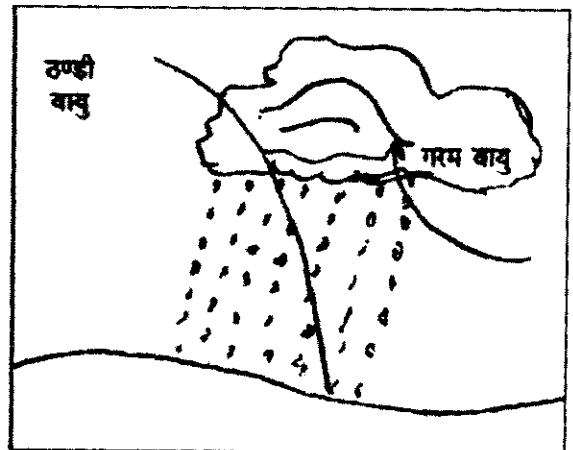
- (1) Orographic Rainfall .
- (2) Convectional Rainfall
- (3) Cyclonic Rainfall
- (4) Pre-monsoon Rainfall

52. कोलकाता बंदरगाह _____ पर/में स्थित है ।
- (1) गंगा सागर
 - (2) बंगाल की खाड़ी
 - (3) हुगली नदी
 - (4) भागीरथी नदी

53. संसार में किस महाद्वीप पर सबसे कम जनसंख्या है ?
- (1) यूरोप
 - (2) ऑस्ट्रेलिया
 - (3) दक्षिण अमेरिका
 - (4) अफ्रीका

54. लद्दाख में पाए जाने वाले 'गंपास' _____ हैं ।
- (1) बौद्ध विहार/मन्दिर
 - (2) बकरी की प्रजाति/किस्म
 - (3) शॉल की किस्म
 - (4) बौद्ध भिक्षु

55. चित्र प्रस्तुत करता है



- (1) पर्वतीय वर्षा
- (2) संवहनी वर्षा
- (3) चक्रवाती वर्षा
- (4) मानसून-पूर्व वर्षा

56. Which industry is often called backbone of modern industries ?
- (1) Petroleum
 - (2) Energy
 - (3) Transport
 - (4) Steel
57. In organic farming
- (1) chemical fertilizers are used to increase yield
 - (2) genetic modification is done to increase yield
 - (3) natural manures and pesticides are used
 - (4) only production of cotton has been allowed in India
58. Which of the following is true with regard to food security ?
- (1) Food security exists when government maintains buffer stock of grains for next five years.
 - (2) Government imposes ban on grains exports for maintaining sufficient stock.
 - (3) Government encourages to produce organic foods for better and secure health.
 - (4) Food security exists when all people, at all time have access to sufficient, safe and nutritious food.
59. Which of the following is a popular eco-friendly automobile fuel ?
- (1) CNG
 - (2) PNG
 - (3) LPG
 - (4) KG-6
60. Barometer is used to
- (1) measure rainfall
 - (2) measure temperature
 - (3) measure atmospheric pressure
 - (4) measure sea level
56. कौन-सा उद्योग अक्सर आधुनिक उद्योगों की रीढ़ की हड्डी कहलाता है ?
- (1) पेट्रोलियम
 - (2) ऊर्जा
 - (3) यातायात
 - (4) इस्पात
57. ऑर्गेनिक खेती में
- (1) फसल की पैदावार में वृद्धि करने हेतु रासायनिक उर्वरकों का प्रयोग किया जाता है
 - (2) फसल की पैदावार बढ़ाने के लिए जीन्स में संशोधन किया जाता है
 - (3) प्राकृतिक खाद तथा कीटनाशकों (पेस्टीसाइड) का प्रयोग किया जाता है
 - (4) भारत में केवल कपास के उत्पादन की अनुमति दी गई है
58. खाद्य-सुरक्षा के सम्बन्ध में निम्नलिखित में से कौन-सा सत्य है ?
- (1) खाद्य-सुरक्षा तभी बनी रहती है जब सरकार अगले पाँच वर्षों के लिए अनाज का सुरक्षित भंडार बनाए रखती है।
 - (2) सरकार अनाज का पर्याप्त भंडार बनाए रखने के लिए अनाज के निर्यात पर रोक लगा देती है।
 - (3) सरकार बेहतर तथा सुरक्षित स्वास्थ्य के लिए ऑर्गेनिक खाद्यों के उत्पादन के लिए प्रोत्साहित करती है।
 - (4) खाद्य-सुरक्षा बनी रहती है जब सभी व्यक्तियों के लिए सभी समय पर्याप्त, सुरक्षित तथा पौष्टिक खाद्य-पदार्थ की सुविधा उपलब्ध हो।
59. निम्नलिखित में से कौन-सा प्रसिद्ध पर्यावरण-अनुकूल ऑटोमोबाइल ईंधन है ?
- (1) सी.एन.जी.
 - (2) पी.एन.जी.
 - (3) एल.पी.जी.
 - (4) के.जी.-6
60. बैरोमीटर का प्रयोग _____ होता है।
- (1) वर्षा को मापने के लिए
 - (2) तापमान को मापने के लिए
 - (3) वायुमण्डलीय दाब को मापने के लिए
 - (4) समुद्र के स्तर को मापने के लिए

61. The apostle of Christ, St. Thomas is believed to have come in
- (1) Goa
 - (2) Karnataka
 - (3) Tamil Nadu
 - (4) Kerala
62. What is Zulu ?
- (1) A tribe of South Africa
 - (2) A language of South Africa
 - (3) National animal of South Africa
 - (4) A traditional dance of South Africa
63. According to the Constitution, how many organs of the State are there ?
- (1) Two
 - (2) Three
 - (3) Four
 - (4) Five
64. Federalism refers to
- (1) existence of more than one level of government in the country
 - (2) Federation of States to run the country
 - (3) only the Central Government has the right to make laws
 - (4) Judiciary is the highest authority in the country
65. If a politician in one state decides to not allow labourers from other states to work in his state, which Fundamental Right will be violated ?
- (1) Right to equality
 - (2) Right to freedom
 - (3) Right against exploitation
 - (4) Right to constitutional remedies
61. ऐसा विश्वास किया जाता है कि ईसा का शिष्य, सेंट थॉमस _____ में आए ।
- (1) गोवा
 - (2) कर्नाटक
 - (3) तमिल नाडु
 - (4) केरल
62. 'ज़ूलू' क्या है ?
- (1) दक्षिण अफ्रीका की एक जनजाति
 - (2) दक्षिण अफ्रीका की एक भाषा
 - (3) दक्षिण अफ्रीका का राष्ट्रीय पशु
 - (4) दक्षिण अफ्रीका का एक परम्परागत नृत्य
63. संविधान के अनुसार राज्य के कितने अंग हैं ?
- (1) दो
 - (2) तीन
 - (3) चार
 - (4) पाँच
64. संघवाद से तात्पर्य है
- (1) देश में एक से ज़्यादा स्तर की सरकार का होना
 - (2) देश को चलाने के लिए राज्यों का संघ होना
 - (3) केवल केन्द्रीय सरकार को कानून बनाने का अधिकार है
 - (4) न्यायपालिका देश में सर्वोच्च शक्ति है
65. एक राज्य में यदि एक राजनेता यह तय करता है कि उसके राज्य में दूसरे राज्य के कामगारों को कार्य करने की अनुमति नहीं दी जाएगी, तो इससे कौन-से मौलिक अधिकार का उल्लंघन होगा ?
- (1) समानता का अधिकार
 - (2) स्वतंत्रता का अधिकार
 - (3) शोषण के विरुद्ध अधिकार
 - (4) संवैधानिक उपचारों का अधिकार

3. The Rajya Sabha can have at most

- (1) 225 members
- (2) 235 members
- (3) 245 members
- (4) 260 members

7. The Parliament in our system has immense power because

- (1) it has the power to make laws
- (2) it has the power to overrule judiciary
- (3) it is the representative of the people
- (4) all powers are vested with the Parliament

Function of the executive in Indian democracy is to

- (1) enact laws
- (2) implement laws made by the Parliament
- (3) elect the Prime Minister
- (4) elect the President

The Mid-day Meal Programme is said to have many positive effects. Which one of the following is *not* one of them ?

- (1) Enrolment of poor children in schools has increased.
- (2) Caste prejudices have been reduced.
- (3) Poor students can now concentrate on their studies as they do not have empty stomachs.
- (4) Poor children are getting high marks in examinations.

66. राज्य सभा में अधिकतम _____ हो सकते हैं ।

- (1) 225 सदस्य
- (2) 235 सदस्य
- (3) 245 सदस्य
- (4) 260 सदस्य

67. हमारी व्यवस्था में संसद को बहुत अधिक अधिकार प्राप्त है क्योंकि

- (1) इसे कानून बनाने की शक्ति प्राप्त है
- (2) इसे न्यायपालिका को नज़रअंदाज़ करने की शक्ति प्राप्त है
- (3) यह जनता का प्रतिनिधित्व करती है
- (4) संसद में सभी शक्तियाँ निहित/प्रदान हैं

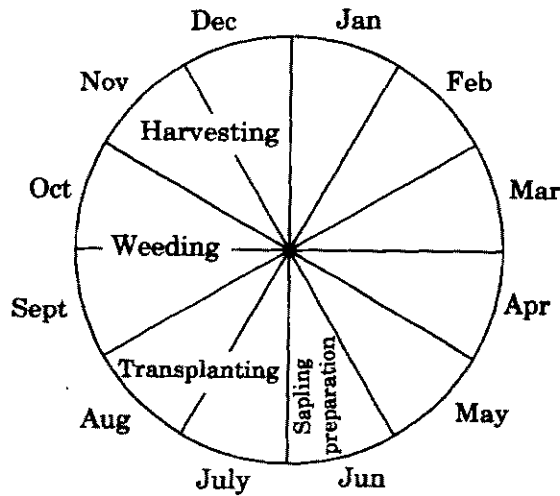
68. भारतीय जनतंत्र में कार्यकारी का कार्य _____ है ।

- (1) अधिनियम बनाना
- (2) संसद द्वारा बनाए गए अधिनियमों को लागू करना
- (3) प्रधान मंत्री को चुनना
- (4) राष्ट्रपति को चुनना

69. मध्याह्न अल्पाहार कार्यक्रम के बहुत से सकारात्मक प्रभाव हैं । निम्नलिखित में से कौन-सा इनमें से एक *नहीं* है ?

- (1) विद्यालयों में गरीब बच्चों के नामांकन में वृद्धि हुई है ।
- (2) जाति पूर्वाग्रह/जातिगत पक्षपात में कमी आई है ।
- (3) अब निर्धन विद्यार्थी अपनी पढ़ाई पर ध्यान केन्द्रित कर सकते हैं क्योंकि वे खाली पेट नहीं हैं ।
- (4) निर्धन बच्चे परीक्षाओं में अधिक अंक प्राप्त कर रहे हैं ।

70. The wheel diagram shows typical employment opportunities to labourers in rural areas. For how long are they unable to get regular job ?



- (1) Three months
- (2) Four months
- (3) Five months
- (4) Six months

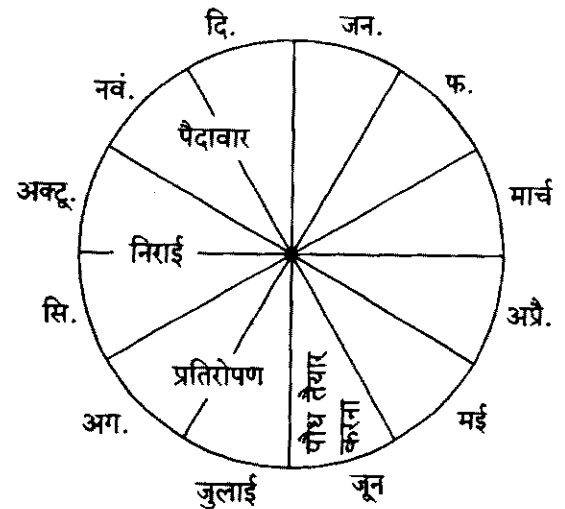
71. A method used in a Social Science classroom in which learners are asked to evaluate one another's likeability is called as

- (1) Self-assessment
- (2) Sociometric techniques
- (3) Case study
- (4) Psychometric techniques

72. Which of the following is an essential quality of creative thinking ?

- (1) Convergent
- (2) Generative
- (3) Reflective
- (4) Deductive

70. चक्रीय चित्र ग्रामीण क्षेत्रों में मजदूरों को प्राप्त विशेष रोजगार के अवसर प्रदर्शित करता है। वे कितने लंबे समय तक नियमित रोजगार प्राप्त करने में अयोग्य हैं ?



- (1) तीन माह
- (2) चार माह
- (3) पाँच माह
- (4) छह माह

71. सामाजिक विज्ञान की कक्षा में उपयोग होने वाली विधि जिसमें शिक्षार्थियों को एक-दूसरे के प्रति लगाव का मूल्यांकन करने के लिए कहते हैं, _____ कहा जाता है।

- (1) स्व-आकलन
- (2) समाजमितीय तकनीक
- (3) केस अध्ययन
- (4) मनोमितीय तकनीक

72. निम्नलिखित में से कौन-सा सृजनात्मक चिंतन का अनिवार्य गुण है ?

- (1) अभिसारी
- (2) उत्पादक
- (3) मनन
- (4) निगमन

3. In order to understand the role of various issues during an election, which of the following would you most likely ask your students ?

- (1) Analyze newspaper editorials regarding arguments against each other by political parties
- (2) Analyze each party's priorities and the types of policies it is most likely to support
- (3) Conduct survey in your locality for the popularity of political parties
- (4) Analyze and compare the time devoted by National news channels to different parties

4. Which of the following would you recommend for peer learning in your classroom ?

- (1) Drama
- (2) Computer-aided learning
- (3) Participation in routine activities only
- (4) Visit to research laboratories

5. Which of the following statements is correct about Social Science ?

- (1) Social Science is not concerned with diverse concerns of society.
- (2) Social Science emphasises homogeneity and rituals.
- (3) Social Science is a subjectivist discipline.
- (4) Social Science lays the foundation for an analytical and creative mindset.

6. In Social Science, the recent NCF position paper on examination reforms emphasises

- (1) open book exams
- (2) continuous assessment
- (3) test performance
- (4) flexible sitting arrangement while testing

73. एक चुनाव के दौरान उसके विभिन्न मुद्दों की भूमिका को समझने के लिए आप विद्यार्थियों को निम्न में से सबसे ज्यादा क्या पूछना पसंद करेंगे ?

- (1) न्यूजपेपर के संपादनों में दिए गए विभिन्न पार्टियों द्वारा एक-दूसरों के प्रति तर्कों का विश्लेषण करना
- (2) प्रत्येक पार्टी की प्राथमिकताएँ और उसकी सर्वाधिक समर्थनकारी नीतियों के प्रकारों का विश्लेषण करना
- (3) राजनीतिक पार्टियों की लोकप्रियता जानने के लिए अपने स्थानिक तौर पर सर्वे करना
- (4) विभिन्न पार्टियों के लिए राष्ट्रीय न्यूज चैनलों द्वारा समर्पित समय की तुलना और विश्लेषण करना

74. निम्नलिखित में से कौन-सा आप अपनी कक्षा में समवयस्क अधिगम के लिए अनुशंसित करेंगे ?

- (1) नाटक
- (2) कम्प्यूटर-सहयोगी अधिगम
- (3) केवल रोजमर्रा की गतिविधियों में भागीदारी
- (4) शोध प्रयोगशालाओं में भ्रमण

75. सामाजिक विज्ञान के बारे में निम्नलिखित में से कौन-सा कथन सही है ?

- (1) समाज के विविध सरोकारों से सामाजिक विज्ञान का कोई सम्बन्ध नहीं है ।
- (2) सामाजिक विज्ञान सजातीयता और रीति-रिवाजों पर बल देता है ।
- (3) सामाजिक विज्ञान एक विषयनिष्ठ अनुशासन है ।
- (4) सामाजिक विज्ञान एक विश्लेषणात्मक और सृजनात्मक मानस की नींव रखता है ।

76. सामाजिक विज्ञान में, परीक्षा सुधार पर हाल ही का एन.सी.एफ. आधार पत्र _____ पर बल देता है ।

- (1) खुली पुस्तक परीक्षा
- (2) सतत आकलन
- (3) परीक्षा निष्पादन
- (4) परीक्षा के समय बैठने की लचीली व्यवस्था

77. Studying the life-history of a village community to understand the education of the young ones is an example of which kind of data ?
- (1) Secondary data
 - (2) Narrative data
 - (3) Clinical case-study data
 - (4) Primary data
78. The process of deriving inferences from observable facts is called as
- (1) Analysis
 - (2) Exposition
 - (3) Deduction
 - (4) Brainstorming
79. To show the change in rainfall in a particular region in a decade, which of the following would be a suitable teaching aid ?
- (1) Flow chart
 - (2) Bar-diagram
 - (3) Frequency polygon
 - (4) Venn diagram
80. 'To understand the importance of knowledge and wisdom of peers' — is valued in which perspective ?
- (1) Cognitive
 - (2) Emotive
 - (3) Behaviourist
 - (4) Constructivist
77. छोटे बच्चों की शिक्षा को समझने के लिए एक ग्रामीण समुदाय के जीवन-इतिहास का अध्ययन करना किस प्रकार के आँकड़े का उदाहरण है ?
- (1) गौण (द्वितीयक) आँकड़े
 - (2) वर्णनात्मक आँकड़े
 - (3) क्लिनिकल केस-अध्ययन आँकड़े
 - (4) प्राथमिक आँकड़े
78. अवलोकनीय तथ्यों से निष्कर्ष निकालने की प्रक्रिया _____ कही जाती है ।
- (1) विश्लेषण
 - (2) प्रतिपादन
 - (3) निगमन
 - (4) मस्तिष्क-आलोड़न
79. एक दशक में एक क्षेत्र विशेष में वर्षा में आने वाले बदलावों को प्रदर्शित करने के लिए, निम्नलिखित में से कौन-सी शिक्षण सहायक सामग्री उपयुक्त है ?
- (1) प्रवाह-संचित्र
 - (2) दंड-आरेख
 - (3) आवृत्ति बहुभुज
 - (4) वेन आरेख
80. 'समवयस्कों के ज्ञान और पांडित्य के महत्त्व को समझने को किस परिप्रेक्ष्य में महत्त्व दिया गया है ?
- (1) संज्ञानात्मक
 - (2) संवेगात्मक
 - (3) व्यवहारवादी
 - (4) रचनावादी

1. Which of the following teaching methods would be most effective in Social Science, that teachers must use ?
- (1) Ensure that learners have learnt the content by taking repetitive tests
 - (2) Assign grades liberally
 - (3) Engage learners in critical and thought provoking activities
 - (4) Assign home assignments
2. In the Indian pluralistic society, textbooks of Social Science should
- (1) reflect the majority opinion
 - (2) reflect the government's views
 - (3) avoid controversial issues
 - (4) include and represent all religions and social groups
- In order to teach about equity, which of the following would be the most suitable method ?
- (1) Give a lecture
 - (2) Give a project
 - (3) Assign field-work around the ideas of poverty and capitalism
 - (4) Highlight the constitutional provisions to promote equity
- Which of the following will promote a social learning of rules, regulations and values ?
- (1) Project work
 - (2) Group discussions
 - (3) Book reading
 - (4) Writing essays
81. सामाजिक विज्ञान में निम्नलिखित में से कौन-सी शिक्षण पद्धति सबसे अधिक प्रभावी है, जिसे शिक्षकों को इस्तेमाल करना चाहिए ?
- (1) बार-बार परीक्षा देने से यह सुनिश्चित करना कि शिक्षार्थी विषय-वस्तु को सीख गए हैं
 - (2) उदार भाव से ग्रेड देना
 - (3) शिक्षार्थियों को आलोचनात्मक और विचारोत्तेजक गतिविधियों में शामिल करना
 - (4) गृह कार्य देना
82. भारतीय बहुलतावादी समाज में, सामाजिक विज्ञान की पाठ्य-पुस्तकों को
- (1) बहुसंख्यक की राय को प्रदर्शित करना चाहिए
 - (2) सरकार के विचारों को प्रदर्शित करना चाहिए
 - (3) विवादास्पद मुद्दों से बचना चाहिए
 - (4) सभी धर्मों और सामाजिक समूहों को शामिल करना और उनका प्रतिनिधित्व करना चाहिए
83. समता के बारे में पढ़ाने के लिए, निम्नलिखित में से सर्वाधिक उपयुक्त पद्धति कौन-सी है ?
- (1) व्याख्यान देना
 - (2) परियोजना देना
 - (3) गरीबी और पूँजीवाद के विचारों से सम्बन्धित क्षेत्र-कार्य देना
 - (4) समता को बढ़ावा देने के लिए संवैधानिक प्रावधानों को उभारना
84. निम्नलिखित में से कौन-सा नियमों, विनियमों और मूल्यों के सामाजिक अधिगम को बढ़ावा देगा ?
- (1) परियोजना कार्य
 - (2) समूह चर्चा
 - (3) किताब पढ़ना
 - (4) निबन्ध लिखना

85. Which of the following descriptions of a learner's behaviour could be used to assess attitudes and values in a Social Science classroom ?

- (1) Accepting all the ideas of the teachers
- (2) Insisting to work alone
- (3) Feeling free to ask questions
- (4) Getting good grades in academics

86. Diagnostic and remedial teaching in a Social Science classroom will involve

- (1) recognition of specific difficulty of the student
- (2) providing a lot of material to read
- (3) providing a lot of opportunity for discussions
- (4) correcting the errors of students instantly

87. During teacher-education, Micro-teaching refers to which of the following ?

- (1) Teaching by observing the teacher-educator minutely
- (2) Teaching a miniature classroom with peers role-playing as students
- (3) Teaching students in small groups
- (4) Teaching a small chunk of content at a time

85. शिक्षार्थी के व्यवहार के निम्नलिखित में से किस वर्णन को सामाजिक विज्ञान की कक्षा में अभिवृत्तियों और मूल्यों के आकलन में इस्तेमाल किया जा सकता है ?

- (1) शिक्षकों के सभी विचारों को स्वीकार करना
- (2) अकेले कार्य करने के लिए ज़ोर देना
- (3) प्रश्न पूछने के लिए स्वतंत्र अनुभूत करना
- (4) शैक्षणिक कार्यों में अच्छे ग्रेड प्राप्त करना

86. सामाजिक विज्ञान की कक्षा में निदानात्मक और उपचारात्मक शिक्षण में शामिल होंगे

- (1) शिक्षार्थी की कठिनाई विशेष की पहचान करना
- (2) पढ़ने के लिए बहुत अधिक सामग्री उपलब्ध कराना
- (3) चर्चा के लिए अनेक अवसर उपलब्ध कराना
- (4) शिक्षार्थियों की त्रुटियों में तुरंत सुधार करना

87. शिक्षक-शिक्षा के दौरान, सूक्ष्म-शिक्षण निम्नलिखित में किसकी ओर संकेत करता है ?

- (1) शिक्षक-प्रशिक्षक का बारीकी से अवलोकन करने के द्वारा शिक्षण
- (2) ऐसी छोटी कक्षा को पढ़ाना जिसमें सहपाठी शिक्षार्थियों की भूमिका निर्वाह कर रहे हों
- (3) छोटे समूहों में शिक्षार्थियों को पढ़ाना
- (4) एक समय में कम विषय-वस्तु को पढ़ाना

88. When a teacher uses individual experiences in order to explain concepts in a Social Science class, then s/he is

- (1) making the lesson engaging
- (2) channelizing the energies of students
- (3) promoting the ability to relate their local reality with the global context
- (4) take care of the linguistic and cultural diversity among learners

89. Which of the following constitutes the cultural capital of a student ?

- (1) Monetary and financial resources
- (2) Electronic equipments available for use by a student
- (3) Educational background of the family
- (4) Number of places that a student has visited

90. Which of the following is an aspect of progressive education in a Social Science classroom ?

- (1) Segregation of learners
- (2) Functional intelligence
- (3) Emphasis on scoring in examination
- (4) Respect for plurality and multiplicity

88. सामाजिक विज्ञान की कक्षा में अवधारणाओं को स्पष्ट करते समय जब एक शिक्षक वैयक्तिक अनुभवों का प्रयोग करता है, तो वह

- (1) पाठ को भागीदार (दिलचस्प) बनाने वाला बनता है
- (2) शिक्षार्थियों की ऊर्जा का सरणीकरण करता है
- (3) उनकी स्थानीय वास्तविकता को वैश्विक संदर्भों के साथ जोड़ने की योग्यता को बढ़ावा देता है
- (4) शिक्षार्थियों में भाषिक और सांस्कृतिक विविधता का ध्यान करता है

89. निम्नलिखित में से कौन शिक्षार्थी की सांस्कृतिक पूँजी बनाते हैं ?

- (1) मौद्रिक तथा वित्तीय संसाधन
- (2) शिक्षार्थी के द्वारा इस्तेमाल हेतु उपलब्ध इलेक्ट्रॉनिक उपकरण
- (3) परिवार की शैक्षिक पृष्ठभूमि
- (4) स्थानों की संख्या जिनका शिक्षार्थी ने भ्रमण किया है

90. निम्नलिखित में से कौन-सा सामाजिक विज्ञान की कक्षा में प्रगतिशील शिक्षा का आयाम है ?

- (1) शिक्षार्थियों को अलग करना
- (2) प्रकार्यात्मक बुद्धि
- (3) परीक्षा में अंक लाने पर बल देना
- (4) बहुलता और विविधता के लिए सम्मान