

This booklet contains 44 pages. (English/Oriya)

ଏହି ପୁସ୍ତିକାରେ 44 ଗୋଟି ପୃଷ୍ଠା ରହିଛି ।

Do not open this Test Booklet until you are asked to do so.

ତୁମକୁ କୁହା ନ ଯିବା ପର୍ଯ୍ୟନ୍ତ ଏହି ପୁସ୍ତିକାକୁ ଖୋଲ ନାହିଁ ।



Test Booklet Code

ପରୀକ୍ଷା ପୁସ୍ତିକା କୋଡ୍

PP

Read carefully the Instructions on the Back Cover of this Test Booklet.

ଏହି ପରୀକ୍ଷା ପୁସ୍ତିକାର ପଛ ଆବରଣରେ ପ୍ରଦତ୍ତ ନିର୍ଦ୍ଦେଶାବଳୀକୁ ଯତ୍ନ ସହିତ ପଢ଼ ।

Important Instructions :

1. The Answer Sheet is inside this Test Booklet. When you are directed to open the Test Booklet, take out the Answer Sheet and fill in the particulars on **Side-1** and **Side-2** carefully with **blue/black** ball point pen only.
2. The test is of **3 hours** duration and Test Booklet contains **180** questions. Each question carries **4** marks. For each correct response, the candidate will get **4** marks. For each incorrect response, **one mark** will be deducted from the total scores. The maximum marks are **720**.
3. Use **Blue/Black Ball Point Pen only** for writing particulars on this page/markings responses.
4. Rough work is to be done on the space provided for this purpose in the Test Booklet only.
5. **On completion of the test, the candidate must hand over the Answer Sheet to the Invigilator before leaving the Room/Hall. The candidates are allowed to take away this Test Booklet with them.**
6. The CODE for this Booklet is **PP**. Make sure that the CODE printed on **Side-2** of the Answer Sheet is the same as that on this Test Booklet. In case of discrepancy, the candidate should immediately report the matter to the Invigilator for replacement of both the Test Booklet and the Answer Sheet.
7. The candidates should ensure that the Answer Sheet is not folded. Do not make any stray marks on the Answer Sheet. Do not write your Roll No. anywhere else except in the specified space in the Test Booklet/Answer Sheet.
8. Use of white fluid for correction is **not** permissible on the Answer Sheet.

ଗୁରୁତ୍ୱପୂର୍ଣ୍ଣ ନିର୍ଦ୍ଦେଶାବଳୀ :

1. ଉତ୍ତର ପତ୍ର ଏହି ପରୀକ୍ଷା ପୁସ୍ତିକା ମଧ୍ୟରେ ରହିଛି । ପରୀକ୍ଷା ପୁସ୍ତିକା ଖୋଲିବା ପାଇଁ ତୁମକୁ ନିର୍ଦ୍ଦେଶ ଦିଆଯିବା ପରେ ଉତ୍ତର ପତ୍ରକୁ କାଢ଼ିଆଣ ଏବଂ ପାର୍ଶ୍ୱ-1 ଓ ପାର୍ଶ୍ୱ-2 ରେ ବିବରଣୀକୁ ଧ୍ୟାନ ସହିତ କେବଳ ନୀଳ/କଳା ବଲ୍ ପଏଣ୍ଟ କଲମରେ ପୂରଣ କର ।
2. ପରୀକ୍ଷାର ଅବଧି ହେଉଛି **3 ଘଣ୍ଟା** ଏବଂ ପରୀକ୍ଷା ପୁସ୍ତିକାରେ **180** ଗୋଟି ପ୍ରଶ୍ନ ରହିଛି । ପ୍ରତ୍ୟେକ ପ୍ରଶ୍ନର ଅଙ୍କ **4** ଅଟେ । ପ୍ରତ୍ୟେକ ଠିକ୍ ଉତ୍ତର ପାଇଁ, ପ୍ରାର୍ଥୀ **4** ଅଙ୍କ ପାଇବେ । ପ୍ରତ୍ୟେକ ଭୁଲ୍ ଉତ୍ତର ପାଇଁ, ମୋଟ ସ୍କୋରରୁ **ଏକ ଅଙ୍କ** କାଟିଦିଆଯିବ । ସର୍ବାଧିକ ଅଙ୍କ ହେଉଛି **720** ।
3. ଏହି ପୃଷ୍ଠାରେ ବିବରଣୀ ଲେଖିବା/ଉତ୍ତର ପତ୍ରକୁ ଚିହ୍ନିତ କରିବା ପାଇଁ କେବଳ ନୀଳ/କଳା ବଲ୍ ପଏଣ୍ଟ କଲମ ବ୍ୟବହାର କର ।
4. ରଫ୍ କାମ କେବଳ ସେହି ଉଦ୍ଦେଶ୍ୟ ପାଇଁ ପରୀକ୍ଷା ପୁସ୍ତିକାରେ ପ୍ରଦତ୍ତ ସ୍ଥାନରେ ସମ୍ପାଦନ କରାଯିବା ଆବଶ୍ୟକ ।
5. ପରୀକ୍ଷା ସମାପ୍ତ ହେଲା ପରେ, ପ୍ରକୋଷ୍ଠ/ହଲ୍‌ରୁ ବାହାରିବା ପୂର୍ବରୁ ପ୍ରାର୍ଥୀ ଉତ୍ତର ପତ୍ରକୁ ନିରୀକ୍ଷକଙ୍କୁ ହସ୍ତାନ୍ତର କରିବା କରୁଣା । ପ୍ରାର୍ଥୀଙ୍କୁ ସେମାନଙ୍କ ସହିତ ପରୀକ୍ଷା ପୁସ୍ତିକା ନେବା ପାଇଁ ଅନୁମତି ଦିଆଯିବ ।
6. ଏହି ପୁସ୍ତିକାର କୋଡ୍ ହେଉଛି **PP** । ଏହା ସୁନିଶ୍ଚିତ କରିନିଅ ଯେ ଉତ୍ତର ପତ୍ରର ପାର୍ଶ୍ୱ-2 ରେ ମୁଦ୍ରିତ କୋଡ୍‌ଟି ପରୀକ୍ଷା ପୁସ୍ତିକାରେ ମୁଦ୍ରିତ କୋଡ୍ ସହିତ ସମାନ ଅଟେ । ଅନେକ କ୍ଷେତ୍ରରେ, ପ୍ରାର୍ଥୀ ଏ ସମ୍ପର୍କରେ ତୁରନ୍ତ ନିରୀକ୍ଷକଙ୍କୁ ସୂଚିତ କରି ଉଭୟ ପରୀକ୍ଷା ପୁସ୍ତିକା ଏବଂ ଉତ୍ତର ପତ୍ରକୁ ବଦଳାଇନେବା ଆବଶ୍ୟକ ।
7. ଉତ୍ତର ପତ୍ରକୁ ଯେପରି ଭାଙ୍ଗି ନ କରାହୁଏ ଏହା ପ୍ରାର୍ଥୀମାନେ ସୁନିଶ୍ଚିତ କରିନେବା ଆବଶ୍ୟକ । ଉଦ୍ଦିଷ୍ଟ ସ୍ଥାନକୁ ଛାଡ଼ି ଉତ୍ତର ପତ୍ରର ଅନ୍ୟ କୌଣସି ସ୍ଥାନରେ କୌଣସି ଗାର, ଦାଗ କିମ୍ବା ଚିହ୍ନ କର ନାହିଁ । ପରୀକ୍ଷା ପୁସ୍ତିକା/ଉତ୍ତର ପତ୍ରରେ ନିର୍ଦ୍ଧାରିତ ସ୍ଥାନକୁ ଛାଡ଼ି ଅନ୍ୟ କୌଣସି ସ୍ଥାନର ନିଜର ରୋଲ୍ ନମ୍ବର ଲେଖି ନାହିଁ ।
8. ଉତ୍ତର ପତ୍ରରେ ସଂଶୋଧନ ପାଇଁ ଧଳା ରଙ୍ଗ ବ୍ୟବହାର କରାଯିବା ଅନୁମତିଯୋଗ୍ୟ ନୁହେଁ ।

In case of any ambiguity in translation of any question, English version shall be treated as final.

କୌଣସି ପ୍ରଶ୍ନର ଅନୁବାଦରେ ଅସ୍ପଷ୍ଟତା/ସନ୍ଦେହ କ୍ଷେତ୍ରରେ, ଇଂରାଜୀ ସଂସ୍କରଣ ଦୃଢ଼ୀକୃତ ବିବେଚିତ ହେବ ।

Name of the Candidate (in Capitals) : _____

Roll Number : in figures _____

: in words _____

Centre of Examination (in Capitals) : _____

Candidate's Signature : _____ Invigilator's Signature : _____

Facsimile signature stamp of

Centre Superintendent : _____

1. An em wave is propagating in a medium with a velocity $\vec{V} = V\hat{i}$. The instantaneous oscillating electric field of this em wave is along +y axis. Then the direction of oscillating magnetic field of the em wave will be along

- (1) - z direction
- (2) + z direction
- (3) - y direction
- (4) - x direction

2. The refractive index of the material of a prism is $\sqrt{2}$ and the angle of the prism is 30° . One of the two refracting surfaces of the prism is made a mirror inwards, by silver coating. A beam of monochromatic light entering the prism from the other face will retrace its path (after reflection from the silvered surface) if its angle of incidence on the prism is

- (1) 60°
- (2) 45°
- (3) 30°
- (4) zero

3. The magnetic potential energy stored in a certain inductor is 25 mJ, when the current in the inductor is 60 mA. This inductor is of inductance

- (1) 0.138 H
- (2) 138.88 H
- (3) 1.389 H
- (4) 13.89 H

4. An object is placed at a distance of 40 cm from a concave mirror of focal length 15 cm. If the object is displaced through a distance of 20 cm towards the mirror, the displacement of the image will be

- (1) 30 cm away from the mirror
- (2) 36 cm away from the mirror
- (3) 30 cm towards the mirror
- (4) 36 cm towards the mirror

1. ଏକ ବିଦ୍ୟୁତ୍ ରୁମ୍ଭକୀୟ ତରଙ୍ଗ ଏକ ମାଧ୍ୟମରେ $\vec{V} = V\hat{i}$ ପରିବେଗରେ ପ୍ରସାରିତ ହେଉଅଛି । ତତ୍ସମ୍ପର୍କରେ ଦୋଳିତ ହେଉଥିବା ଏହି ବିଦ୍ୟୁତ୍ ରୁମ୍ଭକୀୟ ତରଙ୍ଗର ବିଦ୍ୟୁତିକ କ୍ଷେତ୍ର + y ଅକ୍ଷଦିଗରେ ହୁଏ । ତାହାହେଲେ ଦୋଳିତ ହେଉଥିବା ଏହି ବିଦ୍ୟୁତ୍ ରୁମ୍ଭକୀୟ ତରଙ୍ଗର ରୁମ୍ଭକୀୟ କ୍ଷେତ୍ରର ଦିଗଟି ହେବ ।

- (1) - z ଦିଗରେ
- (2) + z ଦିଗରେ
- (3) - y ଦିଗରେ
- (4) - x ଦିଗରେ

2. ଏକ ପ୍ରିଜମର ପ୍ରତିସରଣାଙ୍କ $\sqrt{2}$ ଓ କୋଣ 30° ଅଟେ । ପ୍ରିଜମର ଦୁଇଟି ପ୍ରତିସରିତ ପୃଷ୍ଠରୁ ଗୋଟିଏ ପୃଷ୍ଠରେ ସିଲ୍ଭର ପ୍ରଲେପଦେଇ ଏହାକୁ ଭିତ୍ତୁରୁଆ ଦର୍ପଣ ଭାବରେ ତିଆରି କରାଯାଇଛି । ଏକ ଏକରଙ୍ଗୀ ଆଲୋକଗୁଚ୍ଛ ପ୍ରିଜମର ଅନ୍ୟ ପୃଷ୍ଠରେ ପ୍ରବେଶକରି, ସେହିଦିଗରେ ଫେରିଯିବ । (ସିଲ୍ଭର ପୃଷ୍ଠରେ ପ୍ରତିସରଣ ପରେ) ପ୍ରିଜମଟି ଉପରେ ଆପତନ କୋଣ କେତେହେବା ଦରକାର ?

- (1) 60°
- (2) 45°
- (3) 30°
- (4) ଶୂନ୍ୟ

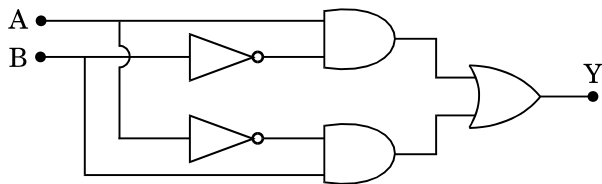
3. ଯେତେବେଳେ ଏକ ପ୍ରଣୋଦକରେ 60 mA ର ବିଦ୍ୟୁତ୍ପ୍ରୋତ ପ୍ରବାହିତ ହୁଏ, ସେଥିରେ 25 mJ ର ରୁମ୍ଭକୀୟ ଶକ୍ତିର ସଂଚୟ ରହିତ ହୋଇ ରହେ । ଏହି ପ୍ରଣୋଦକର ପ୍ରଣୋଦକତା ହେବ

- (1) 0.138 H
- (2) 138.88 H
- (3) 1.389 H
- (4) 13.89 H

4. 15 cm ଫୋକସ୍ ଦୈର୍ଘ୍ୟର ଏକ ଅବତଳ ଦର୍ପଣଠାରୁ ବସ୍ତୁଟିଏ 40 cm ଦୂରତାରେ ରଖାଗଲା । ଯଦି ବସ୍ତୁଟିକୁ ଦର୍ପଣଆଡ଼କୁ 20 cm ଘୁଞ୍ଚାଯାଏ, ତାହାହେଲେ ପ୍ରତିବିମ୍ବଟି କିପରି ଘୁଞ୍ଚିବ ?

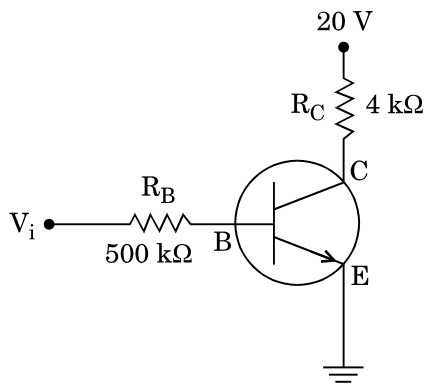
- (1) ଦର୍ପଣଠାରୁ 30 cm ଦୂରରେ ଯିବ
- (2) ଦର୍ପଣଠାରୁ 36 cm ଦୂରରେ ଯିବ
- (3) ଦର୍ପଣ ଆଡ଼କୁ 30 cm
- (4) ଦର୍ପଣ ଆଡ଼କୁ 36 cm

5. In the combination of the following gates the output Y can be written in terms of inputs A and B as



- (1) $\overline{A \cdot B}$
- (2) $A \cdot \bar{B} + \bar{A} \cdot B$
- (3) $\overline{A \cdot B} + A \cdot B$
- (4) $\overline{A + B}$

6. In the circuit shown in the figure, the input voltage V_i is 20 V, $V_{BE} = 0$ and $V_{CE} = 0$. The values of I_B , I_C and β are given by

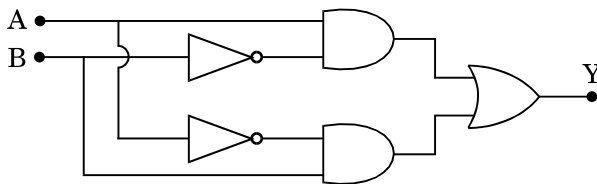


- (1) $I_B = 40 \mu\text{A}$, $I_C = 10 \text{ mA}$, $\beta = 250$
- (2) $I_B = 25 \mu\text{A}$, $I_C = 5 \text{ mA}$, $\beta = 200$
- (3) $I_B = 20 \mu\text{A}$, $I_C = 5 \text{ mA}$, $\beta = 250$
- (4) $I_B = 40 \mu\text{A}$, $I_C = 5 \text{ mA}$, $\beta = 125$

7. In a p-n junction diode, change in temperature due to heating

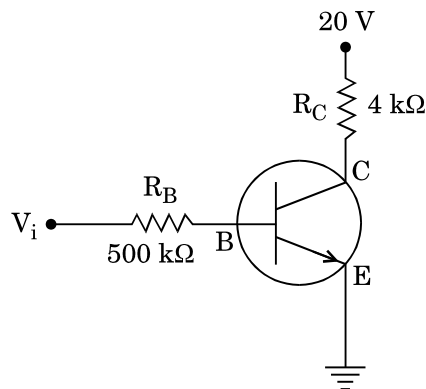
- (1) affects only reverse resistance
- (2) affects only forward resistance
- (3) does not affect resistance of p-n junction
- (4) affects the overall V - I characteristics of p-n junction

5. ନିମ୍ନରେ ଦର୍ଶିତ ଗେଟ୍‌ରେ ଅନ୍ତର୍ନିବେଶ A ଓ B ପ୍ରକାରରେ, ବହିର୍ବେଶ Y କୁ ଲେଖାଯିବ



- (1) $\overline{A \cdot B}$
- (2) $A \cdot \bar{B} + \bar{A} \cdot B$
- (3) $\overline{A \cdot B} + A \cdot B$
- (4) $\overline{A + B}$

6. ଚିତ୍ରରେ ଦର୍ଶାଯାଇଥିବା ଅନୁସାରେ ଏକ ପରିପଥର ଅନ୍ତଃ ଭୋଲ୍ଟେଜ୍ (V_i) ହେଉଛି 20 V, $V_{BE} = 0$, $V_{CE} = 0$ । I_B , I_C ଓ β ର ମୂଲ୍ୟ ହେବ



- (1) $I_B = 40 \mu\text{A}$, $I_C = 10 \text{ mA}$, $\beta = 250$
- (2) $I_B = 25 \mu\text{A}$, $I_C = 5 \text{ mA}$, $\beta = 200$
- (3) $I_B = 20 \mu\text{A}$, $I_C = 5 \text{ mA}$, $\beta = 250$
- (4) $I_B = 40 \mu\text{A}$, $I_C = 5 \text{ mA}$, $\beta = 125$

7. ଏକ p-n ସନ୍ଧି ତାପମୋଡ଼କୁ, ଗରମ କରିବାରୁ ତାପମାତ୍ରାର ପରିବର୍ତ୍ତନ କଣ କରେ

- (1) ପଶ୍ଚାତ୍ ବିଶିଷ୍ଟ ପ୍ରତିରୋଧତା ଉପରେ ପ୍ରଭାବ ପକାଏ ।
- (2) ଅଗ୍ରବିଶିଷ୍ଟ ପ୍ରତିରୋଧତା ଉପରେ ପ୍ରଭାବ ପକାଏ ।
- (3) p-n ସନ୍ଧିର ପ୍ରତିରୋଧତା ଉପରେ ପ୍ରଭାବ ପକାଏ ନାହିଁ ।
- (4) p-n ସନ୍ଧିର V - I ଆଭିଲକ୍ଷଣରେ ପୁରାପୁରି ପ୍ରଭାବ ପକାଏ ।

8. A small sphere of radius r falls from rest in a viscous liquid. As a result, heat is produced due to viscous force. The rate of production of heat when the sphere attains its terminal velocity, is proportional to

- (1) r^3
- (2) r^2
- (3) r^5
- (4) r^4

9. A sample of 0.1 g of water at 100°C and normal pressure ($1.013 \times 10^5 \text{ Nm}^{-2}$) requires 54 cal of heat energy to convert to steam at 100°C . If the volume of the steam produced is 167.1 cc, the change in internal energy of the sample, is

- (1) 104.3 J
- (2) 208.7 J
- (3) 42.2 J
- (4) 84.5 J

10. Two wires are made of the same material and have the same volume. The first wire has cross-sectional area A and the second wire has cross-sectional area $3A$. If the length of the first wire is increased by Δl on applying a force F , how much force is needed to stretch the second wire by the same amount ?

- (1) $9F$
- (2) $6F$
- (3) $4F$
- (4) F

11. The power radiated by a black body is P and it radiates maximum energy at wavelength, λ_0 . If the temperature of the black body is now changed so that it radiates maximum energy at wavelength $\frac{3}{4}\lambda_0$, the power radiated by it becomes nP . The value of n is

- (1) $\frac{3}{4}$
- (2) $\frac{4}{3}$
- (3) $\frac{256}{81}$
- (4) $\frac{81}{256}$

8. r ବ୍ୟାସାର୍ଦ୍ଧର ଏକ କ୍ଷୁଦ୍ର ଗୋଲକ ଘିର ଅବସ୍ଥାରୁ ଏକ ଅଠାଳିଆ ତରଳ ମଧ୍ୟରେ ପଡ଼ିଲା । ଫଳରେ ଭିସ୍କୋସ୍ ବଳ ଯୋଗୁ ତାପ ଉତ୍ପାଦନ ହେଲା । ଗୋଲକଟି ଏହାର ଚର୍ମନାଲ ପରିବେଗରେ ପହଞ୍ଚିବାରେ ଉତ୍ପାଦିତ ଉତ୍ତାପର ହାର କାହାସହିତ ସମାନୁପାତୀ ?

- (1) r^3
- (2) r^2
- (3) r^5
- (4) r^4

9. 0.1 g ର ପାଣିର ଏକ ନମୁନା, ତାପମାତ୍ରା 100°C ଓ ସାଧାରଣ ତାପ ($1.013 \times 10^5 \text{ Nm}^{-2}$) ରେ 100°C ରେ ବାଷ୍ପରେ ପରିଣତ ହେବାପାଇଁ 54 cal ର ତାପାୟ ଶକ୍ତି ଦରକାର କରେ । ଯଦି ଉତ୍ପାଦନ ହେଉଥିବା ବାଷ୍ପର ଆୟତନ 167.1 cc ହୁଏ, ତାହାହେଲେ ନମୁନାର ଆଭ୍ୟନ୍ତରୀଣ ଶକ୍ତିରେ କେତେ ପରିବର୍ତ୍ତନ ହେବ

- (1) 104.3 J
- (2) 208.7 J
- (3) 42.2 J
- (4) 84.5 J

10. ଦୁଇଟି ତାର ଏକା ଉପାଦାନ ଓ ସମାନ ଆୟତନରେ ତିଆରି ହୋଇଅଛନ୍ତି । ପ୍ରଥମଟିର ପ୍ରସ୍ଥକ୍ଷେପ କ୍ଷେତ୍ରଫଳ A ଓ ଦ୍ୱିତୀୟଟିର ପ୍ରସ୍ଥକ୍ଷେପ କ୍ଷେତ୍ରଫଳ $3A$ ଅଟେ । ଏକ ବଳ F ପ୍ରୟୋଗକରି ପ୍ରଥମ ତାରର ଦୈର୍ଘ୍ୟକୁ Δl ରେ ବୃଦ୍ଧିକଲେ, ଦ୍ୱିତୀୟ ତାରର ସେହି ସମାନ ପରିମାଣର ବୃଦ୍ଧିପାଇଁ କେତେ ପରିମାଣର ବଳ ପ୍ରୟୋଗ କରାଯିବ ।

- (1) $9F$
- (2) $6F$
- (3) $4F$
- (4) F

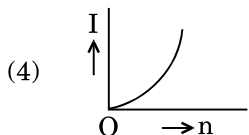
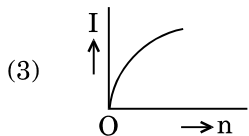
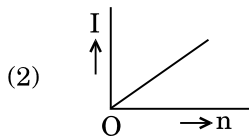
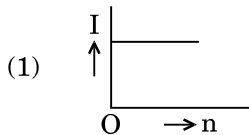
11. ଏକ କଳାବସ୍ତୁଦ୍ୱାରା P ପାୱାର ବିକିରଣ ହୁଏ ଓ ତରଙ୍ଗଦୈର୍ଘ୍ୟ λ_0 ରେ ଏହା ସର୍ବାଧିକ ଶକ୍ତି ବିକିରଣ କରେ । ଯଦି କଳାବସ୍ତୁର ତାପମାତ୍ରାକୁ ବର୍ତ୍ତମାନ ପରିବର୍ତ୍ତନ କରାଯାଏ ଯେଉଁଥିପାଇଁ $\frac{3}{4}\lambda_0$ ତରଙ୍ଗଦୈର୍ଘ୍ୟରେ ସର୍ବାଧିକ ଶକ୍ତି ବିକିରଣ ହୋଇପାରିବ, ଯାହାଦ୍ୱାରା ପାୱାର ବିକିରଣ nP ହୋଇଯିବ । ତାହାହେଲେ n ର ମୂଲ୍ୟହେବ ।

- (1) $\frac{3}{4}$
- (2) $\frac{4}{3}$
- (3) $\frac{256}{81}$
- (4) $\frac{81}{256}$

12. A set of 'n' equal resistors, of value 'R' each, are connected in series to a battery of emf 'E' and internal resistance 'R'. The current drawn is I. Now, the 'n' resistors are connected in parallel to the same battery. Then the current drawn from battery becomes 10 I. The value of 'n' is

- (1) 10
- (2) 11
- (3) 20
- (4) 9

13. A battery consists of a variable number 'n' of identical cells (having internal resistance 'r' each) which are connected in series. The terminals of the battery are short-circuited and the current I is measured. Which of the graphs shows the correct relationship between I and n ?



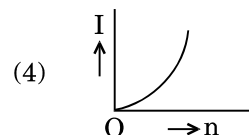
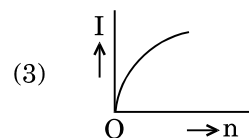
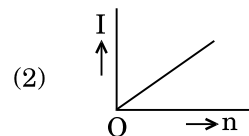
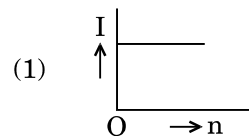
14. A carbon resistor of $(47 \pm 4.7) \text{ k}\Omega$ is to be marked with rings of different colours for its identification. The colour code sequence will be

- (1) Violet – Yellow – Orange – Silver
- (2) Yellow – Violet – Orange – Silver
- (3) Yellow – Green – Violet – Gold
- (4) Green – Orange – Violet – Gold

12. 'n' ସଂଖ୍ୟକ ସମାନ ପ୍ରତିରୋଧକ ରୁକ୍ଷ, ପ୍ରତ୍ୟେକର ମୂଲ୍ୟ 'R' ଥାଇ, ବିଦ୍ୟୁତ୍ ବାହକ ବଳ (emf), 'E' ଓ ଆଭ୍ୟନ୍ତରୀଣ ପ୍ରତିରୋଧ 'R' ରେ ଏକ ବ୍ୟାଟେରୀ ସହ ଶ୍ରେଣୀରେ ସଂଯୋଗ କରାଗଲେ । ସେଥିରୁ I ପରିମାଣର ବିଦ୍ୟୁତ୍ ସ୍ରୋତ ବାହାରିଲା । ବର୍ତ୍ତମାନ ସେହି 'n' ସଂଖ୍ୟକ ପ୍ରତିରୋଧକୁ ବ୍ୟାଟେରୀ ସହିତ ସମାନ୍ତରାଳରେ ସଂଯୋଗ କରାଗଲା । ବ୍ୟାଟେରୀ ଦ୍ୱାରା 10 I ପରିମାଣର ବିଦ୍ୟୁତ୍ ସ୍ରୋତ ବାହାରିଲା । ତାହାହେଲେ 'n'ର ମୂଲ୍ୟ ହେବ ।

- (1) 10
- (2) 11
- (3) 20
- (4) 9

13. ଏକ ବ୍ୟାଟେରୀରେ ଏକାପରିଦେଖାଯାଉଥିବା 'n' ସଂଖ୍ୟକ ପରିବର୍ତ୍ତିତ ସେଲ୍ (ପ୍ରତ୍ୟେକର ଆଭ୍ୟନ୍ତରୀଣ ପ୍ରତିରୋଧ 'r') ଶ୍ରେଣୀରେ ସଂଯୋଗ ହେଲେ । ବ୍ୟାଟେରୀର ଦୁଇଟିଯାକ ପ୍ରାନ୍ତ ବିଦ୍ୟୁତ୍ ପରିପଥରୁ ବିଦ୍ୟୁତ୍ ପ୍ରବାହରେ ବ୍ୟାଘାତ ସୃଷ୍ଟିକରାଇ ବିଦ୍ୟୁତ୍ ସ୍ରୋତ I ମପାଗଲା । କେଉଁ ଗ୍ରାଫ୍ଟି I ଓ n ଭିତରେ ଠିକ୍ ସମ୍ପର୍କଟି ଦେଖାଏ ?



14. $(47 \pm 4.7) \text{ k}\Omega$ ର ଏକ କାର୍ବନ ପ୍ରତିରୋଧକକୁ ଚିହ୍ନିତ କରିବା ପାଇଁ ବିଭିନ୍ନ ରଙ୍ଗର ଗୋଲାକାର ଦାଗ ଦିଆଯିବା ଦରକାର । ରଙ୍ଗ ସଙ୍କେତର ଅନୁକ୍ରମଟି ହେବ

- (1) ବାଇଗଣୀ – ହଳଦିଆ – କମଳା – ରୌପ୍ୟ
- (2) ହଳଦିଆ – ବାଇଗଣୀ – କମଳା – ରୌପ୍ୟ
- (3) ହଳଦିଆ – ସବୁଜ – ବାଇଗଣୀ – ସ୍ୱର୍ଣ୍ଣ
- (4) ସବୁଜ – କମଳା – ବାଇଗଣୀ – ସ୍ୱର୍ଣ୍ଣ

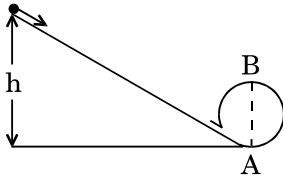
15. Which one of the following statements is **incorrect** ?

- (1) Rolling friction is smaller than sliding friction.
- (2) Limiting value of static friction is directly proportional to normal reaction.
- (3) Frictional force opposes the relative motion.
- (4) Coefficient of sliding friction has dimensions of length.

16. A moving block having mass m , collides with another stationary block having mass $4m$. The lighter block comes to rest after collision. When the initial velocity of the lighter block is v , then the value of coefficient of restitution (e) will be

- (1) 0.5
- (2) 0.25
- (3) 0.8
- (4) 0.4

17. A body initially at rest and sliding along a frictionless track from a height h (as shown in the figure) just completes a vertical circle of diameter $AB = D$. The height h is equal to



- (1) $\frac{3}{2}D$
- (2) D
- (3) $\frac{7}{5}D$
- (4) $\frac{5}{4}D$

18. Three objects, A : (a solid sphere), B : (a thin circular disk) and C : (a circular ring), each have the same mass M and radius R . They all spin with the same angular speed ω about their own symmetry axes. The amounts of work (W) required to bring them to rest, would satisfy the relation

- (1) $W_C > W_B > W_A$
- (2) $W_A > W_B > W_C$
- (3) $W_B > W_A > W_C$
- (4) $W_A > W_C > W_B$

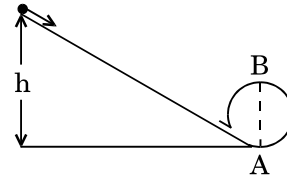
15. ନିମ୍ନଲିଖିତ କେଉଁ ଉକ୍ତିଟି **ଭୁଲ** ?

- (1) ଗଡ଼ାଣିଆ ଘର୍ଷଣ ଖସତା ଘର୍ଷଣ ଠାରୁ କମ୍ ।
- (2) ସ୍ଥିର ଚରମ ଘର୍ଷଣର ମୂଲ୍ୟ ଉର୍ଦ୍ଧ୍ୱପ୍ରତିକ୍ରିୟା ସହିତ ସମାନୁପାତୀ ।
- (3) ଘର୍ଷଣବଳ ଆପେକ୍ଷିକ ଗତିକୁ ବିରୋଧ କରେ ।
- (4) ଖସତା ଘର୍ଷଣର ଧ୍ରୁବାଙ୍କ ଓ ଦୈର୍ଘ୍ୟରେ ବିନିତ ସମାନ ଅଟେ ।

16. m ବସ୍ତୁରୁଥିବା ଏକ ଗତିଶୀଳ ବ୍ଲକ୍ $4m$ ବସ୍ତୁରେ ସ୍ଥିର ଅବସ୍ଥାରେ ଥିବା ଅନ୍ୟ ଏକ ବ୍ଲକ୍ ସହ ଧକ୍କା ଖାଇଲା । ଧକ୍କା ଖାଇବାପରେ ହାଲ୍‌କା ବ୍ଲକ୍ଟି ବିଶ୍ରାମ ଅବସ୍ଥାକୁ ଆସିଲା । ଯଦି ହାଲ୍‌କା ବ୍ଲକ୍‌ର ପ୍ରାଥମିକ ପରିବେଗ v ହୁଏ, ତାହାହେଲେ ପ୍ରତ୍ୟର୍ପଣର ଧ୍ରୁବାଙ୍କ (e) ହେବ

- (1) 0.5
- (2) 0.25
- (3) 0.8
- (4) 0.4

17. ବସ୍ତୁଟିଏ ପ୍ରାଥମିକ ଅବସ୍ଥାରେ ସ୍ଥିର ରହି h ଉଚ୍ଚତାରୁ ଏକ ଘର୍ଷଣ ବିହୀନ ମାର୍ଗରେ ଖସିଲା । ଯାହାଦ୍ୱାରା ସେ ଏକ ଭୂଲମ୍ବୀୟ ବୃତ୍ତର ବ୍ୟାସ $AB = D$ ରେ ଠିକ୍ ସମ୍ପୂର୍ଣ୍ଣ କଲା । ଉଚ୍ଚତା h କାହାସହ ସମାନ ହେବ ?



- (1) $\frac{3}{2}D$
- (2) D
- (3) $\frac{7}{5}D$
- (4) $\frac{5}{4}D$

18. ତିନୋଟି ବସ୍ତୁ, A : (ଏକ କଠିନ ଗୋଲକ), B : (ଏକ ବୃତ୍ତାକାର ଡିସ୍କ୍) ଓ C : (ଏକ ବୃତ୍ତାକାର ରିଙ୍ଗ୍) । ପ୍ରତ୍ୟେକ ସମାନ ବସ୍ତୁର M ଓ ବ୍ୟାସାର୍ଦ୍ଧ R ଅଟେ । ସେମାନେ ω କୌଣସି ବେଗରେ ସେମାନଙ୍କର ଅକ୍ଷ ଚାରିପଟେ ପ୍ରତିସାମ୍ୟ ରକ୍ଷାକରି ଘୂରୁଗତିରେ ଘୂରିବାକୁ ଲାଗିଲେ । ସେମାନଙ୍କୁ ବିଶ୍ରାମ ଅବସ୍ଥାକୁ ଆଣିବା ପାଇଁ କେତେପରିମାଣରେ କାର୍ଯ୍ୟ (W) କରିବାକୁ ଦରକାର । କେଉଁ ସମ୍ପର୍କଟି ସତ୍ୟ କରୁଛି ?

- (1) $W_C > W_B > W_A$
- (2) $W_A > W_B > W_C$
- (3) $W_B > W_A > W_C$
- (4) $W_A > W_C > W_B$

19. A tuning fork is used to produce resonance in a glass tube. The length of the air column in this tube can be adjusted by a variable piston. At room temperature of 27°C two successive resonances are produced at 20 cm and 73 cm of column length. If the frequency of the tuning fork is 320 Hz, the velocity of sound in air at 27°C is

- (1) 330 m/s
- (2) 339 m/s
- (3) 350 m/s
- (4) 300 m/s

20. An electron falls from rest through a vertical distance h in a uniform and vertically upward directed electric field E . The direction of electric field is now reversed, keeping its magnitude the same. A proton is allowed to fall from rest in it through the same vertical distance h . The time of fall of the electron, in comparison to the time of fall of the proton is

- (1) smaller
- (2) 5 times greater
- (3) 10 times greater
- (4) equal

21. A pendulum is hung from the roof of a sufficiently high building and is moving freely to and fro like a simple harmonic oscillator. The acceleration of the bob of the pendulum is 20 m/s^2 at a distance of 5 m from the mean position. The time period of oscillation is

- (1) $2\pi \text{ s}$
- (2) $\pi \text{ s}$
- (3) 2 s
- (4) 1 s

22. The electrostatic force between the metal plates of an isolated parallel plate capacitor C having a charge Q and area A , is

- (1) independent of the distance between the plates.
- (2) linearly proportional to the distance between the plates.
- (3) proportional to the square root of the distance between the plates.
- (4) inversely proportional to the distance between the plates.

19. ଏକ କାଚ ନଳୀରେ ଅନୁନାଦ ସୃଷ୍ଟି କରିବା ପାଇଁ ଏକ ଟ୍ୟୁନିଂ ଫର୍କ ବ୍ୟବହାର କରାଯାଏ । ଏକ ପରିବର୍ତ୍ତନଶୀଳ ପିଷ୍ଟନ୍‌ଦ୍ୱାରା ଏହି ନଳୀରେ ଗାୟତ୍ରସ୍ତର ଦୈର୍ଘ୍ୟକୁ ନିୟନ୍ତ୍ରଣ କରାଯାଏ । 27°C ର କକ୍ଷତାପମାତ୍ରାରେ ଦୁଇଟି କ୍ରମାଗତଭାବେ ଅନୁନାଦ 20 cm ଓ 73 cm ବାୟୁର ପ୍ରସ୍ତଦୈର୍ଘ୍ୟରେ ଉତ୍ପାଦିତ ହେଲା । ଯଦି ଟ୍ୟୁନିଂ ଫର୍କଟିର ଆବୃତ୍ତି 320 Hz ହୁଏ, ତାହାହେଲେ ପବନର 27°C ରେ ଧ୍ୱନିର ପରିବେଗ ହେବ ।

- (1) 330 m/s
- (2) 339 m/s
- (3) 350 m/s
- (4) 300 m/s

20. ଏକ ଇଲେକ୍ଟ୍ରନ୍ ବିଶ୍ରାମ ଅବସ୍ଥାରୁ ଏକ ଭୂଲମ୍ବୀୟ ଦୂରତା h ରେ, ସମାନ ଓ ଭୂଲମ୍ବର ଉର୍ଦ୍ଧକୁ ନିର୍ଦ୍ଦେଶିତ ଏକ ବିଦ୍ୟୁତ୍ କ୍ଷେତ୍ର E କୁ ଖସିପଡ଼ିଲା । ବର୍ତ୍ତମାନ ବିଦ୍ୟୁତ୍ କ୍ଷେତ୍ରର ପରିମାଣକୁ ସମାନ ରଖି ଦିଗକୁ ଓଲଟାଗଲା । ସେହି ଏକାଭୂଲମ୍ବୀୟ ଦୂରତା h ରେ ଏକ ପ୍ରୋଟନ୍‌କୁ ବିଶ୍ରାମ ଅବସ୍ଥାରୁ ଖସିପଡ଼ିବା ପାଇଁ ଅନୁମତି ଦିଆଗଲା । ଇଲେକ୍ଟ୍ରନ୍‌ର ପତନ ସମୟ, ପ୍ରୋଟନ୍‌ର ପତନ ସମୟ ତୁଳନାରେ

- (1) କମ୍
- (2) 5 ଗୁଣ ଅଧିକ
- (3) 10 ଗୁଣ ଅଧିକ
- (4) ସମାନ

21. ଏକ ଉଚ୍ଚକୋଠାର ଛାତରୁ ପେଣ୍ଡୁଲମ୍ ଟିଏ ଝୁଲାଇବାରୁ ଏହା ମୁକ୍ତରେ ଏକ ସରଳ ହାରମୋନିକ୍ ଅସିଲେଟର୍ ପରି ପଛକୁ ଆଗକୁ ଦୋଳନ କଲା । ମଧ୍ୟ ଅବସ୍ଥାନରୁ 5 m ଦୂରତାରେ ପେଣ୍ଡୁଲମ୍ ବକ୍ତିର ଦୂରଣ 20 m/s^2 ଅଟେ । ଏହି ଦୋଳନରେ ଆବର୍ତ୍ତକାଳ ହେବ ।

- (1) $2\pi \text{ s}$
- (2) $\pi \text{ s}$
- (3) 2 s
- (4) 1 s

22. ପୃଥକ ଭାବେ ଥିବା ଦୁଇଟି ସମାନ୍ତରାଳ ଧାତବୀୟ ପ୍ଲେଟ୍ ଧାରିତ୍ର C ଚାର୍ଜ Q ଓ କ୍ଷେତ୍ରଫଳ A ରେ ସ୍ଥିର ବିଦ୍ୟୁତ୍ ବଳ ହେବ

- (1) ଦୁଇଟି ପ୍ଲେଟ୍ ମଧ୍ୟରେ ଥିବା ଦୂରତା ଉପରେ ନିର୍ଭର କରେ ନାହିଁ ।
- (2) ଦୁଇଟି ପ୍ଲେଟ୍ ଦୂରତା ମଧ୍ୟରେ ରୈଖିକ ସମାନୁପାତୀ ।
- (3) ପ୍ଲେଟ୍ ଦୁଇଟି ମଧ୍ୟରେ ଥିବା ଦୂରତାର ବର୍ଗମୂଳ ସହ ସମାନୁପାତୀ ।
- (4) ଦୁଇଟି ପ୍ଲେଟ୍ ମଧ୍ୟରେ ଥିବା ଦୂରତା ସହିତ ପ୍ରତିଲୋମାନୁପାତୀ ।

23. An electron of mass m with an initial velocity $\vec{V} = V_0 \hat{i}$ ($V_0 > 0$) enters an electric field $\vec{E} = -E_0 \hat{i}$ ($E_0 = \text{constant} > 0$) at $t = 0$. If λ_0 is its de-Broglie wavelength initially, then its de-Broglie wavelength at time t is

(1) $\frac{\lambda_0}{\left(1 + \frac{eE_0 t}{mV_0}\right)}$

(2) $\lambda_0 \left(1 + \frac{eE_0 t}{mV_0}\right)$

(3) $\lambda_0 t$

(4) λ_0

24. For a radioactive material, half-life is 10 minutes. If initially there are 600 number of nuclei, the time taken (in minutes) for the disintegration of 450 nuclei is

(1) 20

(2) 10

(3) 30

(4) 15

25. When the light of frequency $2\nu_0$ (where ν_0 is threshold frequency), is incident on a metal plate, the maximum velocity of electrons emitted is v_1 . When the frequency of the incident radiation is increased to $5\nu_0$, the maximum velocity of electrons emitted from the same plate is v_2 . The ratio of v_1 to v_2 is

(1) 1 : 2

(2) 1 : 4

(3) 4 : 1

(4) 2 : 1

26. The ratio of kinetic energy to the total energy of an electron in a Bohr orbit of the hydrogen atom, is

(1) 1 : 1

(2) 1 : -1

(3) 2 : -1

(4) 1 : -2

23. m ବସ୍ତୁତ୍ଵର ସହ ଏକ ଇଲେକ୍ଟ୍ରନ୍ ଏହାର ପ୍ରାଥମିକ ପରିବେଗ $\vec{V} = V_0 \hat{i}$ ($V_0 > 0$) ଓ ସମୟ $t = 0$ ରେ ଏକ ବୈଦ୍ୟୁତିକ କ୍ଷେତ୍ର $\vec{E} = -E_0 \hat{i}$ ($E_0 = \text{ସ୍ଥିରାଙ୍କ} > 0$) ରେ ପ୍ରବେଶକଲା । ପ୍ରଥମେ ଯଦି ଡିବ୍ରୋଗ୍ଲିଙ୍କ ତରଙ୍ଗଦୈର୍ଘ୍ୟ λ_0 ଥାଏ, ସମୟ t ରେ ଡିବ୍ରୋଗ୍ଲିଙ୍କ ତରଙ୍ଗଦୈର୍ଘ୍ୟ ହେବ

(1) $\frac{\lambda_0}{\left(1 + \frac{eE_0 t}{mV_0}\right)}$

(2) $\lambda_0 \left(1 + \frac{eE_0 t}{mV_0}\right)$

(3) $\lambda_0 t$

(4) λ_0

24. ଏକ ତେଜସ୍କ୍ରିୟ ପଦାର୍ଥର ଅର୍ଦ୍ଧ-ଆୟୁକାଳ ହେଉଛି 10 ମିନିଟ୍ । ପ୍ରଥମରେ ଯଦି 600 ସଂଖ୍ୟକ ଦ୍ଵିକ୍ଳା ଥାଆନ୍ତି 450 ସଂଖ୍ୟକ ଦ୍ଵିକ୍ଳାର ବିଘନନ ପାଇଁ କେତେ ସମୟ (ମିନିଟ୍ରେ) ଦରକାର ।

(1) 20

(2) 10

(3) 30

(4) 15

25. କେଉଁ ଧାତୁର ପୃଷ୍ଠର ଆବୃତ୍ତି $2\nu_0$ (ଯେତେବେଳେ ν_0 ହେଉଛି ପ୍ରଭାବସୀମା ଆବୃତ୍ତି) ଆଲୋକ ଏକ ଧାତବ ପ୍ଲେଟର ପୃଷ୍ଠ ଉପରେ ପଡ଼ିବାରୁ ବିଚ୍ଛୁରିତ ହୋଇଥିବା ଇଲେକ୍ଟ୍ରନ୍ ମାନଙ୍କର ସର୍ବାଧିକ ପରିବେଗ v_1 ଅଟେ । ଯେତେବେଳେ ଆପତନ ବିକିରଣର ଆବୃତ୍ତିକୁ $5\nu_0$ କୁ ବୃଦ୍ଧିକରାଯାଏ, ସେହି ସମାନ ପ୍ଲେଟରୁ v_2 ସର୍ବାଧିକ ପରିବେଗରେ ଇଲେକ୍ଟ୍ରନ୍ ବିକିରଣ ହୋଇଥାଆନ୍ତି । v_1 ଓ v_2 ର ଅନୁପାତ ହେବ

(1) 1 : 2

(2) 1 : 4

(3) 4 : 1

(4) 2 : 1

26. ଉଦ୍‌ୟାନ ପରମାଣୁର, ବୋହର୍ଙ୍କ କକ୍ଷରେ ଗତିକରିବା ଓ ସମୁଦାୟ ଶକ୍ତି ମଧ୍ୟରେ ଅନୁପାତ ହେବ

(1) 1 : 1

(2) 1 : -1

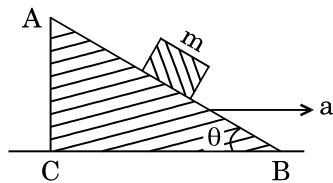
(3) 2 : -1

(4) 1 : -2

27. The moment of the force, $\vec{F} = 4\hat{i} + 5\hat{j} - 6\hat{k}$ at (2, 0, -3), about the point (2, -2, -2), is given by

- (1) $-8\hat{i} - 4\hat{j} - 7\hat{k}$
- (2) $-4\hat{i} - \hat{j} - 8\hat{k}$
- (3) $-7\hat{i} - 8\hat{j} - 4\hat{k}$
- (4) $-7\hat{i} - 4\hat{j} - 8\hat{k}$

28. A block of mass m is placed on a smooth inclined wedge ABC of inclination θ as shown in the figure. The wedge is given an acceleration 'a' towards the right. The relation between a and θ for the block to remain stationary on the wedge is



- (1) $a = \frac{g}{\operatorname{cosec} \theta}$
- (2) $a = \frac{g}{\sin \theta}$
- (3) $a = g \cos \theta$
- (4) $a = g \tan \theta$

29. A toy car with charge q moves on a frictionless horizontal plane surface under the influence of a uniform electric field \vec{E} . Due to the force $q\vec{E}$, its velocity increases from 0 to 6 m/s in one second duration. At that instant the direction of the field is reversed. The car continues to move for two more seconds under the influence of this field. The average velocity and the average speed of the toy car between 0 to 3 seconds are respectively

- (1) 2 m/s, 4 m/s
- (2) 1 m/s, 3 m/s
- (3) 1 m/s, 3.5 m/s
- (4) 1.5 m/s, 3 m/s

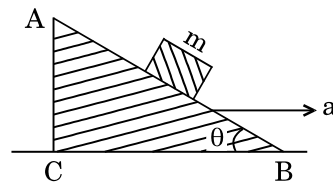
30. A student measured the diameter of a small steel ball using a screw gauge of least count 0.001 cm. The main scale reading is 5 mm and zero of circular scale division coincides with 25 divisions above the reference level. If screw gauge has a zero error of -0.004 cm, the correct diameter of the ball is

- (1) 0.521 cm
- (2) 0.525 cm
- (3) 0.053 cm
- (4) 0.529 cm

27. (2, 0, -3) ବିନ୍ଦୁରେ ବଳ $\vec{F} = 4\hat{i} + 5\hat{j} - 6\hat{k}$ ଅବେ (2, -2, -2) ବିନ୍ଦୁରେ ବଳର ଆତ୍ମକ୍ଷଣକ୍ରି ହେବ

- (1) $-8\hat{i} - 4\hat{j} - 7\hat{k}$
- (2) $-4\hat{i} - \hat{j} - 8\hat{k}$
- (3) $-7\hat{i} - 8\hat{j} - 4\hat{k}$
- (4) $-7\hat{i} - 4\hat{j} - 8\hat{k}$

28. ଚିତ୍ରରେ ଦର୍ଶାଯାଇଥିବା ଅନୁଯାୟୀ ଏକ ଆନତ ମସୃଣ θ ସମତଳର କଳା ABC ରେ m ବସ୍ତୁର ଏକ ବ୍ଲକ୍ ରଖାଗଲା । କଳାଟିକୁ ଡାହାଣ ଆଡକୁ 'a' ଦ୍ଵାରା ଦିଆଗଲା । କଳା ଉପରେ ବ୍ଲକ୍ଟି ଛିରି ରହିବାପାଇଁ a ଏବଂ θ ମଧ୍ୟରେ ଥିବା ସମ୍ପର୍କଟି ହେବ ।



- (1) $a = \frac{g}{\operatorname{cosec} \theta}$
- (2) $a = \frac{g}{\sin \theta}$
- (3) $a = g \cos \theta$
- (4) $a = g \tan \theta$

29. ଏକ ଖେଳନାକାର୍ q ଚାର୍ଜ ବହନ କରି ଏକ ଘର୍ଷଣବିହୀନ ଭୂସମତଳର ସମତଳ ପୃଷ୍ଠରେ, ସମବେଦ୍ୟୁତିକ କ୍ଷେତ୍ର \vec{E} ପ୍ରଭାବରେ ଗତିକଲା । ଏକ ସେକେଣ୍ଡ ବ୍ୟବଧାନରେ $q\vec{E}$ ବଳଯୋଗୁ ଏହାର ପରିବେଗ 0 ରୁ 6 m/s କୁ ବୃଦ୍ଧିହେଲା । ଠିକ୍ ସେହି ସମୟରେ କ୍ଷେତ୍ରଟିର ଦିଗ ଓଲଟିଗଲା । ଏହି କ୍ଷେତ୍ର ପ୍ରଭାବରେ କାରଟି ଅଧିକ ଦୁଇ ସେକେଣ୍ଡ ପାଇଁ ଗତିକଲା । 0 ରୁ 3 ସେକେଣ୍ଡ ମଧ୍ୟରେ ଖେଳନାଟିର ହାରାହାରି ପରିବେଗ ଓ ହାରାହାରି ବେଗ ହେବ

- (1) 2 m/s, 4 m/s
- (2) 1 m/s, 3 m/s
- (3) 1 m/s, 3.5 m/s
- (4) 1.5 m/s, 3 m/s

30. ସ୍ଫିନ୍ଦୁ ଗଜ୍ଜ କୁ ବ୍ୟବହାର କରି ଛାତ୍ରଟିଏ ଏକ କ୍ଷୁଦ୍ର ଲୁହା ବଲ୍‌ର ବ୍ୟାସ ମାପିଲା । ସ୍ଫିନ୍ଦୁ ଗଜ୍ଜର ଲିଷ୍ଟକାଉଣ୍ଡ 0.001 cm ମେନ୍ ଷ୍ଟେଲ୍ ପାଠ୍ୟାଙ୍କ ହେଉଛି 5 mm । ନିର୍ଦ୍ଧାରିତ ସ୍ତରରୁ 25 ଟି ବିଭାଗ ଉପରେ ସାର୍କୁଲାର ଷ୍ଟେଲ୍‌ର ଶୁନ୍ ପାଠ୍ୟାଙ୍କ ମେଳନ ଖାଇଲା । ଯଦି ସ୍ଫିନ୍ଦୁ ଗଜ୍ଜର ଶୁନ୍ୟତ୍ଵଟି - 0.004 cm ହୁଏ, ତାହାହେଲେ ବଲ୍‌ଟିର ଠିକ୍ ବ୍ୟାସଟି ହେବ ।

- (1) 0.521 cm
- (2) 0.525 cm
- (3) 0.053 cm
- (4) 0.529 cm

31. Unpolarised light is incident from air on a plane surface of a material of refractive index ' μ '. At a particular angle of incidence ' i ', it is found that the reflected and refracted rays are perpendicular to each other. Which of the following options is correct for this situation ?

- (1) Reflected light is polarised with its electric vector parallel to the plane of incidence
- (2) Reflected light is polarised with its electric vector perpendicular to the plane of incidence
- (3) $i = \sin^{-1}\left(\frac{1}{\mu}\right)$
- (4) $i = \tan^{-1}\left(\frac{1}{\mu}\right)$

32. In Young's double slit experiment the separation d between the slits is 2 mm, the wavelength λ of the light used is 5896 Å and distance D between the screen and slits is 100 cm. It is found that the angular width of the fringes is 0.20° . To increase the fringe angular width to 0.21° (with same λ and D) the separation between the slits needs to be changed to

- (1) 1.8 mm
- (2) 1.9 mm
- (3) 2.1 mm
- (4) 1.7 mm

33. An astronomical refracting telescope will have large angular magnification and high angular resolution, when it has an objective lens of

- (1) small focal length and large diameter
- (2) large focal length and small diameter
- (3) large focal length and large diameter
- (4) small focal length and small diameter

31. ଅନୁପୋଲାରାଇଜଡ୍ ଆଲୋକ, ବାୟୁରୁ ' μ ' ପ୍ରତିସରଣୀୟ ଥିବା ଏକ ବସ୍ତୁର ସମତଳପୃଷ୍ଠରେ ଆପତନ ହେଲା । ଏହା ଦେଖାଗଲାଯେ କୌଣସି ଏକ ନିର୍ଦ୍ଦିଷ୍ଟ ଆପତନ କୋଣ ' i ' ପାଇଁ ପ୍ରତିଫଳିତ ଓ ପ୍ରତିସରିତ ରଶ୍ମି ଦୁଇ ଉଭୟ ସହିତ ଲମ୍ବଭାବେ ରହିଲେ । ନିମ୍ନଲିଖିତ କେଉଁ ଉତ୍ତରଟି ଠିକ୍ । ଏହି ପରିସ୍ଥିତି ପାଇଁ ?

- (1) ପ୍ରତିଫଳିତ ଆଲୋକ ପୋଲାରାଇଜଡ୍ ହେବ ଓ ଏହାର ବିଦ୍ୟୁତ୍ ସଦିଶ ଆପତନ ସମତଳ ସହ ସମାନ୍ତରାଳରେ ରହିବ
- (2) ପ୍ରତିଫଳିତ ଆଲୋକ ପୋଲାରାଇଜଡ୍ ହେବ ଓ ବିଦ୍ୟୁତ୍ ସଦିଶ ଆପତନ ସମତଳ ସହ ଲମ୍ବଭାବେ ରହିବ
- (3) $i = \sin^{-1}\left(\frac{1}{\mu}\right)$
- (4) $i = \tan^{-1}\left(\frac{1}{\mu}\right)$

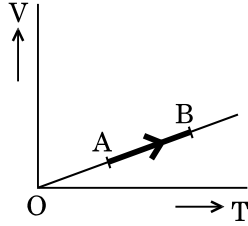
32. ଯଙ୍ଗଙ୍କ ଦ୍ୱିଛିଦ୍ର ପରୀକ୍ଷଣରେ ଦୁଇଟିଯାକ ଛିଦ୍ର ମଧ୍ୟରେ ଦୂରତା d , 2 mm ଅଟେ । ଆଲୋକର ତରଙ୍ଗଦୈର୍ଘ୍ୟ $\lambda = 5896 \text{ \AA}$ ଏବଂ ପରଦା ଓ ଛିଦ୍ର ମଧ୍ୟରେ ଦୂରତା D , 100 cm ଅଟେ । ଏହା ଦେଖାଗଲା ଯେ ଫ୍ରିଞ୍ଜମାନଙ୍କ ମଧ୍ୟରେ କୌଣସିକ ପ୍ରସ୍ଥ 0.20° ଅଟେ । ସେହି ତରଙ୍ଗ ଦୈର୍ଘ୍ୟ (λ ଓ ଦୂରତା D) କୁ ସମାନରଖି । ଫ୍ରିଞ୍ଜମାନଙ୍କ ମଧ୍ୟରେ କୌଣସିକ ପ୍ରସ୍ଥକୁ 0.21° କୁ ବୃଦ୍ଧିକରାଇଲେ ଛିଦ୍ରଦୁଇଟି ମଧ୍ୟରେ ଦୂରତାକୁ କେଉଁ ମୂଲ୍ୟକୁ ପରିବର୍ତ୍ତନ କରିବା ଦରକାର ?

- (1) 1.8 mm
- (2) 1.9 mm
- (3) 2.1 mm
- (4) 1.7 mm

33. ଏକ ଆଷ୍ଟ୍ରୋନୋମିକାଲ ପ୍ରତିସରିତ ଟେଲିସ୍କୋପର ଅଧିକ କୌଣସିକ ବର୍ଦ୍ଧନ ଓ ଉଚ୍ଚ କୌଣସିକ ଆକାର ପରିବର୍ତ୍ତକ ଶକ୍ତି ହେବ । ଯେତେବେଳେ ଏହି ଟେଲି ସ୍କୋପର ଅଭିଦୃଶ୍ୟକ ଲେନ୍ସର

- (1) କମ୍ ଫୋକସ୍ ଦୂରତା ଓ ଅଧିକ ବ୍ୟାସ
- (2) ଅଧିକ ଫୋକସ୍ ଦୂରତା ଓ କମ୍ ବ୍ୟାସ
- (3) ଅଧିକ ଫୋକସ୍ ଦୂରତା ଓ ଅଧିକ ବ୍ୟାସ
- (4) କମ୍ ଫୋକସ୍ ଦୂରତା ଓ କମ୍ ବ୍ୟାସ

34. The volume (V) of a monoatomic gas varies with its temperature (T), as shown in the graph. The ratio of work done by the gas, to the heat absorbed by it, when it undergoes a change from state A to state B, is



- (1) $\frac{2}{5}$
- (2) $\frac{2}{3}$
- (3) $\frac{1}{3}$
- (4) $\frac{2}{7}$

35. The fundamental frequency in an open organ pipe is equal to the third harmonic of a closed organ pipe. If the length of the closed organ pipe is 20 cm, the length of the open organ pipe is

- (1) 13.2 cm
- (2) 8 cm
- (3) 12.5 cm
- (4) 16 cm

36. The efficiency of an ideal heat engine working between the freezing point and boiling point of water, is

- (1) 26.8%
- (2) 20%
- (3) 6.25%
- (4) 12.5%

37. At what temperature will the rms speed of oxygen molecules become just sufficient for escaping from the Earth's atmosphere ?

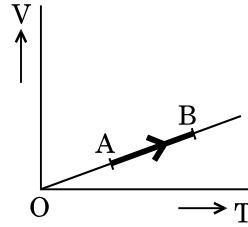
(Given :

$$\text{Mass of oxygen molecule (m)} = 2.76 \times 10^{-26} \text{ kg}$$

$$\text{Boltzmann's constant } k_B = 1.38 \times 10^{-23} \text{ J K}^{-1}$$

- (1) $2.508 \times 10^4 \text{ K}$
- (2) $8.360 \times 10^4 \text{ K}$
- (3) $5.016 \times 10^4 \text{ K}$
- (4) $1.254 \times 10^4 \text{ K}$

34. ଗ୍ରାଫରେ ଦର୍ଶାଯାଇଥିବା ଅନୁଯାୟୀ ଏକ ଏକପରମାଣୁକ ଗ୍ୟାସର ଆୟତନ (V), ତାପମାତ୍ରା (T) ଅନୁସାରେ ପରିବର୍ତ୍ତନ ହୁଏ । ଯେତେବେଳେ ଏହା ପରିସ୍ଥିତି A ରୁ ପରିସ୍ଥିତି B କୁ ପରିବର୍ତ୍ତନ ହୁଏ, ଗ୍ୟାସଦ୍ୱାରା କାର୍ଯ୍ୟସାଧନ ଓ ଏହାଦ୍ୱାରା ତାପ ଶୋଷଣର ଅନୁପାତ ହେବ ।



- (1) $\frac{2}{5}$
- (2) $\frac{2}{3}$
- (3) $\frac{1}{3}$
- (4) $\frac{2}{7}$

35. ଏକ ଖୋଲା ଅର୍ଗାନ ପାଇପର ମୌଳିକ ଆବୃତ୍ତି ଏକ ନିବୁଜ ଅର୍ଗାନ ପାଇପର ତୃତୀୟ ହାର୍ମୋନିକ ସହ ସମାନ । ଯଦି ନିବୁଜ ଅର୍ଗାନ ପାଇପର ଦୈର୍ଘ୍ୟ 20 cm ହୁଏ, ତାହାହେଲେ ଖୋଲା ଅର୍ଗାନପାଇପର ଦୈର୍ଘ୍ୟ ହେବ ।

- (1) 13.2 cm
- (2) 8 cm
- (3) 12.5 cm
- (4) 16 cm

36. ଜଳର ହିମାଙ୍କ ଓ ସ୍ଫୁଟନାଙ୍କ ମଧ୍ୟରେ କାର୍ଯ୍ୟକରୁଥିବା ଏକ ଆଦର୍ଶ ତାପୀୟ ଇଞ୍ଜିନ୍‌ର ଦକ୍ଷତା ହେବ

- (1) 26.8%
- (2) 20%
- (3) 6.25%
- (4) 12.5%

37. କେତେ ତାପମାତ୍ରାରେ, ଅମ୍ଳଜାନ ପରମାଣୁମାନଙ୍କର ମୂଳ-ମାଧ୍ୟ-ବର୍ଗ ବେଗ (rms), ପୃଥିବୀ ପୃଷ୍ଠରୁ ଠିକ ଉପରକୁ ଉଠିବାକୁ ଯଥେଷ୍ଟ ହେବ ।

(ଦିଆଯାଇଛି :

$$\text{ଅମ୍ଳଜାନ ପରମାଣୁର ବସ୍ତୁତ୍ଵ (m)} = 2.76 \times 10^{-26} \text{ kg}$$

$$\text{ବୋଲ୍‌ଜମାନଙ୍କ ସ୍ଥିରାଙ୍କ } k_B = 1.38 \times 10^{-23} \text{ J K}^{-1}$$

- (1) $2.508 \times 10^4 \text{ K}$
- (2) $8.360 \times 10^4 \text{ K}$
- (3) $5.016 \times 10^4 \text{ K}$
- (4) $1.254 \times 10^4 \text{ K}$

38. A metallic rod of mass per unit length 0.5 kg m^{-1} is lying horizontally on a smooth inclined plane which makes an angle of 30° with the horizontal. The rod is not allowed to slide down by flowing a current through it when a magnetic field of induction 0.25 T is acting on it in the vertical direction. The current flowing in the rod to keep it stationary is

- (1) 7.14 A
- (2) 5.98 A
- (3) 14.76 A
- (4) 11.32 A

39. An inductor 20 mH , a capacitor $100 \mu\text{F}$ and a resistor 50Ω are connected in series across a source of emf, $V = 10 \sin 314 t$. The power loss in the circuit is

- (1) 0.79 W
- (2) 0.43 W
- (3) 2.74 W
- (4) 1.13 W

40. A thin diamagnetic rod is placed vertically between the poles of an electromagnet. When the current in the electromagnet is switched on, then the diamagnetic rod is pushed up, out of the horizontal magnetic field. Hence the rod gains gravitational potential energy. The work required to do this comes from

- (1) the current source
- (2) the magnetic field
- (3) the lattice structure of the material of the rod
- (4) the induced electric field due to the changing magnetic field

41. Current sensitivity of a moving coil galvanometer is 5 div/mA and its voltage sensitivity (angular deflection per unit voltage applied) is 20 div/V . The resistance of the galvanometer is

- (1) 40Ω
- (2) 25Ω
- (3) 250Ω
- (4) 500Ω

38. ଏକ ଧାତବ ଦଣ୍ଡର ଏକକ ଦୈର୍ଘ୍ୟପାଇଁ ବସ୍ତୁତ୍ୱ 0.5 kg m^{-1} ଅଟେ । ଧାତବ ଦଣ୍ଡଟି ଏକ ଚିକ୍ନକଣ ଆନତ ସମତଳରେ ଭୂସମାନ୍ତର ସହ 30° କୋଣ କରିଥିବା ପୃଷ୍ଠରେ ଭୂସମାନ୍ତରରେ ରହିଲା । ଦଣ୍ଡଟିକୁ ଖସିବାକୁ ଅନୁମତି ଦିଆଗଲା ନାହିଁ । ଏଥିରେ ବିଦ୍ୟୁତ୍ ସ୍ରୋତ ପ୍ରବାହକରାଇ 0.25 T ର ରୁମ୍ଭକୀୟ କ୍ଷେତ୍ରର ପ୍ରଣୋଦକ ଭୂଲମ୍ବଦିଗରେ କାର୍ଯ୍ୟକଲା । ରଡ୍‌ଟିକୁ ସ୍ଥିର ରଖିବାପାଇଁ କେତେ ପରିମାଣର ବିଦ୍ୟୁତ୍ ସ୍ରୋତ ପ୍ରବାହିତ କରାଯିବ ?

- (1) 7.14 A
- (2) 5.98 A
- (3) 14.76 A
- (4) 11.32 A

39. ଏକ ପ୍ରଣୋଦକ 20 mH , ଏକ ଧାରିତ୍ର $100 \mu\text{F}$ ଓ ଏକ ପ୍ରତିରୋଧ 50Ω ର $V = 10 \sin 314 t$ ବିଦ୍ୟୁତ୍ ବାହାକ ବଳ (emf) ବହନକରୁଥିବା ଏକ ଉତ୍ସସହିତ ଶ୍ରେଣୀରେ ସଂଯୋଗ କରାଗଲେ । ପରିପଥଟିର କେତେ ପରିମାଣର ପାଞ୍ଚାରକ୍ଷୟ ହେବ

- (1) 0.79 W
- (2) 0.43 W
- (3) 2.74 W
- (4) 1.13 W

40. ଏକ ବିଦ୍ୟୁତ୍ ରୁମ୍ଭକର ଦୁଇ ମେରୁ ମଧ୍ୟରେ, ପତଳା ଦ୍ୱିରୁମ୍ଭକୀୟ ଦଣ୍ଡଟିଏ ଭୂଲମ୍ଭୀୟ ଭାବେ ରଖାଗଲା । ଯେତେବେଳେ ବିଦ୍ୟୁତ୍ ରୁମ୍ଭକରେ ବିଦ୍ୟୁତ୍ ସ୍ରୋତ ପ୍ରବାହ କରାଗଲା, ଦ୍ୱିରୁମ୍ଭକୀୟ ଦଣ୍ଡଟି ଭୂସମାନ୍ତରାଇ ରୁମ୍ଭକୀୟ କ୍ଷେତ୍ରରୁ ଉପରକୁ ଠେଲି ହୋଇଗଲା । ତଦ୍ୱାରା ଦଣ୍ଡଟି ମାଧ୍ୟାକର୍ଷଣଜନିତ ସ୍ଥିତିକ ଶକ୍ତି ଲାଭ କଲା । ଏହା କରିବାପାଇଁ ଯେଉଁ କାର୍ଯ୍ୟ ଦରକାର ତାହା କେଉଁଠାରୁ ଆସେ ?

- (1) ବିଦ୍ୟୁତ୍ ସ୍ରୋତର ଉତ୍ସ
- (2) ରୁମ୍ଭକୀୟ କ୍ଷେତ୍ର
- (3) ଦଣ୍ଡଟିର ଜାଲି ଢାଞ୍ଚା
- (4) ରୁମ୍ଭକୀୟ କ୍ଷେତ୍ର ପରିବର୍ତ୍ତନରୁ ବିଦ୍ୟୁତ୍ କ୍ଷେତ୍ରର ପ୍ରମୋଦକତା

41. ଏକ ମୁଭିଙ୍ଗ୍ କଲେ ଗାଲ୍‌ଭାନୋମିଟରର ବିଦ୍ୟୁତ୍ ସ୍ରୋତର ସ୍ୱର୍ଣ୍ଣକାତରତା 5 div/mA ଅଟେ ଓ ଏହାର ଭୋଲ୍‌ଟେଜର ସ୍ୱର୍ଣ୍ଣକାତରତା (ଏକକ ଭୋଲ୍‌ଟେଜ ପ୍ରୟୋଗପାଇଁ କୌଣସି ବିଚ୍ୟୁତି) 20 div/V ଅଟେ । ଗାଲ୍‌ଭାନୋମିଟରର ପ୍ରତିରୋଧତା ହେବ

- (1) 40Ω
- (2) 25Ω
- (3) 250Ω
- (4) 500Ω

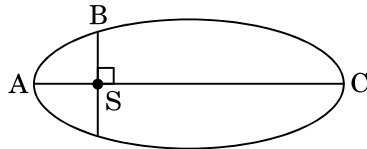
42. If the mass of the Sun were ten times smaller and the universal gravitational constant were ten times larger in magnitude, which of the following is **not** correct ?

- (1) Raindrops will fall faster.
- (2) Walking on the ground would become more difficult.
- (3) Time period of a simple pendulum on the Earth would decrease.
- (4) 'g' on the Earth will not change.

43. A solid sphere is in rolling motion. In rolling motion a body possesses translational kinetic energy (K_t) as well as rotational kinetic energy (K_r) simultaneously. The ratio $K_t : (K_t + K_r)$ for the sphere is

- (1) 7 : 10
- (2) 5 : 7
- (3) 10 : 7
- (4) 2 : 5

44. The kinetic energies of a planet in an elliptical orbit about the Sun, at positions A, B and C are K_A , K_B and K_C , respectively. AC is the major axis and SB is perpendicular to AC at the position of the Sun S as shown in the figure. Then



- (1) $K_A < K_B < K_C$
- (2) $K_A > K_B > K_C$
- (3) $K_B < K_A < K_C$
- (4) $K_B > K_A > K_C$

45. A solid sphere is rotating freely about its symmetry axis in free space. The radius of the sphere is increased keeping its mass same. Which of the following physical quantities would remain constant for the sphere ?

- (1) Angular velocity
- (2) Moment of inertia
- (3) Rotational kinetic energy
- (4) Angular momentum

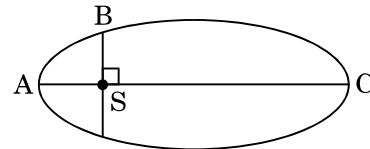
42. ଯଦି ସୂର୍ଯ୍ୟଙ୍କର ବସ୍ତୁତ୍ତ୍ୱକୁ 10 ଗୁଣରେ କମାଯାଏ ଏବଂ ସାର୍ବଜନୀନ ମାଧ୍ୟାକର୍ଷଣ ଜନିତ ଧ୍ରୁବୀକଙ୍କୁ 10 ଗୁଣରେ ବଢାଯାଏ, ପରିମାଣ ଅନୁସାରେ କେଉଁଟି ଠିକ୍ ହୁଏ ?

- (1) ଜଳବିନ୍ଦୁଗୁଡ଼ିକ ଶୀଘ୍ର ଖସିପଡ଼ିବେ ।
- (2) ଭୂମିରେ ଚାଲିବାପାଇଁ ଅଧିକ ଅସୁବିଧା ହେବ ।
- (3) ପୃଥିବୀ ପୃଷ୍ଠରେ ଏକ ସରଳ ଦୋଳ୍ୟରେ ଆବର୍ତ୍ତକାଳ କମ୍‌ହୋଇ ଯିବ ।
- (4) ପୃଥିବୀ ପୃଷ୍ଠରେ 'g' ର ମୂଲ୍ୟ ପରିବର୍ତ୍ତନ ହେବ ନାହିଁ ।

43. ଏକ କଠିନ ଗୋଲକ ଗଡ଼ାଣିଆ ଗତିରେ ଅଛି । ଗଡ଼ାଣିଆ ଗତିରେ ଗୋଲକଟି ଏକକାଳୀନ ରେଖୀୟ ଗତିଜ ଶକ୍ତି (K_t) ଓ ଆବର୍ତ୍ତନୀୟ ଗତିଜ ଶକ୍ତି (K_r) ଅଧିକାର କରିଥାଏ । ଗୋଲକର $K_t : (K_t + K_r)$ ଅନୁପାତ ହେବ

- (1) 7 : 10
- (2) 5 : 7
- (3) 10 : 7
- (4) 2 : 5

44. ସୂର୍ଯ୍ୟ ଚାରିପଟେ ଏକ ଆଣ୍ଡାକୃତି କକ୍ଷରେ ଏକ ଗ୍ରହର A, B ଓ C ଅବସ୍ଥାନରେ ଗତିଜଶକ୍ତି ଯଥାକ୍ରମେ K_A , K_B ଓ K_C ଅଟେ । AC ହେଉଛି ଏକ ବଡ଼ ଅକ୍ଷ ଓ SB, AC ଉପରେ ସୂର୍ଯ୍ୟଙ୍କର ସ୍ଥିତି S ରେ ଥିବାବେଳେ ଅକ୍ଷ ଅଭିଲମ୍ବ । ତାହାହେଲେ କେଉଁଟି ଠିକ୍ ।



- (1) $K_A < K_B < K_C$
- (2) $K_A > K_B > K_C$
- (3) $K_B < K_A < K_C$
- (4) $K_B > K_A > K_C$

45. ଶୂନ୍ୟରେ ଏକ କଠିନ ଗୋଲକ ଏହାର ଅକ୍ଷଚାରିପଟେ ପ୍ରତିସାମ୍ୟରଖି ମୁକ୍ତରେ ଘୁରୁଅଛି । ଗୋଲକର ବସ୍ତୁତ୍ତ୍ୱ ସମାନରଖି, ବ୍ୟାସାର୍ଦ୍ଧକୁ ବୃଦ୍ଧିକରାଗଲା । ଗୋଲକ ପାଇଁ ନିମ୍ନଲିଖିତ କେଉଁ ଭୌତିକ ରାଶିଟି ସ୍ଥିର ରହିବ ?

- (1) କୌଣସି ପରିବେଗ
- (2) ଜଡତ୍ୱ ଆଂଶୁ
- (3) ଆବର୍ତ୍ତନୀୟ ଗତିଜଶକ୍ତି
- (4) କୌଣସି ସଂବେଗ

46. A mixture of 2.3 g formic acid and 4.5 g oxalic acid is treated with conc. H_2SO_4 . The evolved gaseous mixture is passed through KOH pellets. Weight (in g) of the remaining product at STP will be

- (1) 1.4
- (2) 3.0
- (3) 2.8
- (4) 4.4

47. Nitration of aniline in strong acidic medium also gives m-nitroaniline because

- (1) In spite of substituents nitro group always goes to only m-position.
- (2) In electrophilic substitution reactions amino group is meta directive.
- (3) In absence of substituents nitro group always goes to m-position.
- (4) In acidic (strong) medium aniline is present as anilinium ion.

48. Which of the following oxides is most acidic in nature ?

- (1) MgO
- (2) BeO
- (3) BaO
- (4) CaO

49. The difference between amylose and amylopectin is

- (1) Amylopectin have $1 \rightarrow 4$ α -linkage and $1 \rightarrow 6$ α -linkage
- (2) Amylose have $1 \rightarrow 4$ α -linkage and $1 \rightarrow 6$ β -linkage
- (3) Amylopectin have $1 \rightarrow 4$ α -linkage and $1 \rightarrow 6$ β -linkage
- (4) Amylose is made up of glucose and galactose

50. Regarding cross-linked or network polymers, which of the following statements is **incorrect** ?

- (1) They contain covalent bonds between various linear polymer chains.
- (2) They are formed from bi- and tri-functional monomers.
- (3) Examples are bakelite and melamine.
- (4) They contain strong covalent bonds in their polymer chains.

46. 2.3 g ଫର୍ମିକ୍ ଅମ୍ଳ ଏବଂ 4.5 g ଅକ୍ସାଲିକ୍ ଅମ୍ଳର ମିଶ୍ରଣକୁ ଗାଢ଼ H_2SO_4 ସଲ୍ଫ୍ୟୁରିକ୍ ଅମ୍ଳ ସହିତ ପ୍ରତିକ୍ରିୟା କରାଇଲେ ଯେଉଁ ବାସ୍ତାୟ ମିଶ୍ରଣଟି ବାହାରିବ ତାକୁ KOH ଦାନା ଭିତରେ ଦେଇ ପ୍ରବାହିତ କଲାପରେ ଅବଶିଷ୍ଟ ଉତ୍ପାଦର ଓଜନ (g) STP ରେ କେତେ ହେବ ?

- (1) 1.4
- (2) 3.0
- (3) 2.8
- (4) 4.4

47. ଏନିଲିନ୍‌କୁ ତୀବ୍ର ଅମ୍ଳୀୟ ମାଧ୍ୟମରେ ନାଇଟ୍ରେସନ୍ କଲେ କିଛି m-ନାଇଟ୍ରୋଏନିଲିନ୍ ଦିଏ, କାରଣ

- (1) ସର୍ବପ୍ରଥମେ ସତ୍ତ୍ୱେ ନାଇଟ୍ରୋଗ୍ରୁପ୍ ସବୁବେଳେ କେବଳ m-ସ୍ଥାନକୁ ଯାଏ ।
- (2) ଇଲେକ୍ଟ୍ରୋଫିଲିକ ପ୍ରତିସ୍ଥାପନ ପ୍ରତିକ୍ରିୟାରେ ଏମିନୋଗ୍ରୁପ୍‌ଟି m-ଦିଶାସୂଚକ ।
- (3) ସର୍ବପ୍ରଥମେ ଅନୁପସ୍ଥିତିରେ ନାଇଟ୍ରୋଗ୍ରୁପ୍ ସବୁବେଳେ m-ସ୍ଥାନକୁ ଯାଏ ।
- (4) ତୀବ୍ର ଅମ୍ଳୀୟ ମାଧ୍ୟମରେ ଏନିଲିନ୍, ଏନିଲିନିୟମ୍ ଆୟନ ଭାବରେ ଥାଏ ।

48. ନିମ୍ନଲିଖିତ ଅକ୍ସାଇଡସ୍ ମଧ୍ୟରୁ କିଏ ପ୍ରକୃତିରେ ସବୁଠାରୁ ଅଧିକ ଅମ୍ଳୀୟ ?

- (1) MgO
- (2) BeO
- (3) BaO
- (4) CaO

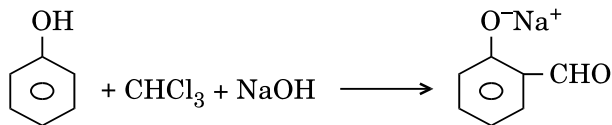
49. ଏମାଇଲୋଜ୍ ଓ ଏମାଇଲୋପେକ୍ଟିନ୍ ମଧ୍ୟରେ ପ୍ରଭେଦ ହେଉଛି

- (1) ଏମାଇଲୋପେକ୍ଟିନ୍‌ର $1 \rightarrow 4$ α -ସଂଯୋଗ ଏବଂ $1 \rightarrow 6$ α -ସଂଯୋଗ ଅଛି
- (2) ଏମାଇଲୋଜ୍‌ର $1 \rightarrow 4$ α -ସଂଯୋଗ ଏବଂ $1 \rightarrow 6$ β -ସଂଯୋଗ ଅଛି
- (3) ଏମାଇଲୋପେକ୍ଟିନ୍‌ର $1 \rightarrow 4$ α -ସଂଯୋଗ ଏବଂ $1 \rightarrow 6$ β -ସଂଯୋଗ ଅଛି
- (4) ଏମାଇଲୋଜ୍ ଗ୍ଲୁକୋଜ୍ ଓ ଗାଲକ୍ଟୋଜ୍ ଦ୍ୱାରା ଗଠିତ

50. କ୍ରସ୍‌ଲିଙ୍କଡ୍ ଓ ନେଟୱାର୍କ ବହୁଳକ ମାନକ ବିଷୟରେ ନିମ୍ନଲିଖିତ କେଉଁ ଉକ୍ତିଟି ଭୁଲ୍ ?

- (1) ବିଭିନ୍ନ ରୈଖିକ ବହୁଳକ ଶୃଙ୍ଖଳ ଭିତରେ ସହଯୋଗୀ ବନ୍ଧ ଥାଏ ।
- (2) ସେମାନେ ଦୁଇ ଏବଂ ତ୍ରିକ୍ରିୟାତ୍ମକ ମନୋମର ଠାରୁ ଗଠିତ ।
- (3) ଉଦାହରଣ ସ୍ୱରୂପ ବେକ୍‌ଲାଇଟ୍ ଓ ମେଲ୍ୟାମିନ୍ ।
- (4) ବହୁଳକ ଶୃଙ୍ଖଳରେ ଦୃଢ଼ ସହଯୋଗୀବନ୍ଧ ଥାଏ ।

51. In the reaction



the electrophile involved is

- (1) dichloromethyl cation (CHCl_2^+)
- (2) formyl cation (CHO^+)
- (3) dichloromethyl anion (CHCl_2^-)
- (4) dichlorocarbene ($:\text{CCl}_2$)

52. Carboxylic acids have higher boiling points than aldehydes, ketones and even alcohols of comparable molecular mass. It is due to their

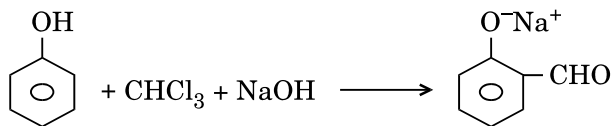
- (1) formation of intramolecular H-bonding
- (2) formation of carboxylate ion
- (3) more extensive association of carboxylic acid via van der Waals force of attraction
- (4) formation of intermolecular H-bonding

53. Compound A, $\text{C}_8\text{H}_{10}\text{O}$, is found to react with NaOI (produced by reacting Y with NaOH) and yields a yellow precipitate with characteristic smell.

A and Y are respectively

- (1) $\text{H}_3\text{C}-\text{C}_6\text{H}_4-\text{CH}_2-\text{OH}$ and I_2
- (2) $\text{C}_6\text{H}_5-\text{CH}_2-\text{CH}_2-\text{OH}$ and I_2
- (3) $\text{C}_6\text{H}_5-\text{CH}(\text{OH})-\text{CH}_3$ and I_2
- (4) $\text{CH}_3-\text{C}_6\text{H}_3(\text{CH}_3)_2-\text{OH}$ and I_2

51. ନିମ୍ନ ପ୍ରତିକ୍ରିୟାଟିରେ



କେଉଁ ଇଲେକ୍ଟ୍ରୋଫାଇଲ୍ ଜଡ଼ିତ ?

- (1) ଡାଇକ୍ଲୋରୋମିଥାଇଲ୍ କାଟାୟନ (CHCl_2^+)
- (2) ଫର୍ମିଲ୍ କାଟାୟନ (CHO^+)
- (3) ଡାଇକ୍ଲୋରୋମିଥାଇଲ୍ ଏନାୟନ (CHCl_2^-)
- (4) ଡାଇକ୍ଲୋରୋ କାର୍ବିନ୍ ($:\text{CCl}_2$)

52. କାର୍ବୋକ୍ସିଲିକ୍ ଅମ୍ଳମାନଙ୍କର ସ୍ଫୁଟନାଙ୍କ ତାର ତୁଳନୀୟ ଆଣବିକ ବୃତ୍ତୁତ୍ଵ ଥିବା ଏଲଡିହାଇଡ୍, କିଟୋନ୍ ଏପରିକି ଆଲ୍କୋହଲ୍ ଠାରୁ ମଧ୍ୟ ଅଧିକ । କାରଣ ଏହା

- (1) ଅଣୁମଧ୍ୟସ୍ଥ ଉଦ୍‌ଜାନ-ବନ୍ଧ ପାଇଁ
- (2) କାର୍ବୋକ୍ସିଲେଟ୍ ଆୟନ ଗଠନ ପାଇଁ
- (3) କାର୍ବୋକ୍ସିଲିକ୍ ଅମ୍ଳ ଭାଣ୍ଡରବାଲ୍‌ଙ୍କ ଆକର୍ଷଣୀୟ ବଳଦ୍ଵାରା ବ୍ୟାପକ ଭାବରେ ସଂଶ୍ଳିଷ୍ଟ ଥାଏ
- (4) ଅନ୍ତଃ ଅଣୁକ ଉଦ୍‌ଜାନ-ବନ୍ଧ ପାଇଁ

53. ଯୌଗିକ A, $\text{C}_8\text{H}_{10}\text{O}$ କୁ NaOI (Y ସହିତ NaOH ର ପ୍ରତିକ୍ରିୟାରୁ ଉତ୍ପନ୍ନ) ସହିତ ସଂଯୋଗକଲେ ଏକ ବିଶିଷ୍ଟ ଗନ୍ଧଥିବା ଗୋଟିଏ ହଳଦୀଆ ଅବପାତ ଦିଏ ।

A ଏବଂ Y ଯଥାକ୍ରମେ

- (1) $\text{H}_3\text{C}-\text{C}_6\text{H}_4-\text{CH}_2-\text{OH}$ ଏବଂ I_2
- (2) $\text{C}_6\text{H}_5-\text{CH}_2-\text{CH}_2-\text{OH}$ ଏବଂ I_2
- (3) $\text{C}_6\text{H}_5-\text{CH}(\text{OH})-\text{CH}_3$ ଏବଂ I_2
- (4) $\text{CH}_3-\text{C}_6\text{H}_3(\text{CH}_3)_2-\text{OH}$ ଏବଂ I_2

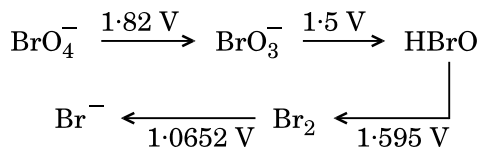
54. The correct difference between first- and second-order reactions is that

- (1) the rate of a first-order reaction does not depend on reactant concentrations; the rate of a second-order reaction does depend on reactant concentrations
- (2) the half-life of a first-order reaction does not depend on $[A]_0$; the half-life of a second-order reaction does depend on $[A]_0$
- (3) a first-order reaction can be catalyzed; a second-order reaction cannot be catalyzed
- (4) the rate of a first-order reaction does depend on reactant concentrations; the rate of a second-order reaction does not depend on reactant concentrations

55. Among CaH_2 , BeH_2 , BaH_2 , the order of ionic character is

- (1) $\text{BeH}_2 < \text{CaH}_2 < \text{BaH}_2$
- (2) $\text{CaH}_2 < \text{BeH}_2 < \text{BaH}_2$
- (3) $\text{BeH}_2 < \text{BaH}_2 < \text{CaH}_2$
- (4) $\text{BaH}_2 < \text{BeH}_2 < \text{CaH}_2$

56. Consider the change in oxidation state of Bromine corresponding to different emf values as shown in the diagram below :



Then the species undergoing disproportionation is

- (1) BrO_3^-
- (2) BrO_4^-
- (3) Br_2
- (4) HBrO

57. In which case is the number of molecules of water maximum ?

- (1) 18 mL of water
- (2) 0.18 g of water
- (3) 0.00224 L of water vapours at 1 atm and 273 K
- (4) 10^{-3} mol of water

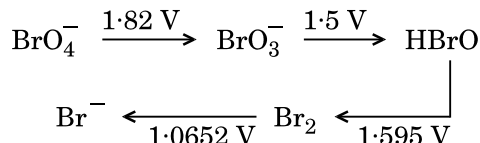
54. ପ୍ରଥମ କ୍ରମ ଓ ଦ୍ୱିତୀୟ କ୍ରମ ପ୍ରତିକ୍ରିୟାର ସଠିକ୍ ତାରତମ୍ୟଟି ହେଉଛି

- (1) ପ୍ରଥମ କ୍ରମ ପ୍ରତିକ୍ରିୟାର ହାର ପ୍ରତିକାରକର ସାନ୍ଦ୍ରତା ଉପରେ ନିର୍ଭର କରେ ନାହିଁ କିନ୍ତୁ ଦ୍ୱିତୀୟ କ୍ରମ ପ୍ରତିକାରକର ସାନ୍ଦ୍ରତା ଉପରେ ନିର୍ଭର କରେ
- (2) ପ୍ରଥମ କ୍ରମ ପ୍ରତିକ୍ରିୟାର ଅର୍ଦ୍ଧାୟୁ $[A]_0$ ଉପରେ ନିର୍ଭର କରେ ନାହିଁ କିନ୍ତୁ ଦ୍ୱିତୀୟ କ୍ରମ ପ୍ରତିକ୍ରିୟାର ଅର୍ଦ୍ଧାୟୁ $[A]_0$ ଉପରେ ନିର୍ଭର କରେ
- (3) ପ୍ରଥମକ୍ରମ ପ୍ରତିକ୍ରିୟା ଉତ୍ତପ୍ରେରିତ ହୋଇ ପାରିବ କିନ୍ତୁ ଦ୍ୱିତୀୟ କ୍ରମ ପ୍ରତିକ୍ରିୟା ଉତ୍ତପ୍ରେରିତ ହୋଇ ପାରିବ ନାହିଁ
- (4) ପ୍ରଥମ କ୍ରମ ପ୍ରତିକ୍ରିୟାର ହାର ପ୍ରତିକାରକ ସାନ୍ଦ୍ରତା ଉପରେ ନିର୍ଭର କରେ କିନ୍ତୁ ଦ୍ୱିତୀୟ କ୍ରମ ପ୍ରତିକ୍ରିୟା ନିର୍ଭର କରେ ନାହିଁ

55. CaH_2 , BeH_2 , BaH_2 ମଧ୍ୟରେ ଆୟୋନିକ ଲକ୍ଷଣର କ୍ରମଟି

- (1) $\text{BeH}_2 < \text{CaH}_2 < \text{BaH}_2$
- (2) $\text{CaH}_2 < \text{BeH}_2 < \text{BaH}_2$
- (3) $\text{BeH}_2 < \text{BaH}_2 < \text{CaH}_2$
- (4) $\text{BaH}_2 < \text{BeH}_2 < \text{CaH}_2$

56. ନିମ୍ନଲିଖିତ ଚିତ୍ରଟିରେ ବ୍ରୋମିନର ବିଭିନ୍ନ ଇ.ଏମ୍.ଏଫ୍. (emf) ମୂଲ୍ୟ ସହିତ ଜାରଣ ଅବସ୍ଥାର ପରିବର୍ତ୍ତନକୁ ବିକାର କର :



କେଉଁ ବର୍ଗଟିରେ ବିଅନୁପାତୀକରଣ ଘଟୁଛି ?

- (1) BrO_3^-
- (2) BrO_4^-
- (3) Br_2
- (4) HBrO

57. କେଉଁ ପରିସ୍ଥିତିରେ ଜଳର ଅଣୁସଂଖ୍ୟା ସର୍ବାଧିକ ?

- (1) 18 mL ଜଳ
- (2) 0.18 g ଜଳ
- (3) 0.00224 L ଜଳୀୟ ବାଷ୍ପ 1 atm ଏବଂ 273 K ରେ
- (4) 10^{-3} ମୋଲ୍ ଜଳ

58. Magnesium reacts with an element (X) to form an ionic compound. If the ground state electronic configuration of (X) is $1s^2 2s^2 2p^3$, the simplest formula for this compound is

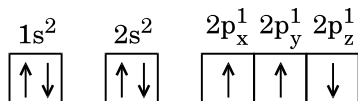
- (1) Mg_2X_3
- (2) MgX_2
- (3) Mg_2X
- (4) Mg_3X_2

59. Iron exhibits bcc structure at room temperature. Above $900^\circ C$, it transforms to fcc structure. The ratio of density of iron at room temperature to that at $900^\circ C$ (assuming molar mass and atomic radii of iron remains constant with temperature) is

- (1) $\frac{\sqrt{3}}{\sqrt{2}}$
- (2) $\frac{4\sqrt{3}}{3\sqrt{2}}$
- (3) $\frac{3\sqrt{3}}{4\sqrt{2}}$
- (4) $\frac{1}{2}$

60. Which one is a **wrong** statement ?

- (1) Total orbital angular momentum of electron in 's' orbital is equal to zero.
- (2) An orbital is designated by three quantum numbers while an electron in an atom is designated by four quantum numbers.
- (3) The electronic configuration of N atom is



- (4) The value of m for d_{z^2} is zero.

61. Consider the following species :



Which one of these will have the highest bond order ?

- (1) NO
- (2) CN^-
- (3) CN^+
- (4) CN

58. ମ୍ୟାଗ୍ନେସିୟମ୍ ଏକ ମୌଳିକ (X) ସହିତ ପ୍ରତିକ୍ରିୟା କରି ଏକ ଆୟୋନିକ୍ ଯୌଗିକ ପ୍ରସ୍ତୁତ କରେ । ଯଦି ମୂଳ ଅବସ୍ଥାରେ (X) ର ଇଲେକ୍ଟ୍ରୋନିକ ବିନ୍ୟାସ $1s^2 2s^2 2p^3$ ହୁଏ, ତାହେଲେ ଯୌଗିକର ସବୁଠୁ ସରଳ ସଂକେତଟି ହେଲା

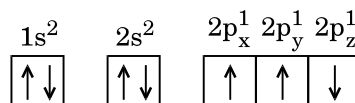
- (1) Mg_2X_3
- (2) MgX_2
- (3) Mg_2X
- (4) Mg_3X_2

59. କମ୍ପ ଡାପମାତ୍ରାରେ ଆଇରନ୍ bcc ଆକୃତି ଦେଖାଏ । $900^\circ C$ ଉପରେ ଏହା fcc ରୂପାନ୍ତରିତ ହୁଏ । କମ୍ପଡାପମାତ୍ରା ଓ $900^\circ C$ ରେ ଆଇରନ୍ର ଘନତ୍ଵର ଅନୁପାତଟି (ଆଇରନ୍ର ମୋଲାର ଏବଂ ଏମିକ ରାଡ଼ିଆଲକୁ ଡାପମାତ୍ରା ସହିତ ସ୍ଥିର ବୋଲି ଧରାଯାଉ)

- (1) $\frac{\sqrt{3}}{\sqrt{2}}$
- (2) $\frac{4\sqrt{3}}{3\sqrt{2}}$
- (3) $\frac{3\sqrt{3}}{4\sqrt{2}}$
- (4) $\frac{1}{2}$

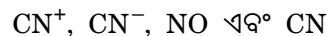
60. ନିମ୍ନଲିଖିତ ଉକ୍ତି ମଧ୍ୟରୁ କେଉଁଟି ଭୁଲ ?

- (1) 's' କକ୍ଷକରେ ଥିବା ଇଲେକ୍ଟ୍ରନ୍ର ସମସ୍ତ କକ୍ଷୀୟ କୋଣୀୟ ସଂବେଗ ଶୂନ୍ୟ ସହିତ ସମାନ ।
- (2) ଏକ କକ୍ଷକ ତିନୋଟି କ୍ୱାଣ୍ଟମ୍ ନମ୍ବର ଦ୍ଵାରା ଚିହ୍ନିତ ହୁଏ ଏବଂ ଏକ ଇଲେକ୍ଟ୍ରନ୍ ଜାରୋଟି କ୍ୱାଣ୍ଟମ୍ ନମ୍ବର ଚିହ୍ନିତ ହୁଏ ।
- (3) N ପରମାଣୁର ଇଲେକ୍ଟ୍ରୋନିକ୍ ବିନ୍ୟାସଟି



- (4) d_{z^2} ପାଇଁ m ର ମୂଲ୍ୟ ଶୂନ୍ୟ ।

61. ନିମ୍ନଲିଖିତ ବର୍ଗଗୁଡ଼ିକୁ ବିଚାରକୁ ନିଅ



ତନ୍ମଧ୍ୟରୁ କାହାର ସବୁଠାରୁ ଅଧିକ ବନ୍ଧକ୍ରମ ?

- (1) NO
- (2) CN^-
- (3) CN^+
- (4) CN

62. Which of the following statements is *not* true for halogens ?

- (1) All form monobasic oxyacids.
- (2) All are oxidizing agents.
- (3) All but fluorine show positive oxidation states.
- (4) Chlorine has the highest electron-gain enthalpy.

63. Which one of the following elements is unable to form MF_6^{3-} ion ?

- (1) Ga
- (2) Al
- (3) B
- (4) In

64. In the structure of ClF_3 , the number of lone pairs of electrons on central atom 'Cl' is

- (1) one
- (2) two
- (3) four
- (4) three

65. Considering Ellingham diagram, which of the following metals can be used to reduce alumina ?

- (1) Fe
- (2) Zn
- (3) Mg
- (4) Cu

66. The correct order of atomic radii in group 13 elements is

- (1) $B < Al < In < Ga < Tl$
- (2) $B < Al < Ga < In < Tl$
- (3) $B < Ga < Al < Tl < In$
- (4) $B < Ga < Al < In < Tl$

67. The correct order of N-compounds in its decreasing order of oxidation states is

- (1) HNO_3, NO, N_2, NH_4Cl
- (2) HNO_3, NO, NH_4Cl, N_2
- (3) HNO_3, NH_4Cl, NO, N_2
- (4) NH_4Cl, N_2, NO, HNO_3

62. ହାଲୋଜେନମାନଙ୍କ ପାଇଁ ନିମ୍ନଲିଖିତ ଉକ୍ତି ମଧ୍ୟରୁ କେଉଁଟି ଠିକ୍ ନୁହେଁ ?

- (1) ସମସ୍ତେ ମନୋବେସିକ୍ ଅକ୍ସିଅମ୍ ଗଠନ କରନ୍ତି ।
- (2) ସମସ୍ତେ ଜାରଣ ଅଭିକର୍ତ୍ତା ।
- (3) ଫ୍ଲୋରିନ୍ କୁ ଛାଡ଼ି ସମସ୍ତେ ଧନାତ୍ମକ ଜାରଣ ଅବସ୍ଥା ଦେଖାନ୍ତି ।
- (4) କ୍ଲୋରିନର ଇଲେକ୍ଟ୍ରନ୍ ଗେନ୍ ଏନ୍ଥାଲପି ସବୁଠୁ ଅଧିକ ।

63. ନିମ୍ନଲିଖିତ ମୌଳିକ ମାନଙ୍କ ମଧ୍ୟରୁ କିଏ MF_6^{3-} ଆୟନ ଗଠନ କରିବା ପାଇଁ ଅସମର୍ଥ ?

- (1) Ga
- (2) Al
- (3) B
- (4) In

64. ClF_3 ଆକୃତିରେ କେନ୍ଦ୍ରିତ ପରମାଣୁ 'Cl' ରେ କେତେ ସଂଖ୍ୟାରେ ଏକାକୀ ଇଲେକ୍ଟ୍ରନ୍ ଯୁଗ୍ମ ଅଛି ?

- (1) ଗୋଟିଏ
- (2) ଦୁଇ
- (3) ତିନି
- (4) ଚାରି

65. ନିମ୍ନଲିଖିତ ଧାତୁଗୁଡ଼ିକ ମଧ୍ୟରୁ କାହାକୁ ଆଲୁମିନାକୁ ଜାରଣ କରିବା ପାଇଁ ବ୍ୟବହାର କରିହେବ, ଏଲିଙ୍ଗହାମ୍ ଚିତ୍ରକୁ ବିଚାରକୁ ନେଇ ଦର୍ଶାଅ ।

- (1) Fe
- (2) Zn
- (3) Mg
- (4) Cu

66. ଗ୍ରୁପ୍ 13 ର ମୌଳିକ ମାନଙ୍କର ପରମାଣୁ ବ୍ୟାସାର୍ଦ୍ଧ ଗୁଡ଼ିକର ସଠିକ୍ କ୍ରମଟି ବାଛି

- (1) $B < Al < In < Ga < Tl$
- (2) $B < Al < Ga < In < Tl$
- (3) $B < Ga < Al < Tl < In$
- (4) $B < Ga < Al < In < Tl$

67. ନିମ୍ନଲିଖିତ ଯୌଗିକ ଗୁଡ଼ିକ ମଧ୍ୟରୁ ଯେଉଁ କ୍ରମଟିରେ ସଠିକ୍ ଭାବେ N-ର ଜାରଣ ଅବସ୍ଥା କ୍ରମହ୍ରାସିତ ଭାବରେ ଅଛି ତାକୁ ଦର୍ଶାଅ

- (1) HNO_3, NO, N_2, NH_4Cl
- (2) HNO_3, NO, NH_4Cl, N_2
- (3) HNO_3, NH_4Cl, NO, N_2
- (4) NH_4Cl, N_2, NO, HNO_3

68. On which of the following properties does the coagulating power of an ion depend ?

- (1) The magnitude of the charge on the ion alone
- (2) Size of the ion alone
- (3) Both magnitude and sign of the charge on the ion
- (4) The sign of charge on the ion alone

69. Following solutions were prepared by mixing different volumes of NaOH and HCl of different concentrations :

- a. $60 \text{ mL } \frac{M}{10} \text{ HCl} + 40 \text{ mL } \frac{M}{10} \text{ NaOH}$
- b. $55 \text{ mL } \frac{M}{10} \text{ HCl} + 45 \text{ mL } \frac{M}{10} \text{ NaOH}$
- c. $75 \text{ mL } \frac{M}{5} \text{ HCl} + 25 \text{ mL } \frac{M}{5} \text{ NaOH}$
- d. $100 \text{ mL } \frac{M}{10} \text{ HCl} + 100 \text{ mL } \frac{M}{10} \text{ NaOH}$

pH of which one of them will be equal to 1 ?

- (1) b
- (2) a
- (3) d
- (4) c

70. The solubility of BaSO_4 in water is $2.42 \times 10^{-3} \text{ gL}^{-1}$ at 298 K. The value of its solubility product (K_{sp}) will be

(Given molar mass of $\text{BaSO}_4 = 233 \text{ g mol}^{-1}$)

- (1) $1.08 \times 10^{-10} \text{ mol}^2 \text{ L}^{-2}$
- (2) $1.08 \times 10^{-12} \text{ mol}^2 \text{ L}^{-2}$
- (3) $1.08 \times 10^{-14} \text{ mol}^2 \text{ L}^{-2}$
- (4) $1.08 \times 10^{-8} \text{ mol}^2 \text{ L}^{-2}$

71. Given van der Waals constant for NH_3 , H_2 , O_2 and CO_2 are respectively 4.17, 0.244, 1.36 and 3.59, which one of the following gases is most easily liquefied ?

- (1) NH_3
- (2) H_2
- (3) O_2
- (4) CO_2

68. ଆୟନର ଦାନାଧାରଣ ଶକ୍ତି ନିମ୍ନପ୍ରଦତ୍ତ କେଉଁ ଗୁଣ ଗୁଡ଼ିକ ଉପରେ ନିର୍ଭର କରେ ?

- (1) କେବଳ ଆୟନର ଚାର୍ଜର ପରିମାଣ ଉପରେ
- (2) କେବଳ ଆୟନର ଆକାର ଉପରେ
- (3) ଉଭୟ ଚାର୍ଜର ପରିମାଣ ଓ ଚିହ୍ନ ଉପରେ
- (4) କେବଳ ଆୟନର ଚାର୍ଜର ଚିହ୍ନ ଉପରେ

69. ନିମ୍ନଲିଖିତ ଦ୍ରବଣଗୁଡ଼ିକ ଭିନ୍ନଭିନ୍ନ ଆୟତନ ଓ ସାନ୍ଦ୍ରତାର NaOH ଏବଂ HCl ନେଇ ପ୍ରସ୍ତୁତ ହୋଇଛି :

- a. $60 \text{ mL } \frac{M}{10} \text{ HCl} + 40 \text{ mL } \frac{M}{10} \text{ NaOH}$
- b. $55 \text{ mL } \frac{M}{10} \text{ HCl} + 45 \text{ mL } \frac{M}{10} \text{ NaOH}$
- c. $75 \text{ mL } \frac{M}{5} \text{ HCl} + 25 \text{ mL } \frac{M}{5} \text{ NaOH}$
- d. $100 \text{ mL } \frac{M}{10} \text{ HCl} + 100 \text{ mL } \frac{M}{10} \text{ NaOH}$

ଏମାନଙ୍କ ମଧ୍ୟରୁ କାହାର pH ମୂଲ୍ୟ 1 ସହିତ ସମାନ ?

- (1) b
- (2) a
- (3) d
- (4) c

70. BaSO_4 ର ଜଳରେ ଦ୍ରବଣୀୟତା 298 K ରେ $2.42 \times 10^{-3} \text{ gL}^{-1}$ ହେଲେ ଏହାର ଦ୍ରାବ୍ୟତା ଗୁଣଫଳ (K_{sp}) ଚି

(ପ୍ରଦତ୍ତ BaSO_4 ର ମୋଲାର ମାସ୍ = 233 g mol^{-1})

- (1) $1.08 \times 10^{-10} \text{ mol}^2 \text{ L}^{-2}$
- (2) $1.08 \times 10^{-12} \text{ mol}^2 \text{ L}^{-2}$
- (3) $1.08 \times 10^{-14} \text{ mol}^2 \text{ L}^{-2}$
- (4) $1.08 \times 10^{-8} \text{ mol}^2 \text{ L}^{-2}$

71. NH_3 , H_2 , O_2 ଏବଂ CO_2 ର ଭାଣ୍ଡରଓଲଙ୍କ ସ୍ଥିରାଙ୍କ ଯଥାକ୍ରମେ 4.17, 0.244, 1.36 ଏବଂ 3.59. ଏମାନଙ୍କ ମଧ୍ୟରୁ କେଉଁ ବାଷ୍ପି ଖୁବ୍ ସହଜରେ ତରଳୀକୃତ ହେବ ?

- (1) NH_3
- (2) H_2
- (3) O_2
- (4) CO_2

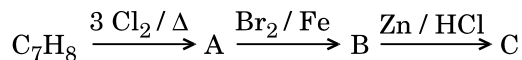
72. The compound A on treatment with Na gives B, and with PCl_5 gives C. B and C react together to give diethyl ether. A, B and C are in the order

- (1) $\text{C}_2\text{H}_5\text{OH}$, C_2H_6 , $\text{C}_2\text{H}_5\text{Cl}$
- (2) $\text{C}_2\text{H}_5\text{OH}$, $\text{C}_2\text{H}_5\text{Cl}$, $\text{C}_2\text{H}_5\text{ONa}$
- (3) $\text{C}_2\text{H}_5\text{Cl}$, C_2H_6 , $\text{C}_2\text{H}_5\text{OH}$
- (4) $\text{C}_2\text{H}_5\text{OH}$, $\text{C}_2\text{H}_5\text{ONa}$, $\text{C}_2\text{H}_5\text{Cl}$

73. Hydrocarbon (A) reacts with bromine by substitution to form an alkyl bromide which by Wurtz reaction is converted to gaseous hydrocarbon containing less than four carbon atoms. (A) is

- (1) $\text{CH} \equiv \text{CH}$
- (2) $\text{CH}_2 = \text{CH}_2$
- (3) $\text{CH}_3 - \text{CH}_3$
- (4) CH_4

74. The compound C_7H_8 undergoes the following reactions :



The product 'C' is

- (1) *m*-bromotoluene
- (2) *o*-bromotoluene
- (3) 3-bromo-2,4,6-trichlorotoluene
- (4) *p*-bromotoluene

75. Which oxide of nitrogen is **not** a common pollutant introduced into the atmosphere both due to natural and human activity ?

- (1) N_2O_5
- (2) NO_2
- (3) N_2O
- (4) NO

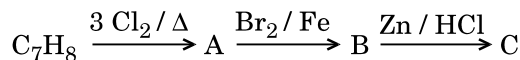
72. ଯୌଗିକ A କୁ Na ସହିତ ସଂଯୋଗ କଲେ B ଦିଏ । ଏବଂ PCl_5 ସହିତ C ଦିଏ । B ଏବଂ C ପରସ୍ପର ମିଶି ଡାଇ-ଇଥାଇଲ ଇଥର ଦିଅନ୍ତି । A, B ଏବଂ C ର କ୍ରମଟି

- (1) $\text{C}_2\text{H}_5\text{OH}$, C_2H_6 , $\text{C}_2\text{H}_5\text{Cl}$
- (2) $\text{C}_2\text{H}_5\text{OH}$, $\text{C}_2\text{H}_5\text{Cl}$, $\text{C}_2\text{H}_5\text{ONa}$
- (3) $\text{C}_2\text{H}_5\text{Cl}$, C_2H_6 , $\text{C}_2\text{H}_5\text{OH}$
- (4) $\text{C}_2\text{H}_5\text{OH}$, $\text{C}_2\text{H}_5\text{ONa}$, $\text{C}_2\text{H}_5\text{Cl}$

73. ହାଇଡ୍ରୋକାର୍ବନ୍ (A) ବ୍ରୋମିନ୍ ସହିତ ପ୍ରତିସ୍ଥାପନ ପ୍ରତିକ୍ରିୟା କରି ଏକ ଆଲକିଲ୍ ବ୍ରୋମାଇଡ୍ ଗଠନ କରେ । ଯାହାକି ଉର୍ଦ୍ଧ୍ୱ ପ୍ରତିକ୍ରିୟା ଦ୍ୱାରା କାରୋଟି କମ୍ ଅଙ୍ଗାର ପରମାଣୁଥିବା ବାଷ୍ପୀୟ ହାଇଡ୍ରୋକାର୍ବନ୍ ରେ ପରିବର୍ତ୍ତିତ ହୁଏ । ତାହାଲେ (A) ହେଉଛି

- (1) $\text{CH} \equiv \text{CH}$
- (2) $\text{CH}_2 = \text{CH}_2$
- (3) $\text{CH}_3 - \text{CH}_3$
- (4) CH_4

74. ଯୌଗିକ C_7H_8 ନିମ୍ନଲିଖିତ ପ୍ରତିକ୍ରିୟା ଦେଇ ଗତି କରେ :



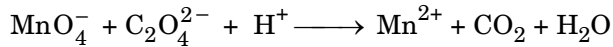
ଉତ୍ପାଦ 'C' ହେଉଛି

- (1) *m*-ବ୍ରୋମୋ ଟଲ୍ୟୁଇନ୍
- (2) *o*-ବ୍ରୋମୋ ଟଲ୍ୟୁଇନ୍
- (3) 3-ବ୍ରୋମୋ-2,4,6-ଟାଇଲୋରୋ ଟଲ୍ୟୁଇନ୍
- (4) *p*-ବ୍ରୋମୋ ଟଲ୍ୟୁଇନ୍

75. ପ୍ରାକୃତିକ ଏବଂ ମାନବୀୟ କାର୍ଯ୍ୟ ଯୋଗୁ ବାୟୁମଣ୍ଡଳକୁ ପ୍ରବେଶ କରୁଥିବା ନାଇଟ୍ରୋଜେନ୍ କେଉଁ ଅକ୍ସାଇଡ୍ ଏକ ସାଧାରଣ ପ୍ରଦୂଷକାରୀ **ନୁହେଁ** ?

- (1) N_2O_5
- (2) NO_2
- (3) N_2O
- (4) NO

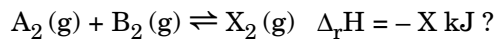
76. For the redox reaction



the correct coefficients of the reactants for the balanced equation are

	MnO_4^-	$\text{C}_2\text{O}_4^{2-}$	H^+
(1)	16	5	2
(2)	2	5	16
(3)	2	16	5
(4)	5	16	2

77. Which one of the following conditions will favour maximum formation of the product in the reaction,



- (1) Low temperature and high pressure
- (2) Low temperature and low pressure
- (3) High temperature and high pressure
- (4) High temperature and low pressure

78. The correction factor 'a' to the ideal gas equation corresponds to

- (1) density of the gas molecules
- (2) volume of the gas molecules
- (3) electric field present between the gas molecules
- (4) forces of attraction between the gas molecules

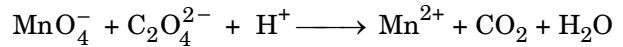
79. When initial concentration of the reactant is doubled, the half-life period of a zero order reaction

- (1) is halved
- (2) is doubled
- (3) is tripled
- (4) remains unchanged

80. The bond dissociation energies of X_2 , Y_2 and XY are in the ratio of 1 : 0.5 : 1. ΔH for the formation of XY is -200 kJ mol^{-1} . The bond dissociation energy of X_2 will be

- (1) 200 kJ mol^{-1}
- (2) 100 kJ mol^{-1}
- (3) 800 kJ mol^{-1}
- (4) 400 kJ mol^{-1}

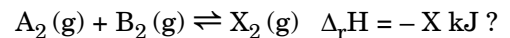
76. ନିମ୍ନ ପ୍ରଦତ୍ତ ବିଜାରଣ-ଜାରଣ ପ୍ରତିକ୍ରିୟାର



ସନ୍ତୁଳିତ ପ୍ରତିକ୍ରିୟାରେ ପ୍ରତିକାରକର ସଠିକ୍ ଗୁଣକ ଗୁଡ଼ିକ

	MnO_4^-	$\text{C}_2\text{O}_4^{2-}$	H^+
(1)	16	5	2
(2)	2	5	16
(3)	2	16	5
(4)	5	16	2

77. ନିମ୍ନପ୍ରଦତ୍ତ ସର୍ତ୍ତାବଳୀ ମଧ୍ୟରୁ କେଉଁଟି ପ୍ରତିକ୍ରିୟାଟିରେ ସର୍ବାଧିକ ଉତ୍ପାଦ ଗଠନ ପାଇଁ ସାହାଯ୍ୟ କରିବ



- (1) କମ୍ ଉତ୍ତାପ ଏବଂ ଅଧିକ ଜାପ
- (2) କମ୍ ଉତ୍ତାପ ଏବଂ ଜାପ
- (3) ଅଧିକ ଉତ୍ତାପ ଏବଂ ଜାପ
- (4) ଅଧିକ ଉତ୍ତାପ ଏବଂ କମ୍ ଜାପ

78. ଆଦର୍ଶ ବାଷ୍ପ ପ୍ରତିକ୍ରିୟାରେ ଶୁଦ୍ଧ କାରକ 'a' କାହା ସହିତ ଅନୁରୂପୀ

- (1) ବାଷ୍ପୀୟ ଅଣୁଗୁଡ଼ିକର ଘନତ୍ୱ
- (2) ବାଷ୍ପୀୟ ଅଣୁଗୁଡ଼ିକର ଆୟତନ
- (3) ବାଷ୍ପୀୟ ଅଣୁଗୁଡ଼ିକ ମଧ୍ୟରେ ଥିବା ବୈଦ୍ୟୁତିକ କ୍ଷେତ୍ର
- (4) ବାଷ୍ପୀୟ ଅଣୁଗୁଡ଼ିକ ମଧ୍ୟରେ ଥିବା ଆକର୍ଷଣୀୟ ବଳ

79. ଏକ ଅଭିକାରକର ପ୍ରାରମ୍ଭିକ ସାନ୍ଦ୍ରତା ଦ୍ୱିଗୁଣିତ କଲେ, ଶୂନ୍ୟକ୍ରମ ପ୍ରତିକ୍ରିୟାରେ ତାର ଅର୍ଦ୍ଧାୟୁକାଳଟି

- (1) ଅଧା ହୋଇଯାଏ
- (2) ଦ୍ୱିଗୁଣିତ ହୁଏ
- (3) ତ୍ରିଗୁଣିତ ହୁଏ
- (4) ଅପରିବର୍ତ୍ତିତ ରୁହେ

80. X_2 , Y_2 ଏବଂ XY ର ବନ୍ଧ ବିଯୋଜନ ଶକ୍ତିର ଅନୁପାତଟି 1 : 0.5 : 1 । XY ଗଠନ ପାଇଁ $\Delta H = -200 \text{ kJ mol}^{-1}$ ହେଲେ X_2 ର ବନ୍ଧ ବିଯୋଜନ ଶକ୍ତି ଟି

- (1) 200 kJ mol^{-1}
- (2) 100 kJ mol^{-1}
- (3) 800 kJ mol^{-1}
- (4) 400 kJ mol^{-1}

83. The type of isomerism shown by the complex $[\text{CoCl}_2(\text{en})_2]$ is

- (1) Geometrical isomerism
- (2) Coordination isomerism
- (3) Ionization isomerism
- (4) Linkage isomerism

84. Which one of the following ions exhibits d-d transition and paramagnetism as well ?

- (1) CrO_4^{2-}
- (2) $\text{Cr}_2\text{O}_7^{2-}$
- (3) MnO_4^-
- (4) MnO_4^{2-}

85. The geometry and magnetic behaviour of the complex $[\text{Ni}(\text{CO})_4]$ are

- (1) square planar geometry and diamagnetic
- (2) tetrahedral geometry and diamagnetic
- (3) square planar geometry and paramagnetic
- (4) tetrahedral geometry and paramagnetic

86. Iron carbonyl, $\text{Fe}(\text{CO})_5$ is

- (1) tetranuclear
- (2) mononuclear
- (3) trinuclear
- (4) dinuclear

87. Match the metal ions given in Column I with the spin magnetic moments of the ions given in Column II and assign the **correct** code :

Column I		Column II	
a.	Co^{3+}	i.	$\sqrt{8}$ B.M.
b.	Cr^{3+}	ii.	$\sqrt{35}$ B.M.
c.	Fe^{3+}	iii.	$\sqrt{3}$ B.M.
d.	Ni^{2+}	iv.	$\sqrt{24}$ B.M.
		v.	$\sqrt{15}$ B.M.

	a	b	c	d
(1)	iv	v	ii	i
(2)	i	ii	iii	iv
(3)	iv	i	ii	iii
(4)	iii	v	i	ii

83. $[\text{CoCl}_2(\text{en})_2]$ ରେ କେଉଁ ପ୍ରକାର ସମବାୟବତା ଦେଖାଯାଏ ?

- (1) ଜ୍ୟାମିତିକ ସମବାୟବତା
- (2) ସଂରଚନା ସମବାୟବତା
- (3) ଆୟୋନୀକରଣ ସମବାୟବତା
- (4) ସଂଯୋଗୀ ସମବାୟବତା

84. ନିମ୍ନଲିଖିତ ଆୟନଗୁଡ଼ିକ ମଧ୍ୟରୁ କିଏ d-d ଅବସ୍ଥାନର ସହିତ ପାରା ମେଗ୍ନେଟିକ୍ ଗୁଣ ପ୍ରଦର୍ଶନ କରେ

- (1) CrO_4^{2-}
- (2) $\text{Cr}_2\text{O}_7^{2-}$
- (3) MnO_4^-
- (4) MnO_4^{2-}

85. $[\text{Ni}(\text{CO})_4]$ ସଂକ୍ଷୁଳର ଜ୍ୟାମିତି ଓ ରୂମ୍ଭକୀୟ ପ୍ରକୃତି ହେଉଛି

- (1) ଷ୍ଟୋୟାର ପ୍ଲାନାର ଜ୍ୟାମିତି ଏବଂ ଡାଇମେଗ୍ନେଟିକ୍
- (2) ଟେଟ୍ରାହେଡ୍ରାଲ୍ ଜ୍ୟାମିତି ଏବଂ ଡାଇମେଗ୍ନେଟିକ୍
- (3) ଷ୍ଟୋୟାର ପ୍ଲାନାର ଜ୍ୟାମିତି ଏବଂ ପାରାମେଗ୍ନେଟିକ୍
- (4) ଟେଟ୍ରାହେଡ୍ରାଲ୍ ଜ୍ୟାମିତି ଏବଂ ପାରାମେଗ୍ନେଟିକ୍

86. ଆଇରନ୍ କାରବୋନିଲ୍ $\text{Fe}(\text{CO})_5$ ହେଉଛି

- (1) ଛାରି ନାଭିକୀୟ
- (2) ଏକ ନାଭିକୀୟ
- (3) ତ୍ରି ନାଭିକୀୟ
- (4) ଦ୍ଵି ନାଭିକୀୟ

87. ଗ୍ରହ I ର ମେଟାଲ ଆୟନ ଗୁଡ଼ିକୁ ଗ୍ରହ II ଆୟନର ଘୂର୍ଣ୍ଣନ ରୂମ୍ଭକୀୟ ଆୟତ୍ତ୍ଵ ସହିତ ମିଳାଇ **ସଠିକ୍** ସଂକେତ ଦିଅ :

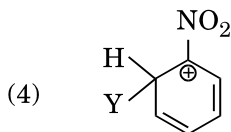
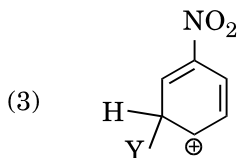
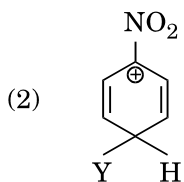
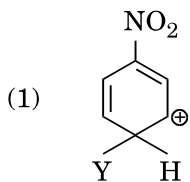
ଗ୍ରହ I		ଗ୍ରହ II	
a.	Co^{3+}	i.	$\sqrt{8}$ B.M.
b.	Cr^{3+}	ii.	$\sqrt{35}$ B.M.
c.	Fe^{3+}	iii.	$\sqrt{3}$ B.M.
d.	Ni^{2+}	iv.	$\sqrt{24}$ B.M.
		v.	$\sqrt{15}$ B.M.

	a	b	c	d
(1)	iv	v	ii	i
(2)	i	ii	iii	iv
(3)	iv	i	ii	iii
(4)	iii	v	i	ii

88. Which of the following is correct with respect to -I effect of the substituents ? (R = alkyl)

- (1) $-NH_2 < -OR < -F$
- (2) $-NR_2 < -OR < -F$
- (3) $-NH_2 > -OR > -F$
- (4) $-NR_2 > -OR > -F$

89. Which of the following carbocations is expected to be most stable ?



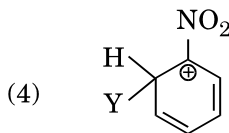
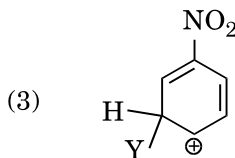
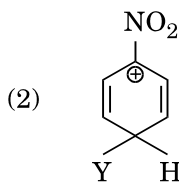
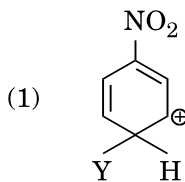
90. Which of the following molecules represents the order of hybridisation sp^2 , sp^2 , sp , sp from left to right atoms ?

- (1) $HC \equiv C - C \equiv CH$
- (2) $CH_2 = CH - C \equiv CH$
- (3) $CH_2 = CH - CH = CH_2$
- (4) $CH_3 - CH = CH - CH_3$

88. ସର୍ବୋତ୍ତମ ମାନଙ୍କ ଅ - I ପ୍ରଭାବ ଅନୁଯାୟୀ ନିମ୍ନଲିଖିତ କେଉଁ କ୍ରମଟି ସଠିକ୍ ? (R = ଏଲକିଲ)

- (1) $-NH_2 < -OR < -F$
- (2) $-NR_2 < -OR < -F$
- (3) $-NH_2 > -OR > -F$
- (4) $-NR_2 > -OR > -F$

89. ନିମ୍ନଲିଖିତ କାର୍ବୋକାଟାୟନ ମାନଙ୍କ ମଧ୍ୟରୁ କେଉଁଟି ସବୁଠାରୁ ସ୍ଥାୟୀ ବୋଲି ଆଶା କରାଯାଏ ?



90. ନିମ୍ନଲିଖିତ ଅଣୁମାନଙ୍କ ମଧ୍ୟରୁ କିଏ sp^2 , sp^2 , sp , sp କ୍ରମର ସଂକରଣ ବାମରୁ ଡାହାଣ ପରମାଣୁମାନଙ୍କ ମଧ୍ୟରେ ଦେଖାଏ

- (1) $HC \equiv C - C \equiv CH$
- (2) $CH_2 = CH - C \equiv CH$
- (3) $CH_2 = CH - CH = CH_2$
- (4) $CH_3 - CH = CH - CH_3$

91. The experimental proof for semiconservative replication of DNA was first shown in a
- (1) Fungus
 - (2) Bacterium
 - (3) Plant
 - (4) Virus
92. Select the **correct** statement :
- (1) Franklin Stahl coined the term “linkage”.
 - (2) Punnett square was developed by a British scientist.
 - (3) Spliceosomes take part in translation.
 - (4) Transduction was discovered by S. Altman.
93. Offsets are produced by
- (1) Meiotic divisions
 - (2) Mitotic divisions
 - (3) Parthenocarpy
 - (4) Parthenogenesis
94. Which of the following pairs is **wrongly** matched ?
- (1) Starch synthesis in pea : Multiple alleles
 - (2) ABO blood grouping : Co-dominance
 - (3) XO type sex : Grasshopper determination
 - (4) T.H. Morgan : Linkage
95. Which of the following flowers only once in its life-time ?
- (1) Bamboo species
 - (2) Jackfruit
 - (3) Mango
 - (4) Papaya
96. Select the **correct** match :
- (1) Alec Jeffreys – *Streptococcus pneumoniae*
 - (2) Alfred Hershey and Martha Chase – TMV
 - (3) Matthew Meselson and F. Stahl – *Pisum sativum*
 - (4) Francois Jacob and Jacques Monod – *Lac operon*
97. Which of the following has proved helpful in preserving pollen as fossils ?
- (1) Pollenkitt
 - (2) Cellulosic intine
 - (3) Oil content
 - (4) Sporopollenin

91. ନିମ୍ନଲିଖିତ ମଧ୍ୟରୁ କେଉଁଥିରେ ପ୍ରଥମେ ଡି.ଏନ.ଏ.ର ଅର୍ଦ୍ଧରକ୍ଷଣଶୀଳ ପ୍ରତିଗଠନ ପାଇଁ ପରୀକ୍ଷଣ ପ୍ରମାଣିତ ହେବାର ଦେଖାଯାଇଥିଲା ?
- (1) କବକ
 - (2) ବ୍ୟାକ୍ଟେରିୟମ୍
 - (3) ଉଦ୍ଭିଦ
 - (4) ଭୂତାଣୁ
92. ସଠିକ୍ ଉକ୍ତିଟିକୁ ବାଛି :
- (1) ଫ୍ରାଙ୍କଲିନ୍ ଷ୍ଟଲ୍ “ଗୁଡାସ୍ତ୍ରିକା” ଶବ୍ଦ ଉଦ୍ଭାବନ କରିଥିଲେ ।
 - (2) ପୁନେଟ୍ ବୈଜ୍ଞାନିକଙ୍କ ଦ୍ୱାରା ପନେଟ୍ ଷ୍ଟୋୟାର ଉଦ୍ଭାବନ ହୋଇଥିଲା ।
 - (3) ଟ୍ରାନ୍ସଲେସନ୍ ରେ ସ୍ପାଇସିଓସୋମାସ୍ ଭାଗ ନିଅନ୍ତି ।
 - (4) ଏସ୍. ଅଲଟମାନଙ୍କ ଦ୍ୱାରା ଟ୍ରାନ୍ସଡକ୍ସନ୍ ସନ ଉଦ୍ଭାବନ ହୋଇଥିଲା ।
93. ‘ଅଫ୍ସେଟ୍’ ଗୁଡିକ କାହାଦ୍ୱାରା ଉତ୍ପନ୍ନ ହୁଅନ୍ତି ?
- (1) ଅର୍ଦ୍ଧ ବିଭାଜନ
 - (2) ସମ ବିଭାଜନ
 - (3) ଅନିଷ୍ଟେକ ଫଳନ
 - (4) ଅନିଷ୍ଟେକ ଜନନ
94. ନିମ୍ନଲିଖିତ ମଧ୍ୟରୁ କେଉଁ ଯୋଡାଟି **ଭୁଲ** ଯୋଡାଯାଇଛି ?
- (1) ମଟରରେ ମଣ୍ଡକ ସଂଶ୍ଳେଷଣ : ବହୁ ସ୍ୱରୂପ ବିକଳ୍ପୀ
 - (2) ABO ରକ୍ତ ବର୍ଗ : ସହ ପ୍ରଭାବୀ
 - (3) XO ଟାଇପ୍ ଲିଙ୍ଗ ନିରୂପଣ : ଡିକ୍ସି
 - (4) ଟି.ଏଚ୍. ମରଗାନ୍ : ଯୋଗସ୍ତ୍ରିକା
95. ନିମ୍ନଲିଖିତ ମଧ୍ୟରୁ କେଉଁଥିରେ ଜୀବନକାଳ ଭିତରେ ଥରେ ମାତ୍ର ଫୁଲଗୁଡିକ ଆସନ୍ତି
- (1) ବାଉଁଶ ଜାତି
 - (2) ପଶସ
 - (3) ଆମ୍ବ
 - (4) ଅମୃତଭଣ୍ଡା
96. ସଠିକ୍ ସଂଯୋଗୀକରଣକୁ ବାଛି :
- (1) ଏଲେକ ଯେଫ୍ସ୍ – ଷ୍ଟ୍ରେପ୍ଟୋକୋକସ୍ ନିମୋସିଆ
 - (2) ଆଲ୍ ହେର୍ସେ ଏବଂ ମାର୍ଥା ଚେସ୍ – ଟି.ଏମ୍.ଭି.
 - (3) ମାଥ୍ୟୁ ମେସେଲ୍ସନ୍ ଏବଂ ଏଫ୍. ଷ୍ଟଲ୍ – ପାଇସମ ସାଟାଇଭମ୍
 - (4) ଫ୍ରାନ୍କୋଇସ୍ ଜ୍ୟାକବ୍ ଏବଂ ଜ୍ୟାକ୍ ମୋନୋସ୍ – ଲ୍ୟାକ୍ ଅପେରନ୍
97. ନିମ୍ନଲିଖିତ ମଧ୍ୟରୁ କେଉଁଟି ପରାଗକୁ ଜୀବାସ୍ଥ ରୂପରେ ସଂରକ୍ଷିତ କରି ରଖିବାରେ ସାହାଯ୍ୟକାରୀ ହୁଏ ?
- (1) ପୋଲେନକିଟ୍
 - (2) ସେଲୁଲୋଜିକ୍ ଇନ୍ଟାଇନ୍
 - (3) ଅଏଲ୍ କଣ୍ଟେଣ୍ଟ୍
 - (4) ସ୍ପୋରୋପଲେନିନ୍

98. Stomatal movement is *not* affected by
- (1) Temperature
 - (2) Light
 - (3) O₂ concentration
 - (4) CO₂ concentration
99. The stage during which separation of the paired homologous chromosomes begins is
- (1) Pachytene
 - (2) Diplotene
 - (3) Diakinesis
 - (4) Zygotene
100. The two functional groups characteristic of sugars are
- (1) hydroxyl and methyl
 - (2) carbonyl and methyl
 - (3) carbonyl and phosphate
 - (4) carbonyl and hydroxyl
101. Which of the following is *not* a product of light reaction of photosynthesis ?
- (1) ATP
 - (2) NADH
 - (3) NADPH
 - (4) Oxygen
102. Stomata in grass leaf are
- (1) Dumb-bell shaped
 - (2) Kidney shaped
 - (3) Rectangular
 - (4) Barrel shaped
103. Which among the following is *not* a prokaryote ?
- (1) *Saccharomyces*
 - (2) *Mycobacterium*
 - (3) *Nostoc*
 - (4) *Oscillatoria*
104. Which of the following is true for nucleolus ?
- (1) Larger nucleoli are present in dividing cells.
 - (2) It is a membrane-bound structure.
 - (3) It takes part in spindle formation.
 - (4) It is a site for active ribosomal RNA synthesis.
105. The Golgi complex participates in
- (1) Fatty acid breakdown
 - (2) Formation of secretory vesicles
 - (3) Respiration in bacteria
 - (4) Activation of amino acid

98. ନିମ୍ନୋକ୍ତ ମଧ୍ୟରୁ କାହାଦ୍ୱାରା ଶ୍ଳୋମର ଚଳନ ପ୍ରଭାବିତ ହୁଏ ନାହିଁ ?
- (1) ତାପମାତ୍ରା
 - (2) ଆଲୋକ
 - (3) O₂ ଗାଢ଼ତା
 - (4) CO₂ ଗାଢ଼ତା
99. ନିମ୍ନଲିଖିତ କେଉଁ ଅବସ୍ଥାରେ ଦୁଇଟି ସଦୃଶ ଗୁଣସୂତ୍ର ଗୁଡ଼ିକ ପୃଥକ ହେବାକୁ ଆରମ୍ଭ କରନ୍ତି ?
- (1) ପାଇକଟିନ୍
 - (2) ଡିପ୍ଲୋଟିନ୍
 - (3) ଡାଇଆକାଇନେସିସ୍
 - (4) ଜାଇଗୋଟିନ୍
100. ଶର୍କରା ଗଠନରେ କେଉଁ ଦୁଇଟି କାର୍ଯ୍ୟକାରୀ ଦଳ ଥାଆନ୍ତି ?
- (1) ହାଇଡ୍ରୋକ୍ସିଲ୍ ଏବଂ ମିଥାଇଲ୍
 - (2) କାର୍ବୋନିଲ୍ ଏବଂ ମିଥାଇଲ୍
 - (3) କାର୍ବୋନିଲ୍ ଏବଂ ଫସ୍ଫେଟ୍
 - (4) କାର୍ବୋନିଲ୍ ଏବଂ ହାଇଡ୍ରୋକ୍ସିଲ୍
101. ନିମ୍ନଲିଖିତ ମଧ୍ୟରୁ କେଉଁଟି ଆଲୋକ ସଂଶ୍ଳେଷଣର ଆଲୋକ ପ୍ରକ୍ରିୟାର ଏକ ଉପାଦାନ ନୁହେଁ ?
- (1) ATP
 - (2) NADH
 - (3) NADPH
 - (4) Oxygen
102. ଘାସ ପତ୍ର ରେ କେଉଁ ପ୍ରକାର ଶ୍ଳୋମ ଦେଖାଯାଏ ?
- (1) ଡମ୍ବରୁ ଆକୃତିର
 - (2) ବୃକକ ଆକୃତିର
 - (3) ଆୟତାକାର
 - (4) ନଳୀ ଆକୃତିର
103. ନିମ୍ନଲିଖିତ ମଧ୍ୟରୁ କେଉଁଟି ପ୍ରାକୃତ୍ୟଷ୍ଟିକ ନୁହେଁ ?
- (1) ସାକାରୋମାଇସେସ୍
 - (2) ମାଇକୋବ୍ୟାକ୍ଟେରିଆମ୍
 - (3) ନଷ୍ଟକ୍
 - (4) ଓସିଲାଟୋରିଆ
104. ନିମ୍ନଲିଖିତ ପାଇଁ ନିମ୍ନଲିଖିତ ମଧ୍ୟରୁ କେଉଁଟି ସତ୍ୟ ଅଟେ ?
- (1) ବିଭାଜିତ କୋଷରେ ବୃହତ୍ ନିଉକ୍ଲିଓଲାଇ ଗୁଡ଼ିକ ଉପସ୍ଥିତ ଥାଆନ୍ତି ।
 - (2) ଏହା ଗୋଟିଏ ଝିଲ୍ଲୀରହିତ ଗଠନ ।
 - (3) ତର୍କୁ ତିଆରି କରିବାରେ ଅଂଶ ଗ୍ରହଣ କରେ ।
 - (4) ଏହା ରାବୋଜୋମାଲ RNA ପୁଷ୍ଟିସାର ସଂଶ୍ଳେଷଣ ପାଇଁ ଏକ କାର୍ଯ୍ୟକାରୀ ପାର୍ଶ୍ୱ ।
105. ଗଲ୍ଜି କମ୍ପ୍ଲେକ୍ସ ନିମ୍ନୋକ୍ତ କେଉଁଥିରେ ଭାଗ ନିଏ ?
- (1) ଫ୍ୟାଟି ଏସିଡ୍ ବିଖଣ୍ଡିତ ହେବାରେ
 - (2) ଗୁପ୍ତ କ୍ଷୁଦ୍ରକୋଷର ଉତ୍ପତ୍ତି ହେବାରେ
 - (3) ବୀଜାଣୁର ଶ୍ୱସନ ପ୍ରକ୍ରିୟା ରେ
 - (4) ଏମିନୋ ଏସିଡ୍ କୁ କାର୍ଯ୍ୟକାରୀ କରିବାରେ

106. In stratosphere, which of the following elements acts as a catalyst in degradation of ozone and release of molecular oxygen ?

- (1) Carbon
- (2) Cl
- (3) Fe
- (4) Oxygen

107. Which of the following is a secondary pollutant ?

- (1) CO
- (2) CO₂
- (3) SO₂
- (4) O₃

108. Niche is

- (1) all the biological factors in the organism's environment
- (2) the physical space where an organism lives
- (3) the range of temperature that the organism needs to live
- (4) the functional role played by the organism where it lives

109. Natality refers to

- (1) Death rate
- (2) Birth rate
- (3) Number of individuals leaving the habitat
- (4) Number of individuals entering a habitat

110. What type of ecological pyramid would be obtained with the following data ?

Secondary consumer : 120 g

Primary consumer : 60 g

Primary producer : 10 g

- (1) Inverted pyramid of biomass
- (2) Pyramid of energy
- (3) Upright pyramid of numbers
- (4) Upright pyramid of biomass

111. World Ozone Day is celebrated on

- (1) 5th June
- (2) 21st April
- (3) 16th September
- (4) 22nd April

106. ସ୍ତ୍ରାଟୋସ୍ଫିଅରରେ ନିମ୍ନଲିଖିତ ମଧ୍ୟରୁ କେଉଁଟି ଓଜୋନ୍ ଓଜୋନ୍ ଅଧଃପତନ ଓ ଆଣବିକ ଅମ୍ଳଜାନ କୁ ମୁକ୍ତ କରିବାରେ ଉଚ୍ଚପ୍ରେରକ ଭଳି କାର୍ଯ୍ୟ କରେ

- (1) କାରବନ୍
- (2) Cl
- (3) Fe
- (4) ଅମ୍ଳଜାନ

107. ନିମ୍ନଲିଖିତ ମଧ୍ୟରୁ କେଉଁଟି ଦ୍ଵିତୀୟକ ପ୍ରଦୂଷଣକାରୀ ?

- (1) CO
- (2) CO₂
- (3) SO₂
- (4) O₃

108. ନିର୍ (Niche) ହେଉଛି

- (1) ଜୀବମାନଙ୍କ ପରିବେଶରେ ଥିବା ସମସ୍ତ ଜୈବିକ ଓ ଭୌତିକ କାରକ ଗୁଡ଼ିକ
- (2) ଜୀବଟି ଏକ ପରିସୀମାଭିତରେ ବଞ୍ଚିବା ପାଇଁ ଯେଉଁ ପ୍ରକାର ଭୌତିକ ଓ ଜୈବିକ ଅବସ୍ଥାର ବ୍ୟବହାର କରେ
- (3) ଜୀବଟି ବଞ୍ଚିବାକୁ ଏକ ତାପମାତ୍ରାର ପରିସୀମା ଭିତରେ ରହେ
- (4) ଜୀବଟି ଯେଉଁଠାରେ ବଞ୍ଚେ ସେଠାରେ ତାର କ୍ରିୟାତ୍ମକ ଭୂମିକା ନିର୍ବାହ କରେ

109. ନିମ୍ନଲିଖିତ କେଉଁଟିକୁ ଜନ୍ମହାର ସୂଚାଏ ?

- (1) ମୃତ୍ୟୁ ମାତ୍ରା
- (2) ଜନ୍ମ ମାତ୍ରା
- (3) ବାସ ପରିତ୍ୟାଗ କରୁଥିବା ବ୍ୟକ୍ତିବିଶେଷକର ସଂଖ୍ୟା
- (4) ଗୋଟିଏ ବାସରେ ପ୍ରବେଶ କରୁଥିବା ବ୍ୟକ୍ତି ବିଶେଷକର ସଂଖ୍ୟା

110. ଉକ୍ତ ତଥ୍ୟ ଅନୁସାରେ କେଉଁ ପ୍ରକାରର ଇକୋଲୋଜିକାଲ୍ ପିରାମିଡ୍ ସୃଷ୍ଟି ହୋଇ ପାରିବ ?

ଦ୍ଵିତୀୟକ ଭକ୍ଷକ : 120 g

ପ୍ରାଥମିକ ଭକ୍ଷକ : 60 g

ପ୍ରାଥମିକ ଉତ୍ପାଦକ : 10 g

- (1) ଓଲଟା ଜୈବିକ ବସ୍ତୁତ୍ଵ ପିରାମିଡ୍
- (2) ଶକ୍ତି ପିରାମିଡ୍
- (3) ଭୂଲୟ ସଂଖ୍ୟା ପିରାମିଡ୍
- (4) ଭୂଲୟ ଜୈବିକ ବସ୍ତୁତ୍ଵ ପିରାମିଡ୍

111. କେଉଁଦିନ ପୃଥିବୀର ଓଜୋନ୍ ଦିନ ପାଳନ କରାଯାଏ ?

- (1) 5 ଜୁନ୍
- (2) 21 ଏପ୍ରିଲ୍
- (3) 16 ସେପ୍ଟେମ୍ବର
- (4) 22 ଏପ୍ରିଲ୍

112. Which of the following is commonly used as a vector for introducing a DNA fragment in human lymphocytes ?
- (1) Retrovirus
 - (2) Ti plasmid
 - (3) λ phage
 - (4) pBR 322
113. In India, the organisation responsible for assessing the safety of introducing genetically modified organisms for public use is
- (1) Indian Council of Medical Research (ICMR)
 - (2) Council for Scientific and Industrial Research (CSIR)
 - (3) Research Committee on Genetic Manipulation (RCGM)
 - (4) Genetic Engineering Appraisal Committee (GEAC)
114. A 'new' variety of rice was patented by a foreign company, though such varieties have been present in India for a long time. This is related to
- (1) Co-667
 - (2) Sharbati Sonora
 - (3) Lerma Rojo
 - (4) Basmati
115. Select the **correct** match :
- | | |
|-----------------------------------|------------------|
| (1) Ribozyme | – Nucleic acid |
| (2) $F_2 \times$ Recessive parent | – Dihybrid cross |
| (3) T.H. Morgan | – Transduction |
| (4) G. Mendel | – Transformation |
116. Use of bioresources by multinational companies and organisations without authorisation from the concerned country and its people is called
- (1) Bio-infringement
 - (2) Biopiracy
 - (3) Biodegradation
 - (4) Bioexploitation
117. The correct order of steps in Polymerase Chain Reaction (PCR) is
- (1) Extension, Denaturation, Annealing
 - (2) Annealing, Extension, Denaturation
 - (3) Denaturation, Extension, Annealing
 - (4) Denaturation, Annealing, Extension

112. ମାନବ ଲିମ୍ଫୋସାଇଟ୍ ରେ ଡି.ଏନ.ଏ. ଖଣ୍ଡବିଶେଷର ପ୍ରବେଶ ପାଇଁ ସାଧାରଣତଃ ନିମ୍ନୋକ୍ତ କେଉଁ କାରକଟି ବ୍ୟବହାର କରାଯାଏ
- (1) ରେଟ୍ରୋଭାଇରସ୍
 - (2) Ti ପ୍ଲାସ୍ମିଡ୍
 - (3) λ ଫେଜ୍
 - (4) pBR 322
113. ଜନସାଧାରଣଙ୍କର ବ୍ୟବହାର ପାଇଁ ଭାରତର କେଉଁ ସଂଗ୍ରାହ୍ୟ ବିବେଚିତ ହୋଇଛି ଯିଏ ଜିନୀୟ ପରିବର୍ତ୍ତିତ ଜୀନ ଗୁଡ଼ିକଙ୍କର ପ୍ରବେଶକୁ ସୁରକ୍ଷା ଦିଏ ?
- (1) ଭାରତର ଭେଷଜ ଗବେଷଣାର ଉପଦେଷ୍ଟା (ICMR)
 - (2) ବୈଜ୍ଞାନିକ ଓ ଶିଳ୍ପାତ୍ମକ ଗବେଷଣା ପାଇଁ ଉପଦେଷ୍ଟା (CSIR)
 - (3) ଆନୁବଂଶିକ କୌଶଳ ଉପରେ ଗବେଷଣା ସମିତି (RCGM)
 - (4) ଆନୁବଂଶିକ ଅଭିଯନ୍ତ୍ରିକା ର ମୂଲ୍ୟନିରୂପଣ କରିବା ସମିତି (GEAC)
114. ଏକ 'ନୂଆ' ପ୍ରକାରର ସ୍ୱର୍ଣ୍ଣଧାନ ଗୋଟିଏ ବିଦେଶୀ ବ୍ୟବସାୟିକ ସଂଘ ଦ୍ୱାରା ଉଦ୍ଭାବନ ହୋଇଥିଲା, ଯଦି ବା ସେହି ପ୍ରକାରର ଧାନ ବହୁ ସମୟ ପର୍ଯ୍ୟନ୍ତ ଭାରତରେ ରହିଥିଲା । ଉକ୍ତ ଉକ୍ତି କାହା ସହିତ ସମ୍ପର୍କିତ ?
- (1) Co-667
 - (2) ସରବତୀ ସୋନୋରା
 - (3) ଲରମା ରୋଜୋ
 - (4) ବାସୁମତି
115. ସଠିକ୍ ସଂଯୋଗାକରଣକୁ ବାଛି :
- | | |
|-------------------------------|------------------|
| (1) ରାଇବୋଜାଇମ୍ | – ନିଉକ୍ଲିକ୍ ଅମ୍ଳ |
| (2) $F_2 \times$ ଅପ୍ରଭାବୀ ଜନକ | – ଦ୍ୱି ସଂକରୀକରଣ |
| (3) ଟି.ଏଚ୍. ମୋରଗାନ୍ | – ଟ୍ରାନ୍ସଡକ୍ସନ୍ |
| (4) ଜି. ମେଣ୍ଡେଲ୍ | – ପ୍ରଭୂପଣ |
116. ବହୁରାଷ୍ଟ୍ରୀୟ କମ୍ପାନୀ ଗୁଡ଼ିକ ଏବଂ ସଂଗଠନ ଗୁଡ଼ିକ ସେମାନଙ୍କ ଦେଶର ଏବଂ ସେମାନଙ୍କର ଜନସାଧାରଣଙ୍କର ପ୍ରାଧିକାର ବିନା ବ୍ୟବହାର କରୁଥିବା ଜୈବ ସମ୍ପଦକୁ କ'ଣ କୁହାଯାଏ ?
- (1) ବାଇଓଟ୍ରିନଜ୍ ମେଣ୍ଟ୍
 - (2) ବାଇଓପାଇରେସି
 - (3) ବାଇଓଡିଗ୍ରେଡେସନ୍
 - (4) ବାଇଓଏକ୍ସପ୍ଲୋଇଟେସନ୍
117. ପଲିମରେଜ୍ ଚେନ୍ ରିଆକ୍ସନ୍ (PCR) ର ସଠିକ୍ ଶୃଙ୍ଖଳିତ ପଦକ୍ଷେପଟି ହେଉଛି
- (1) ଏକ୍ସଟେନ୍ସନ୍, ଡିନାଚୁରେସନ୍, ଆନେଲିଂ
 - (2) ଆନେଲିଂ, ଏକ୍ସଟେନ୍ସନ୍, ଡିନାଚୁରେସନ୍
 - (3) ଡିନାଚୁରେସନ୍, ଏକ୍ସଟେନ୍ସନ୍, ଆନେଲିଂ
 - (4) ଡିନାଚୁରେସନ୍, ଆନେଲିଂ, ଏକ୍ସଟେନ୍ସନ୍

118. Secondary xylem and phloem in dicot stem are produced by

- (1) Apical meristems
- (2) Vascular cambium
- (3) Phellogen
- (4) Axillary meristems

119. Pneumatophores occur in

- (1) Halophytes
- (2) Free-floating hydrophytes
- (3) Carnivorous plants
- (4) Submerged hydrophytes

120. Sweet potato is a modified

- (1) Stem
- (2) Adventitious root
- (3) Tap root
- (4) Rhizome

121. Which of the following statements is **correct** ?

- (1) Ovules are not enclosed by ovary wall in gymnosperms.
- (2) *Selaginella* is heterosporous, while *Salvinia* is homosporous.
- (3) Horsetails are gymnosperms.
- (4) Stems are usually unbranched in both *Cycas* and *Cedrus*.

122. Select the **wrong** statement :

- (1) Cell wall is present in members of Fungi and Plantae.
- (2) Mushrooms belong to Basidiomycetes.
- (3) Pseudopodia are locomotory and feeding structures in Sporozoans.
- (4) Mitochondria are the powerhouse of the cell in all kingdoms except Monera.

123. Casparian strips occur in

- (1) Epidermis
- (2) Pericycle
- (3) Cortex
- (4) Endodermis

124. Plants having little or no secondary growth are

- (1) Grasses
- (2) Deciduous angiosperms
- (3) Conifers
- (4) Cycads

118. ଦ୍ୱୀବାକ୍ଷପତ୍ରୀ ରେ ଥିବା ଦ୍ୱିତୀୟକ ସଂବାହି ଟିସୁ ଓ ପୋଷକ ବାହି ଟିସୁ କେଉଁଠାରେ ଉତ୍ପନ୍ନ ହୁଅନ୍ତି ?

- (1) ଆପିକାଲ୍ ମେରିଷ୍ଟେମସ୍
- (2) ସଂବାହୀ କ୍ୟାମ୍ବିୟମ୍
- (3) ଫେଲୋଜେନ
- (4) ଆକ୍ସିଲାରି ମେରିଷ୍ଟେମସ୍

119. ନେମାଟୋଫୋରସ୍ କେଉଁ ଉଦ୍ଭିଦରେ ଥାଆନ୍ତି ?

- (1) ହାଲୋଫାଇଟସ୍
- (2) ମୁକ୍ତ ଭାସମାନ ଜଳଦ ଉଦ୍ଭିଦ
- (3) ମାସାଂସୀ ଉଦ୍ଭିଦ
- (4) ନିମଗ୍ନ ଜଳଦ ଉଦ୍ଭିଦ

120. କନ୍ଦମୂଳ କାହାର ପରିବର୍ତ୍ତିତ ରୂପ ?

- (1) କାଣ୍ଡ
- (2) ଗୁଚ୍ଛ ମୂଳ
- (3) ଖମ୍ବମୂଳ
- (4) ରାଇଜୋମ୍

121. ନିମ୍ନଲିଖିତ ମଧ୍ୟରୁ କେଉଁଗୋଟିକ **ସଠିକ୍** ଉକ୍ତି ଅଟେ ?

- (1) ନଗ୍ନବୀଜୀରେ ଗର୍ଭାଣୁର ପାଚେରୀ ଭିତରେ ତ୍ରିମକଟି ବାହିହୋଇ ରହି ଥାଏ ।
- (2) ଯେତେବେଳେ *ସଲ୍‌ଭିନିଆ* ସମରେଶ୍ୱୟ ଥାଏ ସେତେବେଳେ *ସିଲ୍‌ଜିନେଲା* ଏକ ଅସମରେଶ୍ୱୟ ।
- (3) ହର୍ଷଟେଲ ଗୁଡିକ ନଗ୍ନବୀଜୀ ହୋଇଥାଆନ୍ତି ।
- (4) ଉଭୟ *ସାଇକାସ୍* ଏବଂ *ସେଡ୍ରସ୍* ର କାଣ୍ଡଗୁଡିକ ସାଧାରଣତଃ ଟିସୁ ଶାଖାବିହୀନ ହୋଇଥାଆନ୍ତି ।

122. ଉକ୍ତିଗୁଡ଼ିକୁ ବାଛ :

- (1) କବକ ଓ ପ୍ଲାଣ୍ଟି ଦଳରେ କୋଷ ଭିତ୍ତି ଉପସ୍ଥିତ ଥାଏ ।
- (2) ବ୍ୟାସିଡିଓମାଇସିଟିର ଅଧୁନରେ ଛତୁଜାତୀୟ ଉଦ୍ଭିଦ ଥାଏ ।
- (3) ସ୍ଥୋରୋଜୋଆନସ୍ ରେ କୃତପାଦ ଗୁଡିକ ଚଳିତ ଓ ଖାଦ୍ୟ ସ୍ୱରୂପ ଗଠନ ଅଟେ ।
- (4) ମୋନେରା ବ୍ୟତୀତ ସମସ୍ତ ଶ୍ରେଣୀ ବିଭାଗରେ ମାଇଟୋକଣ୍ଡ୍ରିୟା ଏକ ଶକ୍ତିଗୃହ ଅଟେ ।

123. କାସ୍‌ପାରିଆନ୍ ସ୍ଟ୍ରିପ୍ସ କେଉଁଠାରେ ଥାଏ ?

- (1) ଏପିଡର୍ମିସ୍
- (2) ପେରିସାଇକେଲ୍
- (3) କରଟେକ୍ସ
- (4) ଏଣ୍ଡୋଡର୍ମିସ୍

124. କେଉଁ ଉଦ୍ଭିଦ ଗୁଡିକରେ ସ୍ୱଳ୍ପ ବା ଦ୍ୱିତୀୟକ ବୃଦ୍ଧି ହୁଏ ନାହିଁ ?

- (1) ଘାସ
- (2) ପର୍ଣ୍ଣମୋଜ ଆବୃତବୀଜୀ
- (3) କୋନିଫରସ୍
- (4) ସାଇକାଡସ୍

123. Which one is *wrongly* matched ?

- (1) Uniflagellate gametes – *Polysiphonia*
- (2) Biflagellate zoospores – Brown algae
- (3) Gemma cups – *Marchantia*
- (4) Unicellular organism – *Chlorella*

126. Match the items given in Column I with those in Column II and select the **correct** option given below :

Column I Column II

- | | | |
|--------------|------|---|
| a. Herbarium | i. | It is a place having a collection of preserved plants and animals. |
| b. Key | ii. | A list that enumerates methodically all the species found in an area with brief description aiding identification. |
| c. Museum | iii. | Is a place where dried and pressed plant specimens mounted on sheets are kept. |
| d. Catalogue | iv. | A booklet containing a list of characters and their alternates which are helpful in identification of various taxa. |

- | | a | b | c | d |
|-----|-----|----|-----|----|
| (1) | i | iv | iii | ii |
| (2) | iii | ii | i | iv |
| (3) | ii | iv | iii | i |
| (4) | iii | iv | i | ii |

127. Winged pollen grains are present in

- (1) Mustard
- (2) *Cycas*
- (3) Mango
- (4) *Pinus*

128. After karyogamy followed by meiosis, spores are produced exogenously in

- (1) *Neurospora*
- (2) *Alternaria*
- (3) *Agaricus*
- (4) *Saccharomyces*

125. ନିମ୍ନଲିଖିତ ମଧ୍ୟରୁ କେଉଁଟି ଭୁଲ ରୂପେ ସଂଯୋଗ ହୋଇଛି ?

- (1) ୟୁନିଫ୍ଲାଂଜେଲେଟ୍ ଯୁଗ୍ମଦ – ପଲିସାଫିନିଆ
- (2) ବାଇଫ୍ଲାଂଜେଲେଟ୍ ଚଳରେଣୁ – ବାଦାମୀ ଶୈବାଳ
- (3) ଜେମା କପ୍ – ମାର୍ଚାନ୍ଟିଆ
- (4) ଏକକୋଷୀୟ ଜୀବ – କ୍ଲୋରେଲା

126. ଗ୍ରନ୍ଥ I ସହିତ ଗ୍ରନ୍ଥ II କୁ ସଠିକ୍ ସଂଯୋଗ କରି ପ୍ରଦତ୍ତ ବିକଳ୍ପ ମାନଙ୍କ ମଧ୍ୟରୁ ଠିକ୍ ଉତ୍ତରଟି ବାଛି :

ଗ୍ରନ୍ଥ I

ଗ୍ରନ୍ଥ II

- | | | |
|---------------|------|---|
| a. ହରବାର୍ଟିୟମ | i. | ଏହା ଗୋଟିଏ ସ୍ଥାନ ଯେଉଁଥିରେ ପାଚନ ମୂଳ ଉଦ୍ଭିଦଗୁଡ଼ିକ ଓ ପଶୁଗୁଡ଼ିକ ସଂଗୃହୀତ ହୋଇ ଥାଆନ୍ତି । |
| b. କି | ii. | ଆବଶ୍ୟକ ପଦ୍ଧତି ଅନୁଯାୟୀ ଗୋଟିଏ ନିର୍ଦ୍ଦିଷ୍ଟ ସ୍ଥାନରେ ଥିବା ସମସ୍ତ ଜାତିମାନଙ୍କର ବର୍ଣ୍ଣନା ଓ ଚିତ୍ରଣ କରାଯାଇଥିବା ତାଲିକା । |
| c. ସଂଗ୍ରାହଲୟ | iii. | ଯେଉଁଥିରେ ଶୁଖିଲା ଓ ଜାପଯୁକ୍ତ ଉଦ୍ଭିଦ ଜାତିକୁ କାଗଜ ଭିତରେ ଚପାଇ ରଖାଯାଇଥାଏ । |
| d. କ୍ୟାଟାଲଗ | iv. | ଏକ ଖୁବ୍ ସବୁଜି ଯେଉଁଥିରେ ଗୁଣାବଳୀ ଓ ସେମାନଙ୍କର ଏକାନ୍ତର ପରିବର୍ତ୍ତନର ଯାହାକି ବିଭିନ୍ନ ଜୀବ ବର୍ଗର ଚିତ୍ରଣ ପାଇଁ ସାହାଯ୍ୟ କରେ । |

- | | a | b | c | d |
|-----|-----|----|-----|----|
| (1) | i | iv | iii | ii |
| (2) | iii | ii | i | iv |
| (3) | ii | iv | iii | i |
| (4) | iii | iv | i | ii |

127. ନିମ୍ନଲିଖିତ ମଧ୍ୟରୁ କେଉଁଟିରେ ପକ୍ଷଯୁକ୍ତ ପରାଗରେଣୁ ଉପସ୍ଥିତ ଥାଏ ?

- (1) ସୋରିଷ
- (2) ସାଇକାସ
- (3) ଆମ୍ବ
- (4) ପାଇନିସ୍

128. ନିମ୍ନଲିଖିତ ମଧ୍ୟରୁ କେହିକ ସଂଲୟନ ଏକ ଅର୍ଦ୍ଧସ୍ପୃତ୍ରୀ ବିଭାଜନ ରେଣୁମାନେ କେଉଁଥିରେ ଉତ୍ପନ୍ନ ହୁଅନ୍ତି ?

- (1) ନିଉରୋସ୍ପୋରା
- (2) ଅଲ୍ଟରନାରିଆ
- (3) ଆଗାରିକସ୍
- (4) ସାକାରୋମାଇସେସ୍

129. What is the role of NAD⁺ in cellular respiration ?
- (1) It functions as an enzyme.
 - (2) It functions as an electron carrier.
 - (3) It is a nucleotide source for ATP synthesis.
 - (4) It is the final electron acceptor for anaerobic respiration.
130. Oxygen is **not** produced during photosynthesis by
- (1) Green sulphur bacteria
 - (2) *Nostoc*
 - (3) *Cycas*
 - (4) *Chara*
131. Pollen grains can be stored for several years in liquid nitrogen having a temperature of
- (1) - 120°C
 - (2) - 80°C
 - (3) - 196°C
 - (4) - 160°C
132. In which of the following forms is iron absorbed by plants ?
- (1) Ferric
 - (2) Ferrous
 - (3) Free element
 - (4) Both ferric and ferrous
133. Double fertilization is
- (1) Fusion of two male gametes of a pollen tube with two different eggs
 - (2) Fusion of one male gamete with two polar nuclei
 - (3) Fusion of two male gametes with one egg
 - (4) Syngamy and triple fusion
134. Which of the following elements is responsible for maintaining turgor in cells ?
- (1) Magnesium
 - (2) Sodium
 - (3) Potassium
 - (4) Calcium
135. Which one of the following plants shows a very close relationship with a species of moth, where none of the two can complete its life cycle without the other ?
- (1) *Hydrilla*
 - (2) *Yucca*
 - (3) *Banana*
 - (4) *Viola*

129. କୋଷୀୟ ଶ୍ୱସନରେ NAD⁺ ର ଭୂମିକା କ'ଣ ?
- (1) ଏହା ବିପାତକ ପରି କାମ କରେ ।
 - (2) ଏହା ଏକ ଇଲେକ୍ଟ୍ରନ ବାହକ ଭଳି କାର୍ଯ୍ୟ କରେ ।
 - (3) ATP ସଂଶ୍ଳେଷଣ ପାଇଁ ଏହା ଏକ ନିଉକ୍ଲିଓଟାଇଡର ଉତ୍ସ ।
 - (4) ବାୟୁ ଅପଜୀବୀ ଶ୍ୱସନ ପାଇଁ ଏହା ଏକ ଅନ୍ତିମ ଇଲେକ୍ଟ୍ରନ ଗ୍ରହଣକାରୀ ।
130. ଆଲୋକସଂଶ୍ଳେଷଣ ସମୟରେ କେଉଁଠିରେ ଅମ୍ଳଜାନ ନିର୍ଗତ ହୁଏ ନାହିଁ ?
- (1) ସବୁଜ ସଲ୍‌ଫର ବ୍ୟାକ୍ଟେରିଆ
 - (2) ନଷ୍ଟକ
 - (3) ସାଇକସ୍
 - (4) କାରା
131. ନିମ୍ନଲିଖିତ ମଧ୍ୟରୁ କେଉଁ ତାପମାତ୍ରା ରେ ପରାଗରେଣୁ ଗୁଡ଼ିକ ବହୁ ବର୍ଷ ପାଇଁ ଡରଳ ଯବସାରଜ୍ଞାନରେ ସଂରକ୍ଷିତ ହୋଇ ରହି ପାରନ୍ତି ?
- (1) - 120°C
 - (2) - 80°C
 - (3) - 196°C
 - (4) - 160°C
132. ଉଦ୍ଭିଦଦ୍ୱାରା ଆଇରନ୍ ନିମ୍ନଲିଖିତ କେଉଁ ରୂପରେ ଶୋଷିତ ହୁଏ ?
- (1) ଫେରିକ୍
 - (2) ଫେରସ୍
 - (3) ମୁକ୍ତ ଉପାଦାନ
 - (4) ଉଭୟ ଫେରିକ୍ ଏବଂ ଫେରସ୍
133. ଦ୍ୱିସମାୟନ କ'ଣ ?
- (1) ପରାଗନକ୍ରମରେ ଥିବା ଦୁଇଟି ପୁଂସୁଗ୍ମକ ସହିତ ଦୁଇଟି ପୃଥକ୍ ଜିମ୍ବର ସମେଳନ
 - (2) ଗୋଟିଏ ପୁଂସୁଗ୍ମକ ସହିତ ଦୁଇଟି ମେଗ୍ନୋସ୍ପୋର ସମେଳନ
 - (3) ଦୁଇଟି ପୁଂସୁଗ୍ମକ ସହିତ ଗୋଟିଏ ଜିମ୍ବର ସମେଳନ
 - (4) ସିନ୍‌ଗାମି ଏବଂ ତ୍ରିସମେଳନ
134. ନିମ୍ନଲିଖିତ ମଧ୍ୟରୁ କେଉଁଗୋଟିକ ଉପାଦାନ କୋଷର ବୃଦ୍ଧିକୁ ପ୍ରତିପାଳନ କରିବା ପାଇଁ ଉଦ୍ଦିଷ୍ଟ ?
- (1) ମ୍ୟାଗନେସିୟମ
 - (2) ସୋଡିୟମ
 - (3) ପୋଟାସିୟମ୍
 - (4) କ୍ୟାଲସିୟମ
135. ମଥୁର ଜାତି ସହିତ ନିବିଡ଼ ସମ୍ପର୍କ ଥିବା କେଉଁ ଉଦ୍ଭିଦ ଥାଏ, ଯେତେବେଳେ ତାଙ୍କ ଦୁଇଜଣଙ୍କ ମଧ୍ୟରୁ କେହି ଜଣେ ଅନ୍ୟଜଣଙ୍କ ବିନା ସେମାନଙ୍କର ଜୀବନ ଚକ୍ର ପୂର୍ଣ୍ଣ କରି ପାରନ୍ତି ନାହିଁ ?
- (1) ହାଇଡ୍ରିଲା
 - (2) ଯୁକା
 - (3) ବଦଳୀ
 - (4) ଭିଓଲା

136. Hormones secreted by the placenta to maintain

pregnancy are

- (1) hCG, hPL, progestogens, prolactin
- (2) hCG, hPL, estrogens, relaxin, oxytocin
- (3) hCG, hPL, progestogens, estrogens
- (4) hCG, progestogens, estrogens, glucocorticoids

137. The contraceptive 'SAHELPI'

- (1) blocks estrogen receptors in the uterus, preventing eggs from getting implanted.
- (2) increases the concentration of estrogen and prevents ovulation in females.
- (3) is an IUD.
- (4) is a post-coital contraceptive.

138. The difference between spermiogenesis and spermiation is

- (1) In spermiogenesis spermatids are formed, while in spermiation spermatozoa are formed.
- (2) In spermiogenesis spermatozoa are formed, while in spermiation spermatids are formed.
- (3) In spermiogenesis spermatozoa from sertoli cells are released into the cavity of seminiferous tubules, while in spermiation spermatozoa are formed.
- (4) In spermiogenesis spermatozoa are formed, while in spermiation spermatozoa are released from sertoli cells into the cavity of seminiferous tubules.

139. The amnion of mammalian embryo is derived from

- (1) ectoderm and mesoderm
- (2) endoderm and mesoderm
- (3) mesoderm and trophoblast
- (4) ectoderm and endoderm

136. ଗର୍ଭଧାରଣକୁ ସ୍ଥିରାବସ୍ଥାରେ ରଖିବାପାଇଁ ଭ୍ରୂଣବନ୍ଧରୁ ନିସ୍ତୃତ ହେଉଥିବା ହରମୋନ୍ ଗୁଡ଼ିକ ହେଲା

- (1) hCG, hPL, ପ୍ରୋଜେଷ୍ଟୋଜେନ୍, ପ୍ରୋଲାକ୍ଟିନ୍
- (2) hCG, hPL, ଇଷ୍ଟ୍ରୋଜେନ୍, ରିଲାକ୍ସିନ୍, ଅକ୍ସିଟୋସିନ୍
- (3) hCG, hPL, ପ୍ରୋଜେଷ୍ଟୋଜେନ୍, ଇଷ୍ଟ୍ରୋଜେନ୍
- (4) hCG, ପ୍ରୋଜେଷ୍ଟୋଜେନ୍, ଇଷ୍ଟ୍ରୋଜେନ୍, ଗ୍ଲୁକୋକର୍ଟିକଏଡସ୍

137. ଗର୍ଭନିରୋଧକ 'ସହେଲି'

- (1) ଇଷ୍ଟ୍ରୋଜେନ୍ ରିସେପ୍ଟର୍ ମାନଙ୍କୁ ଗର୍ଭାଶୟ ମଧ୍ୟରେ ଅବରୋଧ କରି ଗର୍ଭାଶୟରେ ଡିମ୍ବ ଅନ୍ତଃରୋପଣ ହେବାକୁ ରୋକିଥାଏ ।
- (2) ଇଷ୍ଟ୍ରୋଜେନ୍ର ସାନ୍ଦ୍ରତା ବୃଦ୍ଧିକରି ନାରୀ ମାନଙ୍କର ଡିମ୍ବ ସୃଷ୍ଟିରେ ବାଧା ଦିଏ ।
- (3) ଏହା ଏକ IUD ।
- (4) ଏହାଏକ ରତିକ୍ରିୟା ପର ଗର୍ଭନିରୋଧକ ।

138. ସ୍ୱର୍ଣ୍ଣପିଠଜେନେସିସ୍ ଓ ସ୍ୱର୍ଣ୍ଣସିଏସନ୍ ମଧ୍ୟରେ କ'ଣ ତଫାତ୍ ?

- (1) ସ୍ୱର୍ଣ୍ଣପିଠଜେନେସିସ୍ରେ ସ୍ୱର୍ଣ୍ଣମାଟିଡ୍ ସୃଷ୍ଟି ହୋଇଥାଏ ଯେତେବେଳେ କି ସ୍ୱର୍ଣ୍ଣସିଏସନ୍ ରେ ସ୍ୱର୍ଣ୍ଣମାଟୋଜୋଆ ସୃଷ୍ଟି ହୋଇଥାଏ ।
- (2) ସ୍ୱର୍ଣ୍ଣପିଠଜେନେସିସ୍ରେ ସ୍ୱର୍ଣ୍ଣମାଟୋଜୋଆ ସୃଷ୍ଟି ହୋଇଥାଏ, ଯେତେବେଳେ କି ସ୍ୱର୍ଣ୍ଣସିଏସନ୍ରେ ସ୍ୱର୍ଣ୍ଣମାଟିଡ୍ ସୃଷ୍ଟି ହୋଇଥାଏ ।
- (3) ସ୍ୱର୍ଣ୍ଣପିଠଜେନେସିସ୍ରେ ସର୍ତୋଲି କୋଷରୁ ସ୍ୱର୍ଣ୍ଣମାଟୋଜୋଆ ସେମିନିଫେରସ୍ ଚ୍ୟୁବଲସ୍ କୁ ଛଡ଼ାହୋଇଥାଆନ୍ତି ଏବଂ ସ୍ୱର୍ଣ୍ଣସିଏସନ୍ରେ ସ୍ୱର୍ଣ୍ଣମାଟୋଜୋଆ ସୃଷ୍ଟିହୋଇଥାଏ ।
- (4) ସ୍ୱର୍ଣ୍ଣପିଠଜେନେସିସ୍ରେ ସ୍ୱର୍ଣ୍ଣମାଟୋଜୋଆ ସୃଷ୍ଟି ହୋଇଥାଏ ଯେତେବେଳେ କି ସ୍ୱର୍ଣ୍ଣସିଏସନ୍ରେ ସେମିନିଫେରସ୍ ଚ୍ୟୁବଲସ୍କୁ ସ୍ୱର୍ଣ୍ଣମାଟୋଜୋଆ ମାନେ ଛଡ଼ାହୁଅନ୍ତି ।

139. ପ୍ରାଣୀମାନଙ୍କର ଭ୍ରୂଣ ର ଆମ୍ନିଓନ୍ କେଉଁଥିରୁ ମିଳିଥାଏ ?

- (1) ଏକ୍ଟୋଡର୍ମ ଏବଂ ମେଜୋଡର୍ମ
- (2) ଏଣ୍ଡୋଡର୍ମ ଏବଂ ମେଜୋଡର୍ମ
- (3) ମେଜୋଡର୍ମ ଏବଂ ଟ୍ରୋଫୋବ୍ଲାଷ୍ଟ
- (4) ଏକ୍ଟୋଡର୍ମ ଏବଂ ଏଣ୍ଡୋଡର୍ମ

140. In a growing population of a country,
- (1) pre-reproductive individuals are more than the reproductive individuals.
 - (2) reproductive individuals are less than the post-reproductive individuals.
 - (3) reproductive and pre-reproductive individuals are equal in number.
 - (4) pre-reproductive individuals are less than the reproductive individuals.

141. All of the following are included in 'Ex-situ conservation' *except*

- (1) Wildlife safari parks
- (2) Sacred groves
- (3) Botanical gardens
- (4) Seed banks

142. Which part of poppy plant is used to obtain the drug "Smack" ?

- (1) Flowers
- (2) Latex
- (3) Roots
- (4) Leaves

143. Match the items given in Column I with those in Column II and select the **correct** option given below :

Column I	Column II
a. Eutrophication	i. UV-B radiation
b. Sanitary landfill	ii. Deforestation
c. Snow blindness	iii. Nutrient enrichment
d. Jhum cultivation	iv. Waste disposal

a	b	c	d
(1) ii	i	iii	iv
(2) i	iii	iv	ii
(3) iii	iv	i	ii
(4) i	ii	iv	iii

144. Which one of the following population interactions is widely used in medical science for the production of antibiotics ?

- (1) Commensalism
- (2) Mutualism
- (3) Parasitism
- (4) Amensalism

140. ଗୋଟିଏ ଦେଶର ବୃଦ୍ଧି ହେଉଥିବା ଜନସଂଖ୍ୟାରେ

- (1) ଜନ୍ମକ୍ଷମତାହାସଲ ନ କରିଥିବା ବ୍ୟକ୍ତିମାନେ, ଜନ୍ମକ୍ଷମତାହାସ ଥିବା ବ୍ୟକ୍ତି ମାନଙ୍କଠାରୁ ଅଧିକ ସଂଖ୍ୟାରେ ଥାଆନ୍ତି ।
- (2) ଜନ୍ମକ୍ଷମ ବ୍ୟକ୍ତିମାନେ, ଜନ୍ମକ୍ଷମତାହାସଲଥିବା ବ୍ୟକ୍ତିମାନଙ୍କ ଠାରୁ କମ୍ ସଂଖ୍ୟାରେ ଥାଆନ୍ତି ।
- (3) ଜନ୍ମକ୍ଷମତା ଥିବା ବ୍ୟକ୍ତିମାନଙ୍କ ସଂଖ୍ୟା ଏବଂ ଜନ୍ମକ୍ଷମତା ହାସଲ ନ କରିଥିବା ବ୍ୟକ୍ତିଙ୍କ ସଂଖ୍ୟା ସମାନ ଥାଏ ।
- (4) ଜନ୍ମକ୍ଷମତା ହାସଲ ନ କରିଥିବା ବ୍ୟକ୍ତିମାନେ, ଜନ୍ମକ୍ଷମ ବ୍ୟକ୍ତି ମାନଙ୍କ ଠାରୁ କମ୍ ସଂଖ୍ୟାରେ ଥାଆନ୍ତି ।

141. ନିମ୍ନୋକ୍ତ କେଉଁଗୋଟିକୁ ବାଦ୍ ଦେଇ ଅନ୍ୟ ସମସ୍ତ ପ୍ରଜାତିମାନଙ୍କୁ ସେମାନଙ୍କର ପ୍ରାକୃତିକ 'ପରିବେଶ ବାହାରେ ସଂରକ୍ଷିତ' କରିବା ବ୍ୟବସ୍ଥାରେ ଅନ୍ତର୍ଭୁକ୍ତ ?

- (1) ଓଲଟିଲ ଲାଇଫ୍ ସାଫାରୀ ପାର୍କ
- (2) ସାକ୍ରେଡ୍ ଗ୍ରୁଭସ୍
- (3) ଉଦ୍ଭିଦ ଉଦ୍ୟାନ
- (4) ସିଡ୍ ବ୍ୟାଙ୍କ

142. "ସ୍ମୋକ୍" ଡ୍ରଗ୍ ପାଇବାପାଇଁ ପପି ଉଦ୍ଭିଦର କେଉଁ ଅଂଶକୁ ବ୍ୟବହାର କରାଯାଏ ?

- (1) ଫୁଲ
- (2) ଗଛର କ୍ଷୀର (ଲେଟେକ୍ସ)
- (3) ଚେର
- (4) ପତ୍ର

143. ଗ୍ରହ I ସହିତ ଗ୍ରହ II କୁ ସଠିକ୍ ସଂଯୋଗ କରି ପ୍ରଦତ୍ତ ବିକଳ୍ପ ମାନଙ୍କ ମଧ୍ୟରୁ ଠିକ୍ ଉତ୍ତରଟି ବାଛି :

ଗ୍ରହ I	ଗ୍ରହ II
a. ସ୍ଲୁଟିଫିକେସନ୍	i. UV-B ବିକିରଣ
b. ସାନିଟାରୀ ଲ୍ୟାଣ୍ଡଫିଲ୍	ii. ଜଙ୍ଗଲନାଶ
c. ସ୍ନୋ ବ୍ଲାଇଣ୍ଡନେସ୍	iii. ପୋଷକ ପରିପୂର୍ଣ୍ଣ
d. ଝୁମ୍ ଜାଷ	iv. ବର୍ଜ୍ୟବସ୍ତୁ ନିଷ୍କାସନ

a	b	c	d
(1) ii	i	iii	iv
(2) i	iii	iv	ii
(3) iii	iv	i	ii
(4) i	ii	iv	iii

144. ଭେଷଜ ବିଜ୍ଞାନ କ୍ଷେତ୍ରରେ ପ୍ରତିଜୈବିକ ଉତ୍ପାଦନରେ ନିମ୍ନରେ ଦିଆଯାଇଥିବା କେଉଁ ଜନସଂଖ୍ୟାର ଅନ୍ତର୍ଭୁକ୍ତ ବହୁଳ ଭାବରେ ବ୍ୟବହାର କରାଯାଏ ?

- (1) ସହଭୋଜିତା
- (2) ପାରସ୍ପାରିକ ସମ୍ପର୍କ
- (3) ପରଜୀବୀତା
- (4) ଏମେନ୍ସାଲିଜ୍ମ

143. Which of the following events does *not* occur in rough endoplasmic reticulum ?

- (1) Protein folding
- (2) Protein glycosylation
- (3) Cleavage of signal peptide
- (4) Phospholipid synthesis

146. Which of these statements is *incorrect* ?

- (1) Enzymes of TCA cycle are present in mitochondrial matrix.
- (2) Glycolysis occurs in cytosol.
- (3) Glycolysis operates as long as it is supplied with NAD that can pick up hydrogen atoms.
- (4) Oxidative phosphorylation takes place in outer mitochondrial membrane.

147. Many ribosomes may associate with a single mRNA to form multiple copies of a polypeptide simultaneously. Such strings of ribosomes are termed as

- (1) Polysome
- (2) Polyhedral bodies
- (3) Plastidome
- (4) Nucleosome

148. Select the *incorrect* match :

- (1) Lampbrush – Diplotene bivalents chromosomes
- (2) Allosomes – Sex chromosomes
- (3) Submetacentric – L-shaped chromosomes
- (4) Polytene – Oocytes of amphibians chromosomes

149. Nissl bodies are mainly composed of

- (1) Proteins and lipids
- (2) DNA and RNA
- (3) Nucleic acids and SER
- (4) Free ribosomes and RER

150. Which of the following terms describe human dentition ?

- (1) Thecodont, Diphyodont, Homodont
- (2) Thecodont, Diphyodont, Heterodont
- (3) Pleurodont, Monophyodont, Homodont
- (4) Pleurodont, Diphyodont, Heterodont

145. ନିମ୍ନରେ ଦିଆଯାଇଥିବା ଘଟଣାବଳୀ ମାନଙ୍କ ମଧ୍ୟରୁ କେଉଁଟି ଅମୟଶ ଅନ୍ତର୍ଜୀବକୀୟ ଜାଲିକାରେ (RER) ଘଟେ ନାହିଁ ?

- (1) ପ୍ରୋଟିନ୍ ଫୋଲ୍ଡିଙ୍ଗ୍
- (2) ପ୍ରୋଟିନ୍ ଗ୍ଲାଇକୋସିଲେସନ୍
- (3) ସିଗ୍ନାଲ୍ ପେପ୍ଟାଇଡ୍ କ୍ଲିଭେଜ୍
- (4) ଫସ୍ଫୋଲିପିଡ୍ ସଂଶ୍ଳେଷଣ

146. ନିମ୍ନଲିଖିତ ଉକ୍ତି ମାନଙ୍କ ମଧ୍ୟରୁ କେଉଁଟି ଭୁଲ୍ ?

- (1) ମାଇଟୋକଣ୍ଡ୍ରିଆ ର ଆଧାର ମଧ୍ୟରେ TCA ଚକ୍ରର ବିପାତକ ମାନେ ଉପସ୍ଥିତ ଥାଆନ୍ତି ।
- (2) ସାଇଟୋସଲ୍ ମଧ୍ୟରେ ଗ୍ଲାଇକୋଲିସିସ୍ ସଂଘଟିତ ହୋଇଥାଏ ।
- (3) ଉଦ୍ଜାନ ପରମାଣୁକୁ ଧରି ରଖିପାରୁଥିବା NAD ଯେତେ ପର୍ଯ୍ୟନ୍ତ ଯୋଗାଇଦିଆଯାଉଥିବ, ସେତେପର୍ଯ୍ୟନ୍ତ ଗ୍ଲାଇକୋଲିସିସ୍ କ୍ରିୟାଶୀଳ ଥିବ ।
- (4) ମାଇଟୋକଣ୍ଡ୍ରିଆ ର ବାହ୍ୟ ଝିଲ୍ଲାରେ ଅକ୍ସିଡେଟିଭ୍ ଫସ୍ଫୋରିଲେସନ୍ ହୋଇଥାଏ ।

147. ଗୋଟିଏ ଏମ୍.ଆର୍.ଏନ୍.ଏ. (mRNA) ସହିତ ବହୁତ ଗୁଡିଏ ରାଇବୋଜମ୍ ସହଯୋଗ ହୋଇ, ପଲିପେପ୍ଟାଇଡ୍ ର ବହୁତ ପ୍ରତିଛବି ସମକ୍ଷଣରେ ତିଆରି କରନ୍ତି । ଏହି ପ୍ରକାର ରାଇବୋଜମ୍ ର ଦଉଡ଼ିକୁ (ଷ୍ଟ୍ରିଙ୍ଗ୍) କଣ କୁହାଯାଏ ?

- (1) ପଲିଜୋମ୍
- (2) ପଲିହେଡ୍ରାଲ ବଡିଜ୍
- (3) ପ୍ଲାଷ୍ଟିଡୋମ୍
- (4) ନିୟୁକ୍ଲିଓଜମ୍

148. ଭୁଲ୍ ସଂଯୋଗ ଟିକୁ ବାଛ :

- (1) ଲାମ୍ପବ୍ରସ୍ ଗୁଣସୂତ୍ର – ଡିପ୍ଲୋଟିନ୍ ର ଯୁଗଳ ଗୁଣସୂତ୍ର
- (2) ଆଲୋଜୋମ୍ – ଲିଙ୍ଗୀୟ ଗୁଣସୂତ୍ର
- (3) ସବ୍ ମେଟାସେଣ୍ଟ୍ରିକ୍ – L-ଆକୃତିର ଗୁଣସୂତ୍ର ଗୁଣସୂତ୍ର
- (4) ପଲିଟିନ୍ ଗୁଣସୂତ୍ର – ଉଭୟଚର ମାନଙ୍କ ଡିମ୍ବାଣୁକୋଷ

149. ନିସଲ୍ ବଡି ମୁଖ୍ୟତଃ କାହାଦ୍ୱାରା ଗଠିତ ହୋଇଥାଏ ?

- (1) ପ୍ଲଷ୍ଟିସାର ଏବଂ ସ୍ନେହସାର
- (2) ଡି.ଏନ୍.ଏ. ଏବଂ ଆର୍.ଏନ୍.ଏ.
- (3) ନିୟୁକ୍ଲିକ୍ ଏସିଡ୍ ଏବଂ ମୟଶ ଅନ୍ତର୍ଜୀବକୀୟ ଜାଲିକା (SER)
- (4) ମୁକ୍ତ ରାଇବୋଜମ୍ ଏବଂ ଅମୟଶ ଅନ୍ତର୍ଜୀବକୀୟ ଜାଲିକା (RER)

150. ନିମ୍ନରେ ଦିଆଯାଇଥିବା କେଉଁ ପଦ ମନୁଷ୍ୟର ଦନ୍ତବିନ୍ୟାସ ର ବର୍ଣ୍ଣନା କରେ ?

- (1) ଥେକୋଡଣ୍ଟ, ଡାଇଫାୟୋଡଣ୍ଟ, ହୋମୋଡଣ୍ଟ
- (2) ଥେକୋଡଣ୍ଟ, ଡାଇଫାୟୋଡଣ୍ଟ, ହେଟେରୋଡଣ୍ଟ
- (3) ପ୍ଲିୟୁରୋଡଣ୍ଟ, ମନୋଫାୟୋଡଣ୍ଟ, ହୋମୋଡଣ୍ଟ
- (4) ପ୍ଲିୟୁରୋଡଣ୍ଟ, ଡାଇଫାୟୋଡଣ୍ଟ, ହେଟେରୋଡଣ୍ଟ

151. Match the items given in Column I with those in Column II and select the **correct** option given below :

<i>Column I</i>		<i>Column II</i>	
a. Glycosuria	i. Accumulation of uric acid in joints		
b. Gout	ii. Mass of crystallised salts within the kidney		
c. Renal calculi	iii. Inflammation in glomeruli		
d. Glomerular nephritis	iv. Presence of glucose in urine		

	a	b	c	d
(1)	iii	ii	iv	i
(2)	i	ii	iii	iv
(3)	ii	iii	i	iv
(4)	iv	i	ii	iii

152. Match the items given in Column I with those in Column II and select the **correct** option given below :

<i>Column I</i>		<i>Column II</i>	
<i>(Function)</i>		<i>(Part of Excretory System)</i>	
a. Ultrafiltration	i. Henle's loop		
b. Concentration of urine	ii. Ureter		
c. Transport of urine	iii. Urinary bladder		
d. Storage of urine	iv. Malpighian corpuscle		
	v. Proximal convoluted tubule		

	a	b	c	d
(1)	iv	v	ii	iii
(2)	iv	i	ii	iii
(3)	v	iv	i	ii
(4)	v	iv	i	iii

151. ଗ୍ରହ I ସହିତ ଗ୍ରହ II କୁ ସଠିକ୍ ସଂଯୋଗ କରି ପ୍ରଦତ୍ତ ବିକଳ୍ପ ମାନଙ୍କ ମଧ୍ୟରୁ ଠିକ୍ ଉତ୍ତରଟି ବାଛି :

<i>ଗ୍ରହ I</i>		<i>ଗ୍ରହ II</i>	
a. ଗ୍ଲାଉକୋସୁରିଆ	i. ଗଣ୍ଠିମାନଙ୍କରେ ଘୃରିକ୍ ଅମ୍ଳ ଜମା ହେବା		
b. ଗାଉର୍	ii. ବୃକ୍କ ମଧ୍ୟରେ ଲବଣ ସ୍ଫଟିକ ସ୍ତମ୍ଭ		
c. ରେନାଲ୍ କୈଲକ୍ୟୁଲାଇ	iii. କୌଶିକ ଗୁଚ୍ଛ ମାନଙ୍କରେ ଫୁଲା		
d. ଗ୍ଲୋମେରୁଲାର୍ ନେଫ୍ରିଟିସ୍	iv. ମୂତ୍ରରେ ଗ୍ଲୁକୋଜ୍ ର ଉପସ୍ଥିତି		

	a	b	c	d
(1)	iii	ii	iv	i
(2)	i	ii	iii	iv
(3)	ii	iii	i	iv
(4)	iv	i	ii	iii

152. ଗ୍ରହ I ସହିତ ଗ୍ରହ II କୁ ସଠିକ୍ ସଂଯୋଗ କରି ପ୍ରଦତ୍ତ ବିକଳ୍ପ ମାନଙ୍କ ମଧ୍ୟରୁ ଠିକ୍ ଉତ୍ତରଟି ବାଛି :

<i>ଗ୍ରହ I</i>		<i>ଗ୍ରହ II</i>	
<i>(କାର୍ଯ୍ୟ)</i>		<i>(ଉତ୍ସର୍ଜନ ତନ୍ତ୍ରରଭାଗ)</i>	
a. ଅଲ୍ଟ୍ରା ପରିସ୍ରବଣ	i. ହେନେଲସ୍ ଲୁପ		
b. ମୂତ୍ର ର ସାନ୍ଦ୍ରତା	ii. ମୂତ୍ର ସାରଣୀ		
c. ମୂତ୍ର ର ପରିବହନ	iii. ମୂତ୍ରାଶୟ		
d. ମୂତ୍ର ସଞ୍ଚୟ	iv. ମାଲପିଗିଆନ୍ କର୍ପସ୍କୁଲ୍		
	v. ପ୍ରୋକ୍ସିମାଲ୍ କନ୍ଭୋଲୁଟେଡ୍ ଟ୍ୟୁବୁଲ୍		

	a	b	c	d
(1)	iv	v	ii	iii
(2)	iv	i	ii	iii
(3)	v	iv	i	ii
(4)	v	iv	i	iii

153. The similarity of bone structure in the forelimbs of many vertebrates is an example of

- (1) Homology
- (2) Analogy
- (3) Convergent evolution
- (4) Adaptive radiation

154. Which of the following is **not** an autoimmune disease ?

- (1) Psoriasis
- (2) Rheumatoid arthritis
- (3) Alzheimer's disease
- (4) Vitiligo

155. Among the following sets of examples for divergent evolution, select the **incorrect** option :

- (1) Forelimbs of man, bat and cheetah
- (2) Heart of bat, man and cheetah
- (3) Brain of bat, man and cheetah
- (4) Eye of octopus, bat and man

156. Which of the following characteristics represent 'Inheritance of blood groups' in humans ?

- a. Dominance
 - b. Co-dominance
 - c. Multiple allele
 - d. Incomplete dominance
 - e. Polygenic inheritance
- (1) b, c and e
 - (2) a, b and c
 - (3) b, d and e
 - (4) a, c and e

157. In which disease does mosquito transmitted pathogen cause chronic inflammation of lymphatic vessels ?

- (1) Elephantiasis
- (2) Ascariasis
- (3) Ringworm disease
- (4) Amoebiasis

158. Conversion of milk to curd improves its nutritional value by increasing the amount of

- (1) Vitamin D
- (2) Vitamin A
- (3) Vitamin B₁₂
- (4) Vitamin E

153. ବହୁତ ମେରୁଦଣ୍ଡୀ ମାନଙ୍କର ଅଗ୍ରବାହୁ ଅସ୍ଥିଗଠନ ରେ ସମାନତା ର ଉଦାହରଣ ହେଉଛି

- (1) ସମଜାତୀୟତା (ହୋମୋଲୋଜି)
- (2) ଅନୁରୂପତା (ଆନାଲୋଜି)
- (3) କନ୍ଭରଜେଣ୍ଟ ବିବର୍ତ୍ତନ
- (4) ଆଡାପ୍ଟିଭ୍ ରେଡିଏସନ୍

154. ନିମ୍ନରେ ଦିଆଯାଇଥିବା ମାନଙ୍କ ମଧ୍ୟରୁ କେଉଁଟି ସ୍ୱପ୍ରତିରକ୍ଷା ହାନିକାରକ (ଅଟୋଇମ୍ୟୁନ) ରୋଗ ନୁହେଁ ?

- (1) ସୋରିଆସିସ୍
- (2) ରୁମ୍ୟାଟୋଇଡିସ୍ ଆଥ୍ରାଇଟିସ୍ (ଆଣ୍ଟିବାୟୋଜେନିକ୍ ବାତ)
- (3) ଆଲଜେମରସ୍ ରୋଗ
- (4) ଭିଟିଲିଗୋ

155. ନିମ୍ନରେ ଦିଆଯାଇଥିବା ଉଦାହରଣ ଗୁଡ଼ିକ ମାନଙ୍କ ମଧ୍ୟରୁ କେଉଁଟି ତାଲଭରଜେଣ୍ଟ ବିବର୍ତ୍ତନ ପାଇଁ ଭୁଲ୍ ତାହା ବାଛି :

- (1) ମନୁଷ୍ୟର ହାତ (ଅଗ୍ରବାହୁ), ବାହୁଡି ଏବଂ ଚିତାବାଘ
- (2) ବାହୁଡିର ହୃଦ୍‌ପିଣ୍ଡ, ମନୁଷ୍ୟ ଏବଂ ଚିତାବାଘ
- (3) ବାହୁଡିର ମସ୍ତିଷ୍କ, ମନୁଷ୍ୟ ଏବଂ ଚିତାବାଘ
- (4) ଅକ୍ଲୋପସ୍ ର ଆଖି, ବାହୁଡି ଏବଂ ମନୁଷ୍ୟ

156. ନିମ୍ନୋକ୍ତ କେଉଁ ଗୁଣଗୁଡ଼ିକ 'ରକ୍ତବର୍ଗର ବଂଶଗତିକୁ' ବର୍ଣ୍ଣନା କରେ ?

- a. ପ୍ରଭାବା (ଡୋମିନାନ୍ସ)
 - b. ସହ ପ୍ରଭାବା (କୋ-ଡୋମିନାନ୍ସ)
 - c. ବହୁ ମୁଗ୍ଧବିକଳ୍ପୀ (ମଲ୍ଟିପଲ୍ ଆଲିଲ୍)
 - d. ଅସମ୍ପୂର୍ଣ୍ଣ ପ୍ରଭାବା (ଇନ୍‌କମ୍ପ୍ଲିଟ୍ ଡୋମିନାନ୍ସ)
 - e. ପଲିଜେନିକ୍ ଇନ୍‌ହେରିଟାନ୍ସ
- (1) b, c ଏବଂ e
 - (2) a, b ଏବଂ c
 - (3) b, d ଏବଂ e
 - (4) a, c ଏବଂ e

157. କେଉଁ ରୋଗରେ ମଶା ରୋଗ-କାରକକୁ ସଞ୍ଚାରିତ କରି ଦୀର୍ଘକାଳ ଧରି ଲିମ୍ଫ ଭେସଲରେ ପ୍ରଦାହ ସୃଷ୍ଟିକରେ ?

- (1) ଏଲିଫାଣ୍ଟିଆସିସ୍
- (2) ଆସ୍କାରିଆସିସ୍
- (3) ରିଙ୍ଗ୍ ୱାର୍ମ ରୋଗ
- (4) ଏମୋବିଆସିସ୍

158. ଦୁଗ୍ଧ ଦହିରେ ପରିଣତ ହେଲେ, କାହାର ପରିମାଣରେ ବୃଦ୍ଧି ହୋଇ, ଏହାର ପୋଷକ ଗୁଣରେ ଉନ୍ନତି ଆସିଥାଏ ?

- (1) ଜୀବସାର D
- (2) ଜୀବସାର A
- (3) ଜୀବସାର B₁₂
- (4) ଜୀବସାର E

159. Which of the following is an amino acid derived hormone ?

- (1) Epinephrine
- (2) Ecdysone
- (3) Estradiol
- (4) Estriol

160. Which of the following structures or regions is **incorrectly** paired with its function ?

- (1) Medulla oblongata : controls respiration and cardiovascular reflexes.
- (2) Limbic system : consists of fibre tracts that interconnect different regions of brain; controls movement.
- (3) Hypothalamus : production of releasing hormones and regulation of temperature, hunger and thirst.
- (4) Corpus callosum : band of fibers connecting left and right cerebral hemispheres.

161. Which of the following hormones can play a significant role in osteoporosis ?

- (1) Aldosterone and Prolactin
- (2) Progesterone and Aldosterone
- (3) Estrogen and Parathyroid hormone
- (4) Parathyroid hormone and Prolactin

162. The transparent lens in the human eye is held in its place by

- (1) ligaments attached to the ciliary body
- (2) ligaments attached to the iris
- (3) smooth muscles attached to the iris
- (4) smooth muscles attached to the ciliary body

159. ନିମ୍ନରେ ଦିଆଯାଇଥିବା ମାନଙ୍କ ମଧ୍ୟରୁ କେଉଁଟି ଆମିନୋ ଏସିଡ଼ରୁ ଉତ୍ପନ୍ନ ହୋଇଥିବା ହରମୋନ୍ ?

- (1) ଏପିନେଫ୍ରିନ୍
- (2) ଏକଡାଇସୋନ୍
- (3) ଏସ୍ଟ୍ରାଡ଼ାଓଲ୍
- (4) ଏସ୍ଟ୍ରିଓଲ୍

160. ନିମ୍ନରେ ଦିଆଯାଇଥିବା କେଉଁ ଗଠନ କିମ୍ବା ସ୍ଥାନ (ଶରୀର ଅଂଶ) ଏହାର କାର୍ଯ୍ୟ ସହିତ ଭୁଲ୍ ଭାବେ ସଂଯୋଗ ହୋଇଛି ?

- (1) ମେଡୁଲା ଅବଲଙ୍ଗାଟା : ଶ୍ୱାସକ୍ରିୟା ଏବଂ ହୃଦପିଣ୍ଡ ଓ ଧମନୀ ସମ୍ବନ୍ଧୀୟ ସ୍ୱତଃସ୍ୱତ ପ୍ରତିକ୍ରିୟାକୁ ନିୟନ୍ତ୍ରଣ କରେ ।
- (2) ଲିମ୍ବିକ୍ ଅଙ୍ଗତନ୍ତ୍ର : ମସ୍ତିଷ୍କର ବିଭିନ୍ନ ସ୍ଥାନକୁ ଯୋଗ କରୁଥିବା ଫାଇବ୍ରି ଟ୍ରାକ୍ସରେ ଗଠିତ; ଚଳନ ପଦ୍ଧତିକୁ ନିୟନ୍ତ୍ରଣ କରେ ।
- (3) ହାଇପୋଥାଲାମସ୍ : ମୂଳ ହରମୋନ୍ ଉତ୍ପନ୍ନ କରିବା ଏବଂ ତାପ, କ୍ଷୁଧା ଏବଂ ଶୋଷ କୁ ନିୟନ୍ତ୍ରଣ କରିବା ।
- (4) କର୍ପସ୍ କାଲୋଜମ୍ : ବାମ ଓ ଦକ୍ଷିଣ ପ୍ରମସ୍ତିଷ୍କକୁ ସଂଯୋଗ କରୁଥିବା ଫାଇବ୍ରି ବୁନ୍ଧ ।

161. ନିମ୍ନୋକ୍ତ ହରମୋନ୍ ମାନଙ୍କ ମଧ୍ୟରୁ କେଉଁଟି ହାତରେ ଛିଦ୍ରାଳ ସୃଷ୍ଟିକରିବାରେ ଗୁରୁତ୍ୱପୂର୍ଣ୍ଣ ଭୂମିକା ଗ୍ରହଣ କରେ ?

- (1) ଆଲ୍ଡୋଷ୍ଟେରନ୍ ଏବଂ ପ୍ରୋଲାକ୍ଟିନ୍
- (2) ପ୍ରୋଜେଷ୍ଟେରନ୍ ଏବଂ ଆଲ୍ଡୋଷ୍ଟେରନ୍
- (3) ଇଷ୍ଟ୍ରୋଜେନ୍ ଏବଂ ପାରାଥାଇରୋଏଡ୍ ହରମୋନ୍
- (4) ପାରାଥାଇରୋଏଡ୍, ହରମୋନ୍ ଏବଂ ପ୍ରୋଲାକ୍ଟିନ୍

162. ନିମ୍ନରେ ଦିଆଯାଇଥିବା ମାନଙ୍କ ମଧ୍ୟରୁ କାହା ଦ୍ୱାରା ମନୁଷ୍ୟ ଆଖିର ଗୁରୁତ୍ୱପୂର୍ଣ୍ଣ ଲେନ୍ସ କୁ ଏହାର ସ୍ଥାନରେ ଧରିରଖାଯାଇଥାଏ ?

- (1) ସିଲିଆରି ବଡି ସହିତ ସଂଯୁକ୍ତ ହୋଇଥିବା ଲିଗାମେଣ୍ଟ
- (2) ଆଇରିସ୍ ସହିତ ସଂଯୁକ୍ତ ହୋଇଥିବା ଲିଗାମେଣ୍ଟ
- (3) ଆଇରିସ୍ ସହିତ ସଂଯୁକ୍ତ ହୋଇଥିବା ସ୍ମୁଥ୍ ମାଂସପେଶୀ
- (4) ସିଲିଆରି ବଡି ସହିତ ସଂଯୁକ୍ତ ହୋଇଥିବା ସ୍ମୁଥ୍ ମାଂସପେଶୀ

163. Which of the following animals does *not* undergo metamorphosis ?

- (1) Earthworm
- (2) Tunicate
- (3) Moth
- (4) Starfish

164. Identify the vertebrate group of animals characterized by crop and gizzard in its digestive system.

- (1) Amphibia
- (2) Reptilia
- (3) Aves
- (4) Osteichthyes

165. Which of the following organisms are known as chief producers in the oceans ?

- (1) Dinoflagellates
- (2) Diatoms
- (3) Cyanobacteria
- (4) Euglenoids

166. Which one of these animals is *not* a homeotherm ?

- (1) *Macropus*
- (2) *Chelone*
- (3) *Camelus*
- (4) *Psittacula*

167. Ciliates differ from all other protozoans in

- (1) using flagella for locomotion
- (2) having a contractile vacuole for removing excess water
- (3) using pseudopodia for capturing prey
- (4) having two types of nuclei

168. Which of the following features is used to identify a male cockroach from a female cockroach ?

- (1) Presence of a boat shaped sternum on the 9th abdominal segment
- (2) Presence of caudal styles
- (3) Forewings with darker tegmina
- (4) Presence of anal cerci

163. ନିମ୍ନରେ ଦିଆଯାଇଥିବା କେଉଁ ପ୍ରାଣୀ ର ରୂପାନ୍ତର ହୁଏ ନାହିଁ ?

- (1) ଜିଆ
- (2) ଟ୍ୟୁନିକେଟ୍
- (3) ମଥ୍
- (4) ସମୁଦ୍ର ତାରା

164. ନିମ୍ନରେ ଦିଆଯାଇଥିବା ପ୍ରାଣୀମାନଙ୍କ ମଧ୍ୟରୁ ଯେଉଁ ମେରୁଦଣ୍ଡୀ ପ୍ରାଣୀର ଖାଦ୍ୟମୁଣା (କ୍ରପ) ଏବଂ ଗିଜାର୍ଡ (ପୋଷଣୀ) ଅଛି ତାହାକୁ ଚିହ୍ନଟ କର ।

- (1) ଉଭୟଚର (ଏମ୍ଫିବିଆ)
- (2) ସରୀସୃପ (ରେପଟିଲିୟା)
- (3) ପକ୍ଷୀ ବା ବିହଙ୍ଗ (ଏବିଜ୍)
- (4) ଅଷ୍ଟେଇର୍ ଥାଇସ୍ ବା ମସୃଜାତୀୟ

165. ନିମ୍ନୋକ୍ତ କେଉଁ ଜୀବ ମହାସାଗରରେ ମୁଖ୍ୟ ଉତ୍ପାଦକ ଅଟେ ?

- (1) ଡିନୋଫ୍ଲାଜେଲେଟସ୍
- (2) ଡାଇଟାମସ୍
- (3) ସାଇନୋବ୍ୟାକ୍ଟେରିଆ (ନୀଳହରିଡ଼ ଶୈବାଳ)
- (4) ଇଉଗ୍ଲିନଏଡ୍

166. ନିମ୍ନରେ ଦିଆଯାଇଥିବା ପ୍ରାଣୀମାନଙ୍କ ମଧ୍ୟରୁ କେଉଁଟି ସ୍ଥିରତାପୀ ହୁଏ ?

- (1) ମୈକ୍ରୋପସ
- (2) କିଲୋନ
- (3) କୈମେଲସ
- (4) ସିଟେକୁଲା

167. ସିଲିଆ ଥିବା ପ୍ରୋଟୋଜୋଆ ମାନେ ଅନ୍ୟ ପ୍ରୋଟୋଜୋଆ ଜୀବମାନଙ୍କ ଠାରୁ ନିମ୍ନୋକ୍ତ କେଉଁ କାରଣରୁ ଭିନ୍ନ ହୋଇଥାନ୍ତି ?

- (1) ଚଳନ କ୍ରିୟା ପାଇଁ ଫ୍ଲାଜେଲା ବ୍ୟବହାର କରନ୍ତି
- (2) ଜଳ ନିଷ୍କାସନ ପାଇଁ ସେମାନଙ୍କର କଣ୍ଟ୍ରାକ୍ଟାଇଲ୍ ଭାକ୍ୟୁଲ୍ ଥାଏ
- (3) ଶିକାର ଧରିବାପାଇଁ କୂଟପାଦକୁ ବ୍ୟବହାର କରେ
- (4) ସେମାନଙ୍କର ଦୁଇ ପ୍ରକାରର ନ୍ୟଷ୍ଟି ଥାଏ

168. ନିମ୍ନରେ ଦିଆଯାଇଥିବା କେଉଁ ଶାରୀରିକ ଗଠନ ଗୋଟିଏ ଅଣ୍ଡିରା ଅସରପା କୁ ମାଛ ଅସରପା ଠାରୁ ଚିହ୍ନଟ କରିବା ପାଇଁ ବ୍ୟବହାର କରାଯାଏ ?

- (1) ନବମ ଉଦରୀୟ କକ୍ଷ (ଶରୀରର କାୟାଖଣ୍ଡ) ଉପରେ ତଳା ଆକୃତି ଷ୍ଟରନମ୍ ର ଉପସ୍ଥିତି
- (2) କାତଲ୍ ଷ୍ଟାଇଲ୍ ର ଉପସ୍ଥିତି
- (3) ଆଗ ପକ୍ଷରେ ଗାଡ଼ ରଙ୍ଗର ଚେର୍ମିନା ଥାଏ
- (4) ଆନାଲ୍ ସିରି ର ଉପସ୍ଥିତି

169. Which of the following options correctly represents the lung conditions in asthma and emphysema, respectively ?

- (1) Inflammation of bronchioles; Decreased respiratory surface
- (2) Increased number of bronchioles; Increased respiratory surface
- (3) Increased respiratory surface; Inflammation of bronchioles
- (4) Decreased respiratory surface; Inflammation of bronchioles

170. Match the items given in Column I with those in Column II and select the **correct** option given below :

Column I

Column II

- | | |
|--------------------|--|
| a. Tricuspid valve | i. Between left atrium and left ventricle |
| b. Bicuspid valve | ii. Between right ventricle and pulmonary artery |
| c. Semilunar valve | iii. Between right atrium and right ventricle |

- | | a | b | c |
|-----|-----|-----|-----|
| (1) | iii | i | ii |
| (2) | i | iii | ii |
| (3) | i | ii | iii |
| (4) | ii | i | iii |

171. Match the items given in Column I with those in Column II and select the **correct** option given below :

Column I

Column II

- | | |
|-------------------------------|--------------------|
| a. Tidal volume | i. 2500 – 3000 mL |
| b. Inspiratory Reserve volume | ii. 1100 – 1200 mL |
| c. Expiratory Reserve volume | iii. 500 – 550 mL |
| d. Residual volume | iv. 1000 – 1100 mL |

- | | a | b | c | d |
|-----|-----|-----|----|-----|
| (1) | iii | ii | i | iv |
| (2) | iii | i | iv | ii |
| (3) | i | iv | ii | iii |
| (4) | iv | iii | ii | i |

169. ନିମ୍ନୋକ୍ତ କେଉଁଟି ଯଥାକ୍ରମେ ଆକ୍ରମା ଏବଂ ଇମ୍ଫାଇସେମାରେ ଫୁସ୍‌ଫୁସର ଅବସ୍ଥାକୁ ଠିକ୍ ଭାବରେ ବୁଝାଏ ?

- (1) ଶ୍ଵାସନଳୀକାର ଫୁଲ୍ଲା; ଶ୍ଵାସକ୍ରିୟା ସ୍ଥାନ ର ହ୍ରାସ
- (2) ଶ୍ଵାସନଳୀକା ସଂଖ୍ୟାରେ ବୃଦ୍ଧି; ଶ୍ଵାସକ୍ରିୟା ସ୍ଥାନ ର ବୃଦ୍ଧି
- (3) ଶ୍ଵାସକ୍ରିୟା ସ୍ଥାନ ର ବୃଦ୍ଧି; ଶ୍ଵାସନଳୀକା ର ଫୁଲ୍ଲା
- (4) ଶ୍ଵାସକ୍ରିୟା ସ୍ଥାନ ର ହ୍ରାସ; ଶ୍ଵାସନଳୀକା ର ଫୁଲ୍ଲା

170. ଗ୍ରହ I ସହିତ ଗ୍ରହ II କୁ ସଠିକ୍ ସଂଯୋଗ କରି ପ୍ରଦତ୍ତ ବିକଳ୍ପ ମାନଙ୍କ ମଧ୍ୟରୁ ଠିକ୍ ଉତ୍ତରଟି ବାଛି :

ଗ୍ରହ I

ଗ୍ରହ II

- | | |
|--------------------------------|---|
| a. ତିନିପାଖୁଡ଼ା ବିଶିଷ୍ଟ କପାଟିକା | i. ବାମ ଅଳିନ୍ଦ ଏବଂ ବାମ ନିଳୟ ମଧ୍ୟରେ |
| b. ଦୁଇପାଖୁଡ଼ା ବିଶିଷ୍ଟ କପାଟିକା | ii. ଦକ୍ଷିଣ ନିଳୟ ଏବଂ ପଲ୍ମୋନାରି ଧମନୀ ମଧ୍ୟରେ |
| c. ଅର୍ଦ୍ଧଚନ୍ଦ୍ରାକୃତି କପାଟିକା | iii. ଦକ୍ଷିଣ ଅଳିନ୍ଦ ଏବଂ ଦକ୍ଷିଣ ନିଳୟ ମଧ୍ୟରେ |

- | | a | b | c |
|-----|-----|-----|-----|
| (1) | iii | i | ii |
| (2) | i | iii | ii |
| (3) | i | ii | iii |
| (4) | ii | i | iii |

171. ଗ୍ରହ I ସହିତ ଗ୍ରହ II କୁ ସଠିକ୍ ସଂଯୋଗ କରି ପ୍ରଦତ୍ତ ବିକଳ୍ପ ମାନଙ୍କ ମଧ୍ୟରୁ ଠିକ୍ ଉତ୍ତରଟି ବାଛି :

ଗ୍ରହ I

ଗ୍ରହ II

- | | |
|---------------------------------|--------------------|
| a. ଟାଇଡାଲ୍ ଭଲ୍ୟୁମ୍ | i. 2500 – 3000 mL |
| b. ଇନ୍ସପିରେଟୋରୀ ରିଜର୍ଭ୍ ଭଲ୍ୟୁମ୍ | ii. 1100 – 1200 mL |
| c. ଏକ୍ସପିରେଟୋରୀ ରିଜର୍ଭ୍ ଭଲ୍ୟୁମ୍ | iii. 500 – 550 mL |
| d. ରେସିଡୁଆଲ୍ ଭଲ୍ୟୁମ୍ | iv. 1000 – 1100 mL |

- | | a | b | c | d |
|-----|-----|-----|----|-----|
| (1) | iii | ii | i | iv |
| (2) | iii | i | iv | ii |
| (3) | i | iv | ii | iii |
| (4) | iv | iii | ii | i |

172. AGGTATCGCAT is a sequence from the coding strand of a gene. What will be the corresponding sequence of the transcribed mRNA ?

- (1) AGGUAUCGCAU
- (2) UGGTUTCGCAT
- (3) ACCUAUGCGAU
- (4) UCCAUAGCGUA

173. According to Hugo de Vries, the mechanism of evolution is

- (1) Multiple step mutations
- (2) Saltation
- (3) Phenotypic variations
- (4) Minor mutations

174. Match the items given in Column I with those in Column II and select the **correct** option given below :

<i>Column I</i>	<i>Column II</i>
a. Proliferative Phase	i. Breakdown of endometrial lining
b. Secretory Phase	ii. Follicular Phase
c. Menstruation	iii. Luteal Phase

	a	b	c
(1)	iii	ii	i
(2)	i	iii	ii
(3)	ii	iii	i
(4)	iii	i	ii

175. A woman has an X-linked condition on one of her X chromosomes. This chromosome can be inherited by

- (1) Only daughters
- (2) Only sons
- (3) Only grandchildren
- (4) Both sons and daughters

176. All of the following are part of an operon *except*

- (1) an operator
- (2) structural genes
- (3) an enhancer
- (4) a promoter

172. ଗୋଟିଏ ଗୁଣପିଣ୍ଡର କୋଡିଙ୍ଗ ସ୍ତ୍ରୀର ଅନୁକ୍ରମ ହେଉଛି AGGTATCGCAT ଅନୁଲେଖିତ mRNA ର ଅନୁକ୍ରମ କ'ଣ ହେବ ?

- (1) AGGUAUCGCAU
- (2) UGGTUTCGCAT
- (3) ACCUAUGCGAU
- (4) UCCAUAGCGUA

173. ହ୍ୟୁଗୋଡିଭାରିୟାଙ୍କ ମତରେ ବିବର୍ତନ ପଦ୍ଧତି ହେଉଛି

- (1) ନବୋଦ୍ଭବନ ର ଅନେକ ପ୍ରଭ
- (2) ସଲ୍ଟେସନ୍
- (3) ଲକ୍ଷଣପ୍ରଭୂତା ବିଭିନ୍ନତା
- (4) ଅଳ୍ପ ନବୋଦ୍ଭବନ

174. ପ୍ରଥମ I ସହିତ ପ୍ରଥମ II କୁ ସଠିକ୍ ସଂଯୋଗ କରି ପ୍ରଦତ୍ତ ବିକଳ୍ପ ମାନଙ୍କ ମଧ୍ୟରୁ **ଠିକ୍** ଉତ୍ତରଟି ବାଛି :

<i>ପ୍ରଥମ I</i>	<i>ପ୍ରଥମ II</i>
a. ପ୍ରୋଲିଫେରେଟିଭ୍ ଫେଜ୍	i. ଏଣ୍ଡୋମେଟ୍ରିଆଲ ଭିତରସ୍ତର ଭାଙ୍ଗିବା
b. ସିକ୍ରିଟୋରୀ ଫେଜ୍	ii. ଫଲିକୁଲାର୍ ଫେଜ୍
c. ମେନସ୍ଟ୍ରୁଏସନ୍	iii. ଲୁଟିଆଲ୍ ଫେଜ୍

	a	b	c
(1)	iii	ii	i
(2)	i	iii	ii
(3)	ii	iii	i
(4)	iii	i	ii

175. ଗୋଟିଏ ସ୍ତ୍ରୀଲୋକ ର X ଗୁଣସୂତ୍ରରେ X-ଲିଙ୍କ୍ଡ୍ ଅବସ୍ଥା ଅଛି । ଏହି ଗୁଣସୂତ୍ର କାହାଦ୍ୱାରା ଉତ୍ତରାଧିକୃତ ହୋଇପାରିବ ?

- (1) କେବଳ ଝିଅ ମାନେ
- (2) କେବଳ ପୁଅ ମାନେ
- (3) କେବଳ ନାତିନାତୁଣୀ ମାନେ
- (4) ଉଭୟ ଝିଅ ଏବଂ ପୁଅ ମାନେ

176. ନିମ୍ନରେ ଦିଆଯାଇଥିବା ମାନଙ୍କ ମଧ୍ୟରୁ କେଉଁଟି ଅପେରନ୍ ର ଏକ ଅଂଶ ନୁହେଁ ?

- (1) ଗୋଟିଏ ଅପେରନ୍
- (2) ସ୍ତ୍ରକ୍ତରାଲ୍ ଜିନ୍
- (3) ଗୋଟିଏ ଏନ୍‌ହାନ୍ସର୍
- (4) ଗୋଟିଏ ପ୍ରୋମୋଟର

177. Which of the following gastric cells indirectly

help in erythropoiesis ?

- (1) Chief cells
- (2) Mucous cells
- (3) Goblet cells
- (4) Parietal cells

178. Match the items given in Column I with those in Column II and select the **correct** option given below :

Column I

Column II

- | | |
|---------------|------------------------|
| a. Fibrinogen | i. Osmotic balance |
| b. Globulin | ii. Blood clotting |
| c. Albumin | iii. Defence mechanism |

a b c

- (1) iii ii i
- (2) i ii iii
- (3) i iii ii
- (4) ii iii i

179. Calcium is important in skeletal muscle contraction because it

- (1) binds to troponin to remove the masking of active sites on actin for myosin.
- (2) activates the myosin ATPase by binding to it.
- (3) detaches the myosin head from the actin filament.
- (4) prevents the formation of bonds between the myosin cross bridges and the actin filament.

180. Which of the following is an occupational respiratory disorder ?

- (1) Anthracis
- (2) Silicosis
- (3) Botulism
- (4) Emphysema

177. ଲୋହିତ ରକ୍ତ କଣିକା ଗଠନରେ କେଉଁ ପାଚକ କୋଷ ପରୋକ୍ଷ ଭାବରେ ସାହାଯ୍ୟ କରିଥାଏ ?

- (1) ଚିଫ୍ କୋଷ
- (2) ମ୍ୟୁକସ୍ କୋଷ
- (3) ଗବ୍ଲେଟ୍ କୋଷ
- (4) ପାରିଏଟାଲ୍ କୋଷ

178. ଗ୍ରହ I ସହିତ ଗ୍ରହ II କୁ ସଠିକ୍ ସଂଯୋଗ କରି ପ୍ରଦତ୍ତ ବିକଳ୍ପ ମାନଙ୍କ ମଧ୍ୟରୁ ଠିକ୍ ଉତ୍ତରଟି ବାଛି :

ଗ୍ରହ I

ଗ୍ରହ II

- | | |
|------------------|-------------------------|
| a. ଫାଇବ୍ରିନୋଜେନ୍ | i. ଅସଂଯୋଗ୍ୟ ସନ୍ତୁଳନ |
| b. ଗ୍ଲୋବୁଲିନ୍ | ii. ରକ୍ତଜମାଟ ବାନ୍ଧିବା |
| c. ଆଲ୍‌ବୁମିନ୍ | iii. ପ୍ରତିରକ୍ଷା ପ୍ରଣାଳୀ |

a b c

- (1) iii ii i
- (2) i ii iii
- (3) i iii ii
- (4) ii iii i

179. ନିମ୍ନୋକ୍ତ କେଉଁ କାରଣ ପାଇଁ କଙ୍କାଳ ମାଂସପେଶୀ ସଂକୋଚନରେ କାଲ୍‌ସିୟମ୍ ମୁଖ୍ୟ ?

- (1) ଏହା ଟ୍ରୋପୋନିନ୍ ସହିତ ସଂଯୋଗହୋଇ ମାୟୋସିନ୍‌ର କ୍ରିୟାଶୀଳ ପାର୍ଶ୍ୱରୁ ମୁଖ୍ୟ ଅପସାରଣ କରିଥାଏ ।
- (2) ଏହା ସହିତ ସଂଯୋଗ ହୋଇ ମାୟୋସିନ୍ ଏଟିପିଏସ୍‌କୁ କ୍ରିୟାଶୀଳ କରିଥାଏ ।
- (3) ଆକ୍ଟିନ୍ ଫିଲାମେଣ୍ଟରୁ ମାୟୋସିନ୍‌ର ଅଗ୍ରଭାଗକୁ ଅଲଗା କରିଦେଇଥାଏ ।
- (4) ମାୟୋସିନ୍ କ୍ରସ୍ ବ୍ରିଜ୍ ଓ ଆକ୍ଟିନ୍ ଫିଲାମେଣ୍ଟ ମଧ୍ୟରେ ବନ୍ଧନ ସୃଷ୍ଟିକୁ ପ୍ରତିରୋଧ କରିଥାଏ ।

180. ନିମ୍ନରେ ଦିଆଯାଇଥିବା କେଉଁଟି ବୃତ୍ତିଜନିତ ଶ୍ୱାସକ୍ରିୟା ଅସୁସ୍ଥତା ?

- (1) ଆନ୍ଥ୍ରାକ୍ସିସ୍
- (2) ସିଲିକୋସିସ୍
- (3) ବୋଟୁଲିଜିମ୍
- (4) ଇମ୍‌ଫାଇସେମା

Read carefully the following instructions :

ନିମ୍ନଲିଖିତ ନିର୍ଦ୍ଦେଶାବଳୀକୁ ଧ୍ୟାନ ସହିତ ପଢ଼ :

1. Each candidate must show on demand his/her Admit Card to the Invigilator.
 2. No candidate, without special permission of the Superintendent or Invigilator, would leave his/her seat.
 3. The candidates should not leave the Examination Hall without handing over their Answer Sheet to the Invigilator on duty and sign the Attendance Sheet twice. **Cases where a candidate has not signed the Attendance Sheet second time will be deemed not to have handed over the Answer Sheet and dealt with as an unfair means case.**
 4. Use of Electronic/Manual Calculator is prohibited.
 5. The candidates are governed by all Rules and Regulations of the examination with regard to their conduct in the Examination Hall. All cases of unfair means will be dealt with as per Rules and Regulations of this examination.
 6. No part of the Test Booklet and Answer Sheet shall be detached under any circumstances.
 7. The candidates will write the Correct Test Booklet Code as given in the Test Booklet/Answer Sheet in the Attendance Sheet.
1. ନିରୀକ୍ଷକଙ୍କ ଦ୍ୱାରା ଦାବି କରାଗଲେ ପ୍ରତ୍ୟେକ ପ୍ରାର୍ଥୀଙ୍କୁ ନିଜ ନିଜର ପ୍ରବେଶ ପତ୍ର ବାଧ୍ୟତାମୂଳକ ଭାବେ ପ୍ରଦର୍ଶନ କରିବାକୁ ହେବ ।
 2. ଅଧୀକ୍ଷକ କିମ୍ବା ନିରୀକ୍ଷକଙ୍କ ସ୍ୱତନ୍ତ୍ର ଅନୁମତି ବିନା କୌଣସି ପ୍ରାର୍ଥୀ ସେମାନଙ୍କର ଆସନ ଛାଡ଼ିପାରିବେ ନାହିଁ ।
 3. କର୍ତ୍ତବ୍ୟରତ ନିରୀକ୍ଷକଙ୍କୁ ଉତ୍ତର ପତ୍ର ହସ୍ତାନ୍ତର ନ କରି ଏବଂ ଉପସ୍ଥିତି ପତ୍ରରେ ଦୁଇଥର ସ୍ୱାକ୍ଷର ନ କରି ପ୍ରାର୍ଥୀ ପରୀକ୍ଷା ହଲରୁ ବାହାରି ପାରିବେ ନାହିଁ । ଯଦି କୌଣସି କ୍ଷେତ୍ରରେ ପ୍ରାର୍ଥୀ ଉପସ୍ଥିତି ଫର୍ମରେ ଦ୍ୱିତୀୟ ଥର ପାଇଁ ସ୍ୱାକ୍ଷର କରି ନ ଥାନ୍ତି ତେବେ ଏହା ଧରି ନିଆଯିବ ଯେ ସେ ଉତ୍ତର ପତ୍ର ଫେରାଇନାହାନ୍ତି ଏବଂ ଏହାକୁ ଏକ ଅସାଧୁ ଉପାୟ ଅବଲମ୍ବନ ମାମଲା ଭାବେ ବିବେଚନା କରାଯିବ ।
 4. ଇଲେକ୍ଟ୍ରୋନିକ୍/ମାନୁଆଲ୍ କାଲ୍କୁଲେଟରର ପ୍ରୟୋଗ ନିଷେଧ ।
 5. ପରୀକ୍ଷା ହଲରେ ସେମାନଙ୍କ ଆଚରଣ ପ୍ରସଙ୍ଗରେ ପ୍ରାର୍ଥୀମାନେ ପରୀକ୍ଷାର ସମସ୍ତ ନିୟମାବଳୀ ଓ ବ୍ୟବସ୍ଥାପନ ଦ୍ୱାରା ଅନୁଶାସିତ ହେବେ। ସମସ୍ତ ଅସାଧୁ ଉପାୟ ଅବଲମ୍ବନ ମାମଲା ଉପରେ ପରୀକ୍ଷାର ନିୟମାବଳୀ ଓ ବ୍ୟବସ୍ଥାପନ ଅନୁଯାୟୀ କାର୍ଯ୍ୟାନୁଷ୍ଠାନ ଗ୍ରହଣ କରାଯିବ ।
 6. ପରୀକ୍ଷା ପୁସ୍ତକ ଏବଂ ଉତ୍ତର ପତ୍ରର କୌଣସି ଅଂଶକୁ କୌଣସି ପରିସ୍ଥିତିରେ ମଧ୍ୟ ଅଲଗା କରାଯାଇପାରିବ ନାହିଁ ।
 7. ପ୍ରାର୍ଥୀମାନଙ୍କୁ ପରୀକ୍ଷା ପୁସ୍ତକ/ଉତ୍ତର ପତ୍ରରେ ଦିଆଯାଇଥିବା ପୁସ୍ତକ କୋଡ୍‌କୁ ଠିକ୍ ଭାବେ ଉପସ୍ଥିତି ପତ୍ରରେ ଲେଖିବାକୁ ହେବ ।