

This Question Paper Consists of 30 questions and 12 printed pages.
इस प्रश्न-पत्र में 30 प्रश्न और 12 मुद्रित पृष्ठ हैं।

Roll No.

--	--	--	--	--	--	--	--	--	--	--	--

अनुक्रमांक

Code No. 59/OSS/2
कोड नं.

SET/सेट **B**

CHEMISTRY

रसायनविज्ञान

(313)

Day and Date of Examination
(परीक्षा का दिन व दिनांक) _____

Signature of Invigilators 1. _____
(निरीक्षकों के हस्ताक्षर)
2. _____

General Instructions :

- 1 Candidate must write his/her Roll Number on the first page of the Question Paper.
- 2 Please check the Question Paper to verify that the total pages and total number of questions contained in the Question Paper are the same as those printed on the top of the first page. Also check to see that the questions are in sequential order.
- 3 Making any identification mark in the Answer-Book or writing Roll Number anywhere other than the specified places will lead to disqualification of the candidate.
- 4 Write your Question Paper Code No. 59/OSS/2, Set-**B** on the Answer-Book.
- 5 (a) The Question Paper is in English/Hindi medium only. However, if you wish, you can answer in any one of the languages listed below :
English, Hindi, Urdu, Punjabi, Bengali, Tamil, Malayalam, Kannada, Telugu, Marathi, Oriya, Gujarati, Konkani, Manipuri, Assamese, Nepali, Kashmiri, Sanskrit and Sindhi.
You are required to indicate the language you have chosen to answer in the box provided in the Answer-Book.
- (b) If you choose to write the answer in the language other than Hindi and English, the responsibility for any errors/mistakes in understanding the question will be yours only.

सामान्य अनुदेश :

- 1 परीक्षार्थी प्रश्न-पत्र के पहले पृष्ठ पर अपना अनुक्रमांक अवश्य लिखें ।
- 2 कृपया प्रश्न-पत्र को जाँच लें कि प्रश्न-पत्र के कुल पृष्ठों तथा प्रश्नों की उतनी ही संख्या है जितनी प्रथम पृष्ठ के सबसे ऊपर छपी है । इस बात की जाँच भी कर लें कि प्रश्न क्रमिक रूप में हैं ।
- 3 उत्तर-पुस्तिका में पहचान-चिह्न बनाने अथवा निर्दिष्ट स्थानों के अतिरिक्त कहीं भी अनुक्रमांक लिखने पर परीक्षार्थी को अयोग्य ठहराया जायेगा ।
- 4 अपनी उत्तर-पुस्तिका पर प्रश्न-पत्र की कोड संख्या 59/OSS/2, सेट-**B** लिखें ।
- 5 (क) प्रश्न-पत्र केवल हिंदी/अंग्रेजी माध्यम में है । फिर भी, यदि आप चाहें तो नीचे दी गई किसी एक भाषा में उत्तर दे सकते हैं :
अंग्रेजी, हिंदी, उर्दू, पंजाबी, बंगला, तमिल, मलयालम, कन्नड़, तेलुगु, मराठी, उड़िया, गुजराती, कोंकणी, मणिपुरी, असमिया, नेपाली, कश्मीरी, संस्कृत और सिंधी ।
कृपया उत्तर-पुस्तिका में दिए गए बॉक्स में लिखें कि आप किस भाषा में उत्तर लिख रहे हैं ।
(ख) यदि आप हिंदी एवं अंग्रेजी के अतिरिक्त किसी अन्य भाषा में उत्तर लिखते हैं तो प्रश्न को समझने में होने वाली त्रुटियों / गलतियों की जिम्मेदारी केवल आपकी होगी ।

59/OSS/2-313-B]

1



[Contd...

CHEMISTRY

रसायनविज्ञान

(313)

Time : 3 Hours]

[Maximum Marks : 80

समय : 3 घण्टे]

[पूर्णांक : 80

- Note :**
- All questions are **compulsory**.
 - Marks allotted are indicated against each question.
 - Each question from Question Nos. 1 to 10 has four alternatives - (A), (B), (C) and (D), out of which one is most appropriate. Choose the correct answer among the four alternatives and write it in your Answer-Book against the number of the question. No extra time is allotted for attempting multiple choice questions.
 - Use log tables, if necessary.
- निर्देश :**
- सभी प्रश्नों के उत्तर दीजिए ।
 - प्रत्येक प्रश्न के सामने उसके अंक दर्शाये गए हैं ।
 - प्रश्न संख्या 1 से 10 में प्रत्येक प्रश्न में चार विकल्प – (A), (B), (C) तथा (D) हैं, जिनमें से एक सबसे उपयुक्त है । चारों विकल्पों में से सही उत्तर चुनें तथा अपनी उत्तर-पुस्तिका में प्रश्न संख्या के सामने उत्तर लिखें । बहु-विकल्पी प्रश्नों के लिये अतिरिक्त समय नहीं दिया जायेगा ।
 - यदि आवश्यक हो, तो लॉग टेबल का प्रयोग करें ।

- 1 The shape of the orbital with value $l = 0$ is : 1
- (A) spherical (B) dumb-bell
(C) cloverleaf (D) square planar
- $l = 0$ के मान के संगत कक्षक की आकृति है
- (A) गोलाकार (B) डमरू
(C) क्लोवर पत्ती (D) वर्ग समतलीय
- 2 20 mL of 0.10 M NaOH is added into 20 mL of 0.10 M HCl. The pH 1
of the solution :
- 0.10 M NaOH के 20 mL को 0.10 M HCl के 20 mL में मिलाया जाता है ।
विलयन की pH होगी –
- (A) 5 (B) 6
(C) 7 (D) 8

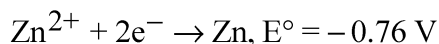
59/OSS/2-313-B]

2



[Contd...

- 3 The standard electrode potential E° for the half reaction are as : 1



The e.m.f. of cell reaction $\text{Fe}^{2+} + \text{Zn} \rightarrow \text{Zn}^{2+} + \text{Fe}$ is

अर्ध अभिक्रियाओं के लिए मानक इलेक्ट्रोड विभव इस प्रकार हैं :



$\text{Fe}^{2+} + \text{Zn} \rightarrow \text{Zn}^{2+} + \text{Fe}$ सेल अभिक्रिया का e.m.f. है :

- (A) -0.35 V (B) $+0.35 \text{ V}$
(C) $+1.17 \text{ V}$ (D) -1.17 V

- 4 Which one of the following is strongest acid ? 1

निम्नलिखित में से कौन-सा प्रबलतम अम्ल है ?

- (A) HF (B) HCl
(C) HBr (D) HI

- 5 Which of the following is not coloured ? 1

निम्नलिखित में कौन-सा रंगीन नहीं है ?

- (A) Mn^{3+} (B) Cr^{3+}
(C) Sc^{3+} (D) Ti^{3+}

- 6 Among the following compounds, the most reactive towards electrophilic nitration is : 1

- (A) Benzoic acid (B) Nitrobenzene
(C) Toluene (D) Benzene

निम्नलिखित यौगिकों में कौन-सा इलेक्ट्रॉनरागी नाइट्रीकरण के लिए अत्यधिक अभिक्रियाशील है ?

- (A) बेन्जोइक एसिड (B) नाइट्रोबेन्ज़ीन
(C) टॉलुईन (D) बेन्ज़ीन



7 The compressibility factor of an ideal gas is : 1

एक आदर्श गैस का संपीड्यता गुणक होता है :

- (A) 0 (B) 1
(C) 2 (D) 4

8 A cricket ball of 0.5 kg is moving with a velocity of 100 ms^{-1} . 1

The wavelength associated with its motion is :

(given : $h = 6.6 \times 10^{-34} \text{ kg m}^2 \text{ s}^{-1}$)

0.5 kg की एक क्रिकेट गेंद 100 ms^{-1} वेग से चल रही है । इसकी गति की तरंगदैर्घ्य है :

(दिया है : $h = 6.6 \times 10^{-34} \text{ kg m}^2 \text{ s}^{-1}$)

- (A) $1/100 \text{ cm}$ (B) $6.6 \times 10^{-34} \text{ m}$
(C) $1.32 \times 10^{-35} \text{ m}$ (D) $6.6 \times 10^{-28} \text{ m}$

9 At what temperature the volume of a gas would become zero ? 1

किस तापमान पर गैस का आयतन शून्य होगा ?

- (A) -273.15° C (B) 273° C
(C) 273 K (D) 0° C

10 The quantum number which determines the shape of orbital is : 1

- (A) principal (B) azimuthal
(C) magnetic (D) spin

क्वान्टम संख्या जो कि कक्षक की आकृति का पता लगाता है :

- (A) मुख्य (B) एजीम्यूथल
(C) चुम्बकीय (D) स्पिन



- 11 Define standard enthalpy of formation. How is it different from standard enthalpy of reaction ? 2

मानक संभवन एंथैल्पी को परिभाषित कीजिए । यह अभिक्रिया की मानक एंथैल्पी से किस प्रकार भिन्न है ?

- 12 Which one is more stable Li_2CO_3 or Na_2CO_3 ? Justify your answer. 2

Li_2CO_3 और Na_2CO_3 में कौन अधिक स्थायी होता है ? अपने उत्तर का औचित्य दीजिए ।

- 13 How will you carry out the following conversions : 2

(i) Phenyl magnesium bromide to benzoic acid

(ii) Benzene to aniline

निम्नलिखित रूपांतरणों को आप किस प्रकार करेंगे ?

(i) फेनिल मैग्नीशियम ब्रोमाइड से बेन्जोइक अम्ल

(ii) बेन्ज़ीन से ऐनिलीन

- 14 Name the polymer which is obtained by combination of 2 parts of butadiene and one part of acrylonitrile. Give its two uses. 2

दो भाग ब्युटाडाइन और एक भाग एक्राइलोनोनाइट्राइल के संयोजन से बनने वाले बहुलक का नाम बताइए । इसके दो उपयोग दीजिए ।

- 15 What are biodegradable polymers ? Give two examples. 2

जैवनिम्नीकृत बहुलक क्या होते हैं ? दो उदाहरण दीजिए ।



- 16 Calculate the uncertainty in velocity of a cricket ball of mass 100 g, its uncertainty in its position is 10^{-10} m. ($h = 6.6 \times 10^{-34}$ kg m² s⁻¹) 2

यदि स्थिति की अनिश्चितता 10^{-10} m है तो 100 g द्रव्यमान की क्रिकेट गेंद की वेग की अनिश्चितता परिकलित कीजिए । ($h = 6.6 \times 10^{-34}$ kg m² s⁻¹)

- 17 Write down the differences between rate of reaction and rate constant. 2

अभिक्रिया की दर और दर स्थिरांक के बीच में विभिन्नतायें लिखिए ।

- 18 Why are detergents advantageous over soaps ? Why are straight chain hydrocarbon detergents preferred over branched ? 2

साबुन की अपेक्षा अपमार्जक क्यों लाभकारी होते हैं ? रेखीय श्रृंखला के हाइड्रोकार्बन वाले अपमार्जकों को शाखित अपमार्जकों की अपेक्षा अधिक वरीयता क्यों दी जाती है ?

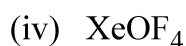
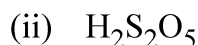
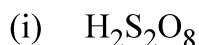
- 19 An oxide of Chromium is found to have the following % composition : 68.4% Cr and 31.6% Oxygen. Determine the empirical formula of the compound. 2

(Atomic mass of Cr = 52 g mol⁻¹ and O = 16 g mol⁻¹)

एक क्रोमियम के ऑक्साइड में निम्नलिखित % संघटन पाया जाता है : 68.4% Cr और 31.6% ऑक्सीजन । यौगिक के मूलानुपाती सूत्र ज्ञात कीजिए ।
(परमाण्विक द्रव्यमान : Cr = 52 g mol⁻¹, O = 16 g mol⁻¹)

- 20 Draw the structures of the following : 4

निम्नलिखित की संरचनायें आरेखित कीजिए :



23 Explain the following name reactions : 4

(i) Hell-Volhard-Zelinsky reaction.

(ii) Wolff-Kishner reduction.

Write chemical equations involved.

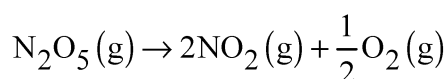
निम्नलिखित नामित अभिक्रियाओं की व्याख्या कीजिए :

(i) हेल-फोलाई-जेलिंस्की अभिक्रिया

(ii) वुल्फ-किश्नर अपचयन अभिक्रिया

समाविष्ट रासायनिक समीकरणों को लिखिए ।

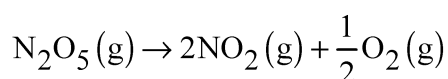
24 (a) The initial concentration of N_2O_5 in the following first order reaction 4



was $1.24 \times 10^{-2} \text{ mol L}^{-1}$ at 318 K. The concentration of N_2O_5 after 60 minutes was $0.2 \times 10^{-2} \text{ mol L}^{-1}$. Calculate the rate constant of the reaction at 318 K.

(b) The pH of a sample of rain water at 25°C is 5. Find the concentration of hydronium ion in it.

(a) निम्नलिखित प्रथम कोटि अभिक्रिया में N_2O_5 की 318 K पर प्रारम्भिक सांद्रता $1.24 \times 10^{-2} \text{ mol L}^{-1}$ थी

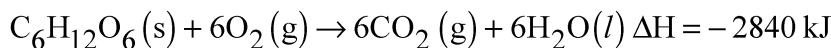


60 मिनट के बाद N_2O_5 की सांद्रता $0.2 \times 10^{-2} \text{ mol L}^{-1}$ थी । 318 K पर अभिक्रिया का दर स्थिरांक परिकलित कीजिए ।

(b) 25°C पर वर्षा के जल के नमूने की pH 5 है । इसमें हाइड्रोनियम आयन की सांद्रता ज्ञात कीजिए ।

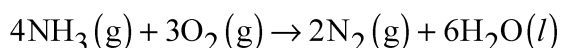


- 25 (a) The heat evolved in the combustion of glucose is as shown in the following equation 4



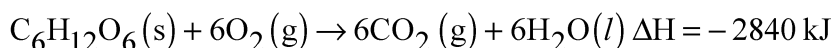
How much energy will be required for production of 1.08 g of glucose ?

- (b) Calculate the enthalpy change in the reaction



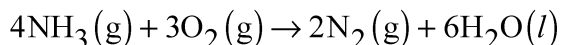
at 298 K. Given that enthalpy of formation for $NH_3(g)$ and $H_2O(l)$ are -46.0 kJ and $-286.0 \text{ kJ mol}^{-1}$ respectively.

- (a) ग्लूकोस के दहन से उत्पन्न ऊर्जा निम्नलिखित समीकरण में दी गई है :



1.08 g ग्लूकोस के उत्पादन के लिए कितनी ऊर्जा की आवश्यकता होगी ?

- (b) 298 K पर दी गई अभिक्रिया की एन्थैल्पी परिवर्तन परिकलित कीजिए ।



$NH_3(g)$ और $H_2O(l)$ की संभवन एन्थैल्पी क्रमशः -46.0 kJ और $-286.0 \text{ kJ mol}^{-1}$ है ।

- 26 A solution of sucrose (molar mass 342 g mol^{-1}) is prepared by dissolving 68.4 g in 1000 g of water. Find : 4

(i) Boiling point of solution

(ii) Freezing point of solution.

(For water $K_b = 0.52 \text{ km}^{-1}$ and $K_f = 1.86 \text{ km}^{-1}$)

68.4 g सुक्रोज (मोलर द्रव्यमान 342 g mol^{-1}) को 1000 g जल में विलेय करके विलयन बनाया गया । इस विलयन का (i) क्वथनांक (ii) हिमांक ज्ञात कीजिए ।

(जल के लिए $K_b = 0.52 \text{ km}^{-1}$ और $K_f = 1.86 \text{ km}^{-1}$)



27 (a) Although C–O bond is polar but CO₂ has zero dipole moment. Why ? 6

(b) According to VSEPR model what is the expected shape of molecules and arrangement of electron pairs of AX₃ and AX₆ type of molecules.

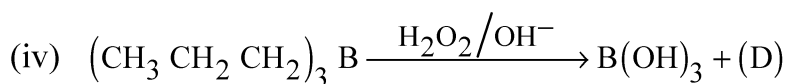
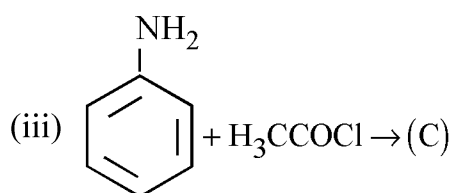
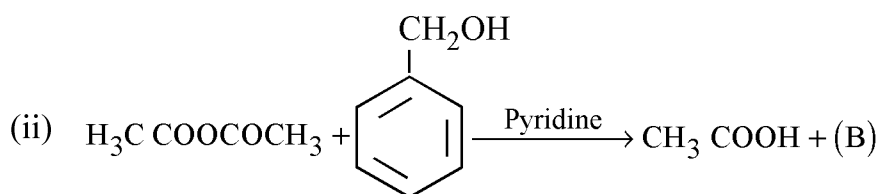
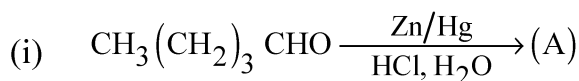
(c) Name the factors which increase the covalent character of an ionic bond.

(a) यद्यपि C - O आबंध ध्रुवीय होता है लेकिन CO₂ का द्विध्रुव आघूर्ण शून्य होता है । क्यों ?

(b) वी एस ई पी आर सिद्धांत के अनुसार AX₃ और AX₆ अणुओं की आकृति और इलेक्ट्रॉन युग्म की व्यवस्था क्या होगी ?

(c) उन कारकों के नाम बताइयें जो कि आयनिक आबंध में सहसंयोजक आबंध के लक्षणों की वृद्धि करते हैं ।

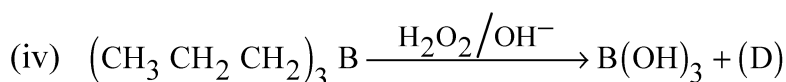
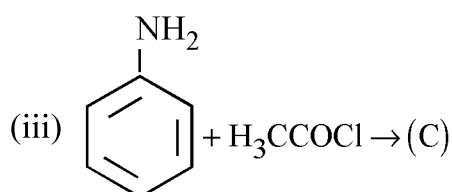
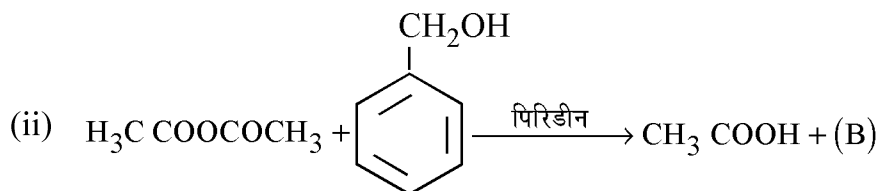
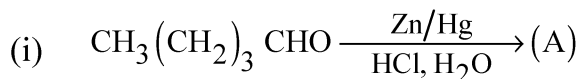
28 (a) Identify A, B, C and D and write their names. 6



(b) Chlorobenzene is extremely less reactive towards a nucleophilic substitution reaction. Give two reasons for the same.

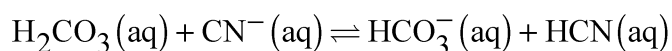
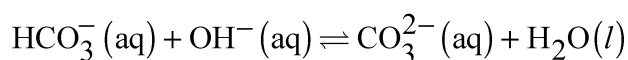


(a) A, B, C और D की पहचान कीजिए और उनके नाम लिखिए ।

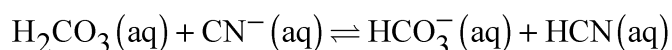
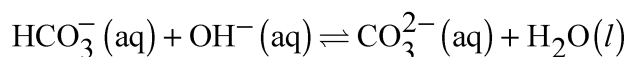


(b) क्लोरोबेन्जीन नाभिकरागी प्रतिस्थापन अभिक्रिया के प्रति अत्यधिक कम अभिक्रियाशील होती है । इसके दो कारण दीजिए ।

- 29** (a) What is the effect of common ions on the dissociation of weak acids and weak bases ? Define pH of a solution. **6**
- (b) What is the relationship between molar conductivity and conductivity. Derive the unit of Λ_m .
- (c) What is amphiprotic species ? Name the amphiprotic species in the given reaction :



- (a) दुर्बल अम्ल और दुर्बल क्षारों के वियोजन पर समआयनों का प्रभाव क्या होता है ? विलयन की pH को परिभाषित कीजिए ।
- (b) मोलर चालकता और चालकता में क्या सम्बंध होता है । Λ_m की इकाई व्युत्पन्न कीजिए ।
- (c) उभयप्रोटोनिक स्पीसीज क्या होती है ? दी गई अभिक्रियाओं में उभयप्रोटोनिक स्पीसीज को पहचानिए :



- 30 (a) Write the state of hybridization, the shape and magnetic behaviour of the following complexes : 6



- (b) Draw the geometrical isomers of $[\text{Cr}(\text{en})_2\text{Cl}_2]^+$ complex.

- (c) Write the IUPAC name of $[\text{Cr}(\text{H}_2\text{O})_2(\text{C}_2\text{O}_4)_2]^-$.

- (a) निम्नलिखित संकुलों की संकरण अवस्था, आकृति और चुम्बकीय व्यवहार लिखिए :



- (b) $[\text{Cr}(\text{en})_2\text{Cl}_2]^+$ संकुल के ज्यामितीय समावयवों को आरेखित कीजिए ।

- (c) $[\text{Cr}(\text{H}_2\text{O})_2(\text{C}_2\text{O}_4)_2]^-$ संकुल का आई यू पी ए सी नाम लिखिए ।
-

